

EĞLENCELİ-YARATICI ETKİNLİKLER

ADINIZ SOYADINIZ:

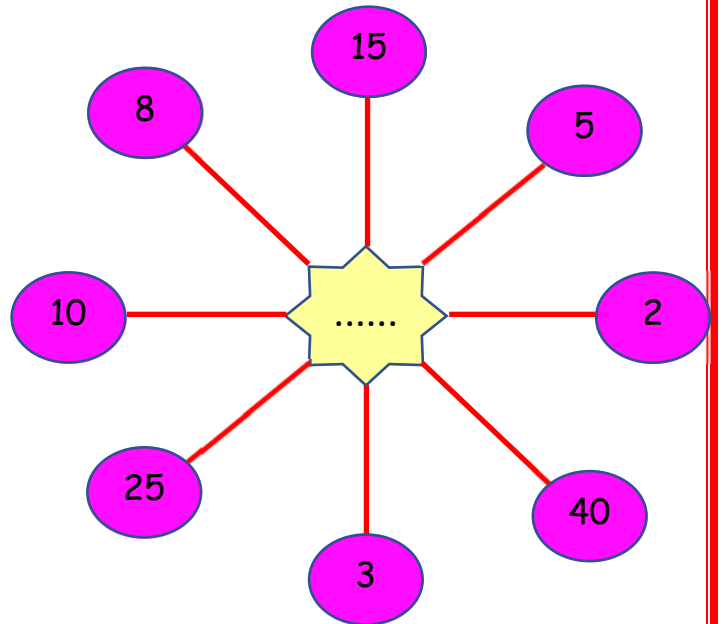
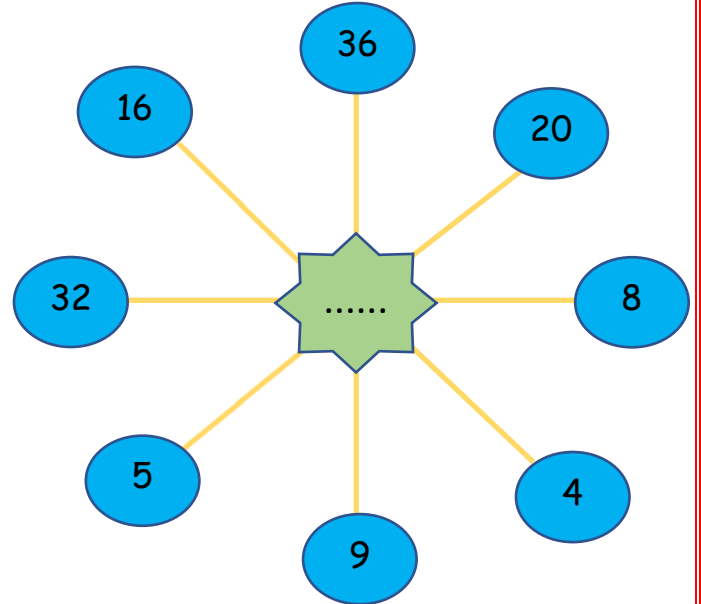


1. Kutularda verilen işlemleri yapalım.
2. Her kutudaki sonucu 'en küçük' ve 'en büyük' işlemleri bulup kutulardaki yerine yazalım.
3. Kutularda verilen toplamla kendi sonuçlarımızın toplamını karşılaştıralım



Aşağıdaki şekillerde verilen sayılar belirli kurallara göre dizilmiştir. Her sayı dizisi bir kurala ve bir işleme göre belirlenmiştir. Bu kuralları ve işlemleri tespit edip verilmeyen sayıları bulabilir misiniz?

1	$12 \div 3 = \dots$ $3 \times 5 = \dots$ $8 \times 2 = \dots$	2	$9 \times 3 = \dots$ $45 \div 5 = \dots$ $36 \div 9 = \dots$
3	$3 \times 8 = \dots$ $27 \div 3 = \dots$ $2 \times 9 = \dots$	4	$10 \times 3 = \dots$ $2 \times 7 = \dots$ $40 \div 4 = \dots$



En Küçük

1. =
2. =
3. =
4. =

27

Toplam =

En Büyük

1. =
2. =
3. =
4. =

97

Toplam =

MATEMATİK

Aşağıda verilen paraların istenilen kadarıyla alttaki paraları eşleştirelim. İfadelerin karşılığı olan paraların başındaki kutulara numaraları yazalım.



Tamamı	Yarısı	Çeyreği	Fazlası
1	2	3	4

.....   

.....  

.....      

..... 



Tamamı	Yarısı	Çeyreği	Fazlası
1	2	3	4

..... 

.....   




.....  




.....  









Aşağıdaki görsellerden yararlanarak hayvan dostlarımızın boylarının uzunluklarını bulalım ve yazalım. En kısa olandan en uzun olana sıralayalım.

 +  = 100 cm

 +  +  = 90 cm

 +  +  = 50 cm

 +  +  +  = 30 cm

 +  = 75 cm

Kurt: Karınca: Tavşan:



Köpek:

Zebra:

En Kısa

En Uzun

..... - - -



MATEMATİK



Verilen varlık gruplarını uzunluklarına göre kısıdan uzuna doğru sıralayalım. Altlarındaki kutucuklara numara verelim.

masa	silgi	kalem	çanta
------	-------	-------	-------






bisiklet	otomobil	tır	kamyon
----------	----------	-----	--------



deve	civciv	hindi	inek
------	--------	-------	------




telefon	bilgisayar	kitap	kalem
---------	------------	-------	-------





ev	karınca	kalem	insan
----	---------	-------	-------



zürafa	köpek	tavuk	fil
--------	-------	-------	-----



havuç	pırasa	nohut	pirinç
-------	--------	-------	--------



Verilen bilgilere göre çiftlikteki hayvanların sayılarını ve toplamını bulalım.

Halo Dayı'nın Çiftliği



Halo Dayı'nın çiftliğinde;

- 3 tane kedi, kedilerin sayısından iki fazla köpek
- 9 tane tavuk, tavukların sayısından iki eksik tavşan
- 4 tane koyun, koyunların sayısından iki fazla keçi
- 3 tane inek, ineklerin sayısından bir eksik at
- Atların sayısından üç fazla hindi
- Hindilerin sayısından iki fazla ördek
- Ördeklerin sayısından dört eksik horoz yaşamaktadır.

Bu çiftlikteki hayvanların toplam sayısı kaçtır?

Kedi	→	Koyun	→
Hindi	→	Köpek	→
Keçi	→	Ördek	→
Tavuk	→	İnek	→
Horoz	→	Tavşan	→
At	→			
			TOPLAM	→

