



KİTAP TANITIM VIDEOSU
TIKLA İÇERİĞİNİ ÖĞREN



FUFUK İLE TÜRKİYE MACERASI

DEV İNDİRİM
BAŞLADI

7 KİTAP

22TL



WHATSAPP SİPARİŞ

0 552 252 83 85

TEKLİ SİPARİŞ FİYATI = 30 TL

✓ 1.Sınıf ✓ 2.Sınıf
✓ 3.Sınıf ✗ 4.Sınıf

Bulmacalı Türkiye
Haritası Hediye

Hediye



KARGO
BEDAVA



KİTAP TANITIM VIDEOSU
TIKLA İÇERİĞİNİ ÖĞREN



FUFUK İLE HIZLI VE ANLAMLI OKUYORUM

DEV İNDİRİM
BAŞLADI

5 KİTAP

18TL



WHATSAPP SİPARİŞ

0 552 252 83 85

TEKLİ SİPARİŞ FİYATI = 25 TL

✓ 1.Sınıf ✓ 2.Sınıf
✓ 3.Sınıf ✓ 4.Sınıf

Her kitaba özel
Değerlendirme Kitapçığı



KARGO
BEDAVA

3. Hafta

Konu : 1. ve 2. Hafta
Tekrar Çalışmaları

Ad :

Soyad :

➡ Türkçe ⬅

FUFUK Haftalık Çalışma Kitabı

ETKİNLİK



1 Hayvanların isimlerini altına yazalım. Ünlü harf sayısını soldaki kutucuğun içine, ünsüz harf sayısını sağdaki kutucuğun içine yazalım.



2

3

aslan



ETKİNLİK

2 Aşağıda tabloda verilen sözcükleri örnekteki gibi yazalım.

Sözcük	Harf Sayısı	Kalın Ünlü Harf	İnce Ünlü Harf	Ünsüz Harf
Bursa	5	u-a	-	b-r-s
Mardin				
Diyarbakır				
İstanbul				
İzmir				
Kastamonu				
Zonguldak				
Trabzon				
Eskişehir				

3 Aşağıda verilen sözcükleri alfabetik sıraya göre sıralayalım.
Sıralı verilen sözcüklerde ise boş bırakılan yerleri tamamlayalım.

Zeytin	1	Araba	1	Ege
Zebra	2	Aslan	2	
Zahide	3		3	Elif
Zürafa	4	At	4	Eymen
Balık	1		1	Sakız
Bal	2	Beril	2	Saz
Balina	3	Berna	3	Şişe
Bakkal	4	Beyaz	4	

4 Aşağıda verilen varlıkların isminin son hecesi ile başlayan örnekteki gibi iki yeni kelime türetelim.



baba



balık



3. Hafta

Konu : Sözcük Bilgisi

Ad :

Soyad :

FUFUK Haftalık Çalışma Kitabı

➔ Türkçe ➔



BİLGİ

Anlamına Göre Sözcükler

Zıt Anamlı Sözcükler



açık ✗ kapalı

Anlamı : Zıt
Yazılışı : Farklı


Eş Anamlı Sözcükler



kafa = baş

Anlamı : Eş
Yazılışı : Farklı

Eş Sesli Sözcükler



gül gül

Anlamı : Farklı
Yazılışı : Aynı

ETKİNLİK

1 Aşağıda verilen sözcüklerin zıt anlamlarını altlarına yazınız.

pahalı

uzak

sabah

zengin

ödül

geniş

gece

güzel

cimri

hızlı

çok

yumuşak

hafif

yüksek

kuru

temiz

tatlı

doğu

kuzey

soru

2 Aşağıda verilen sözcüklerin eş anlamlarını altlarına yazınız.

kelime

cümle

doktor

öğretmen

öğrenci

deprem

siyah

beyaz

kırmızı

iri

soru

cevap

görev

millet

vatan

yıl

3 Aşağıda verilen sözcüklerden eş sesli olanların başındaki kutucuğu işaretleyelim.

çay

kır

tahta

dal

masa

yaz

at

bin

yat

telefon

dolü

bağ

saç

kapı

düş

diz

kaz

yüz

yaş

yol

saat

4 Aşağıdaki cümlelerde zıt anlamı olan kelimeyi bulup altını çizelim. Bulduğun kelimenin zıt anlamını cümle içinde kullanalım.



Çalışkan çocuk öğretmenin verdiği ödevi sınıfta yaptı.



Bugün mutfaktaki halıyı ben temizledim.



Okuldaki arabayı zengin çocuk sürüyordu.



Evdeki eski eşyalarını ihtiyacı olan çocuklara hediye etti.



Babam pazardan elma, armut, çilek ve muz aldı.

5 Aşağıdaki cümlelerde eş anlamı olan kelimeyi bulup altını çizelim. Bulduğun kelimenin eş anlamıyla farklı bir cümle yazalım.



Huzurevindeki yaşlı teyze beni duygulandırdı.



Depremden olunca sokaktaki yolların çatladığını gördüm.



Babam misafirlerin ellerine kolonyağı döküp şeker verdi.




Pandemi sürecinde sokakta maske takmak zorundayız.



Kitaptaki soruyu defterine yazdı.

6 Aşağıda resimleri inceleyiniz. Resimlerin anlamlarına göre cümle yazalım. Cümlede kullandığımız ortak kelimeyi bulalım.



1

SORU

6 harfli 2 heceli iki tane kelime yazar mısın?

Cevap :

2

SORU

6 harfli 3 heceli iki tane kelime yazar mısın?

Cevap :

3

SORU

Sözlükte "Bal" kelimesi ile "Burak" kelimesi arasında olan iki sözcük yazar mısın?

Cevap :

4

SORU

Sözlükte "Lale" kelimesi ile "Mine" kelimesi arasında olan iki sözcük yazar mısın?

Cevap :

5

SORU

"yemek" "uzak" "anı" yukarıdaki sözcüklerin eş anlamlarını bulup alfabetik sıraya göre sıralayınız.

Cevap :

6

SORU

"cevap" "vatan" "asır" yukarıdaki sözcüklerin eş anlamlarını bulup alfabetik sıraya göre sıralayınız.

Cevap :

7

SORU

"uzun" "ince" "temiz" yukarıdaki sözcüklerin zıt anlamlarını bulup alfabetik sıraya göre sıralayınız.

Cevap :


8

SORU

Bu etkinlik sayfalarında hiç yazılmamış 4 tane eş sesli kelime bulup yazar mısın?

Cevap :

1 Hangi hayvanın adında "yi" hecesi **yoktur**?



2

sur	us	ce
yi	in	sa


Yukarıda verilen heceler ile hangi sözcüğün zıt anlamı **yazılamaz**?

- A acemi B kalın
C korkak

3

 okul  görev
 yüz

Yukarıda verilen sözcüklerden hangisinin eş anlamı **yoktur**?



4 Yandaki resmin zıt anlamlısı aşağıdakilerden hangisi **olamaz**?



- A zayıf B taze
C yaşlı

5 Aşağıdaki cümlelerin hangisinde hem zıt anlamı olan hem de eş anlamı olan sözcükler kullanılmıştır?

- A Sokakta herkes top oynuyor.
B Öğretmen okula bisikletle geldi.
C Kahvaltıda peynir yedim.


6  Deprem olunca ev sallandı.

Fufuk'un söylediği cümlede altı çizili sözcük yerine hangisini yazarsak cümlenin anlamı **değişmez**?

- A zelzele B konuk
C konuk

7

yol	bağ
saz	sil

 Eş sesli olan sözcükleri tahtaya yazacağım.

Buna göre Bilgin Eli tahtaya kaç sözcük yazmış olur?

- A 1 B 2 C 3

CEVAPLAR

- | | | | |
|---|-------------|---|------------------------|
| 1 | (A) (B) (C) | 5 | (A) (B) (C) |
| 2 | (A) (B) (C) | 6 | (A) (B) (C) |
| 3 | (A) (B) (C) | 7 | (A) (B) (C) |
| 4 | (A) (B) (C) | 8 | (A) (B) (C) |

BİLGİ

En Yakın Onluğa Yuvarlama :

Birler basamağına bakarız. 4 ve 4'ten küçükse bir önceki onluğa, 5 ve 5 ten büyükse bir sonraki onluğa yuvarlanır.

342 en yakın onluğu 340'tır.

586 en yakın onluğu 590'dır.



En Yakın Yüzlüğe Yuvarlama :

Onlar basamağına bakarız. 4 ve 4'ten küçükse bir önceki yüzlüğe, 5 ve 5 ten büyükse bir sonraki yüzlüğe yuvarlanır.

362 en yakın yüzlüğü 400'tür.

586 en yakın yüzlüğü 600'dür.

ETKİNLİK

1 Aşağıda verilen sayıların en yakın onluğunu ve en yakın yüzlüğünü bulalım.

En Yakın Onluğu

Sayı

En Yakın Yüzlüğü

En Yakın Onluğu

Sayı

En Yakın Yüzlüğü

← 336 →

← 425 →

← 281 →

← 708 →

← 666 →

← 444 →

← 813 →

← 945 →

← 628 →

← 304 →

← 255 →

← 142 →

← 391 →

← 415 →

← 505 →

← 618 →

← 774 →

← 857 →

← 454 →

← 589 →

2 Aşağıda verilen bilgilere göre işaretleme yapınız.



En yakın onluğu 350 olan sayıları işaretle



349

451

362

355

352

248

347



En yakın yüzlüğü 500 olan sayıları işaretle



452

375

446

546

450

550

521



En yakın onluğu 620 olan sayıları işaretle



615

625

518

623

617

520

600



En yakın yüzlüğü 700 olan sayıları işaretle



640

666

655

645

770

726

740



En yakın onluğu 290 olan sayıları işaretle



302

292

282

285

295

305

347



En yakın yüzlüğü 400 olan sayıları işaretle



289

363

450

474

390

408

435



En yakın onluğu 830 olan sayıları işaretle



825

795

840

832

835

728

833



En yakın yüzlüğü 200 olan sayıları işaretle



222

250

150

185

192

249

230



En yakın yüzlüğü 900 olan sayıları işaretle



888

852

953

945

920

860

909

BİLGİ


Sayıları büyük, küçük ve eşit diye karşılaştırırız. Hatta bu sembolleri kullanarak sıralama da yapabiliriz.

Doğal Sayıları Karşılaştırma


Büyüktür



Eşittir



Küçüktür



ETKİNLİK

1 Aşağıda verilen sayı çiftlerinden büyük olanı örnekteki gibi işaretleyiniz.

298	445 ✓	605	577	523	581	399	501
324	342	238	242	462	395	109	190
592	404	179	209	297	809	670	677
789	802	302	488	778	699	588	800

ETKİNLİK

2 Aşağıda verilen sayı çiftlerinden küçük olanı örnekteki gibi işaretleyiniz.

✓ 478	601	503	295	600	785	155	205
824	482	486	500	666	670	347	269
560	605	303	222	532	488	413	408
723	237	400	297	950	897	548	642
343	472	654	385	672	700	432	398

ETKİNLİK

3 "Büyüktür ($>$), küçüktür ($<$), eşittir ($=$) işaretlerini kullanarak boşlukları örnekteki gibi doldurunuz.

442	$<$	603	652	467	764	780
628		458	452	750	466	466
823		931	461	298	895	901
378		822	500	500	765	568

ETKİNLİK

4 Aşağıda verilen sayıları sembol kullanarak büyükten küçüğe sıralayınız.

245	322	408	375	556	600	673	398
700	803	449	599	682	468	987	789
679	324	745	400	746	734	668	801

ETKİNLİK

5 Aşağıda verilen sayıları sembol kullanarak büyükten küçüğe sıralayınız.

263	179	290	205	555	525	252	727
472	297	571	367	303	404	298	374
624	702	678	698	699	567	247	478

1

SORU

En yakın onluęu 550 olan 3 basamaklı doęal sayıları yazar mısın?

Cevap

2

SORU

En yakın onluęu 120 olan 3 basamaklı doęal sayıları yazar mısın?

Cevap

3

SORU

En yakın yüzlüęü 200 olan 4 tane 3 basamaklı doęal sayı yazar mısın?

Cevap

4

SORU

En yakın yüzlüęü 600 olan ve yüzler basamaęı onlar basamaęından büyük olan kaç tane sayı vardır?

Cevap :

5

SORU

En yakın onluęu 200 olan 3 basamaklı en büyük doęal sayı kaçtır?

Cevap

6

SORU

En yakın yüzlüęü 300 olan 3 basamaklı en küçük doęal sayıyı yazar mısın?

Cevap

7

SORU

Rakamları farklı en büyük 3 basamaklı doęal sayının en yakın onluęu kaçtır?

Cevap

8

SORU

Rakamları farklı en küçük 3 basamaklı doęal sayının en yakın yüzlüęü kaçtır?

Cevap

www.ufukkoca.com

En Yakın Onluęa ve Yüzlüęe Yuvarlama

FUFUK Yayınları

1

SORU

"523, 480, 600, 296, 478"
yukarıda verilen sayıları
sembol kullanarak büyükten
küçüğe sıralayınız.

Cevap

www.ufukkoca.com

5

SORU

En yakın yüzlüğü 500 olan
540'tan büyük sayıları yazınız.

Cevap

2

SORU

"702, 859, 598, 870, 953"
yukarıda verilen sayıları
sembol kullanarak büyükten
küçüğe sıralayınız.

Cevap

Sayıları Karşılaştırma ve Sıralama

6

SORU

En yakın yüzlüğü 200 olan
155'ten küçük sayıları yazınız.

Cevap

3

SORU

"300, 540, 295, 439, 573"
yukarıda verilen sayıları
sembol kullanarak küçükten
büyüğe sıralayınız.

Cevap

FUFUK Yayınları

7

SORU

 $359 > \dots > 200$

Noktalı yere yazılacak en bü-
yük ve en küçük sayı kaçtır?

Cevap

En büyük sayı :

En küçük sayı :

4

SORU

"847, 559, 602, 410, 421"
yukarıda verilen sayıları
sembol kullanarak küçükten
büyüğe sıralayınız.

Cevap

8

SORU

 $600 > \dots > 459$

Noktalı yere yazılacak en bü-
yük ve en küçük sayı kaçtır?

Cevap

En büyük sayı :


En küçük sayı :

1 Aşağıdaki sayılardan hangisinin en yakın onluğu 380'dir?

A 282 B 375 C 385

2 Aşağıdaki sayılardan hangisinin en yakın yüzlüğü 400'dür?

A 450 B 415 C 349

3  En yakın yüzlüğü 700 olan en büyük sayıyı arıyorum.

Buna göre Fufuk'un aradığı sayı aşağıdakilerden hangisidir?

A 799 B 750 C 749

4 beş yüz elli bir

dört yüz seksen beş

beş yüz kırk

Yukarıdaki sayılardan en yakın yüzlüğü 500 olanları sileceğiz. Buna göre geriye kaç sayı kalır?

A 1 B 2 C 3

5 En yakın onluğu 600 olan kaç doğal sayı vardır?

A 600 B 10 C 9

6 "76...." noktalı yere hangi rakam yazılırsa en yakın onluğu 760 almaz?


A 3 B 4 C 5

7 En yakın yüzlüğü 800 olan en büyük ve en küçük 3 basamaklı doğal sayıyı hangi çocuk doğru söylemiştir?

A  En büyük : 999
En küçük : 100

B  En büyük : 899
En küçük : 799

C  En büyük : 849
En küçük : 750

8  En yakın yüzlüğü 600 olan sayıları tahtaya yazacağım.

Buna göre Bilgin Eli'nin tahtaya yazdığı sayılardan en büyüğünün en yakın onluğu kaçtır?

A 650 B 648 C 700

CEVAPLAR

1 (A) (B) (C)

5 (A) (B) (C)

2 (A) (B) (C)

6 (A) (B) (C)


3 (A) (B) (C)

7 (A) (B) (C)

4 (A) (B) (C)

8 (A) (B) (C)

- 1 $479 < \dots < 800$
Noktalı yere yazılacak en büyük doğal sayı kaçtır?
A 799 B 499 C 999

- 2  En yakın yüzlüğü 200 olan en büyük 3 basamaklı sayıyı yazdım.


- Buna göre aşağıdaki sayılardan hangisi Fufuk'un yazdığı sayıdan küçüktür?
A 249 B 159 C 149

- 3 yedi yüz elli
 yedi yüz kırk dokuz
 yedi yüz otuz sekiz

- Yukarıdaki sayılardan kaç tanesi en yakın yüzlüğü yedi yüz olan sayıdan büyüktür?
A 1 B 2 C 3

- 4 $479 < \dots < 800$
Noktalı yere yazılacak en büyük ve en küçük sayı hangi seçenekte doğru yazılmıştır?
A 799, 478
B 899, 499
C 799, 480

- 5 $298 \dots 302$
Noktalı yere aşağıdakilerden hangisi yazılmalıdır?
A büyüktür B küçüktür
C eşittir.

- 6  "8, 0, 3" rakamlarını bir kez kullanacağız.

- Bilgin Eli'nin söylediği rakamları kullanarak yazacağımız 3 basamaklı doğal sayıların büyükten küçüğe sıralanışı nasıl olur?
A $888 > 883 > 830 > 803$
B $830 > 803 > 380 > 308$
C $830 > 803 > 388 > 380$

- 7 748 sayısının en yakın onluğu ile en yakın yüzlüğü arasında büyüklük küçüklük olarak nasıl bir ilişki vardır?
A En yakın onluğu, en yakın yüzlüğünden büyüktür.
B En yakın yüzlüğü, en yakın onluğundan büyüktür.
C En yakın onluğu ile en yakın yüzlüğü birbirine eşittir.

CEVAPLAR

- 1 (A) (B) (C) 5 (A) (B) (C)
2 (A) (B) (C) 6 (A) (B) (C)
3 (A) (B) (C) 7 (A) (B) (C)
4 (A) (B) (C) 8 ~~(A) (B) (C)~~

3. Hafta

Konu : Gezegenimizi
Tanıyalım (Neler Öğrendik?)

Ad :

Soyad :



Fen Bilimleri

FUFUK Haftalık Çalışma Kitabı

ETKİNLİK

1 Aşağıda verilen görsellerden Dünya'nın şekline benzeyenleri işaretleyelim.



ETKİNLİK

2 Aşağıda verilen bilgileri eşleştirelim.

1 Macellan

2 Biruni

3 Pisagor

4 Galileo

5 İç çekirdek

6 Manto

7 Yer kabuğu

Erimiş kayaların oluşturduğu magma bulunur.

Dünya'nın merkezinde yer alan en sıcak katmandır.

İcat ettiği teleskop ile gök cisimlerini inceleyen bilim insanı

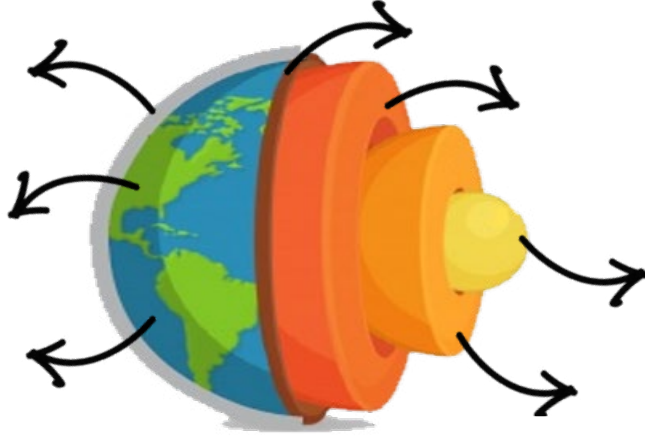
Dünya'nın yuvarlak olduğunu söyleyen ilk bilim insanı.

Dünya'nın yüzeyini oluşturan ve canlıların yaşadığı katmandır.

Dünya'nın yuvarlak olduğunu söyleyen ilk müslüman bilim insanı.

Dünya'nın yuvarlak olduğunu kanıtlayan ilk bilim insanı.

3 Aşağıda okla gösterilen yerlerin isimlerini yazalım.



3 Aşağıda verilen görselleri inceleyelim. Dünya'nın hangi katmanına ait olduğunu bulup işaretleyelim.



Hava Kara Su



Hava Kara Su



Hava Kara Su



Hava Kara Su



Hava Kara Su



Hava Kara Su



Hava Kara Su



Hava Kara Su

3 Verilen bilgilerden doğru olanların başındaki kutucuğa "D" harfi yanlış olanların başındaki kutucuğa "Y" harfi yazalım.

Dünya'nın uzaydan çekilmiş fotoğrafında mavi renk sudur.

Hep aynı yönde ilerlersek başladığımız yere geri geliriz.

Mağmanın yer yüzüne çıkmış haline lav denir.

Dünya'nın yarısı sudur.

Dünya'nın şekline geoit deriz.

1 Hangi çocuğun söylediği bilgi Dünya'nın yuvarlak olduğunun kanıtı değildir?

A  Uzaydan çekilmiş uydu fotoğrafları.

B  Gemilerin olması.

C  Mevsimlerin olması.

2 Hangisi Dünya'nın şekline benzer?

A  B  C 

3 Dünya'nın en içteki katmanının adı nedir?


A Dış çekirdek

B İç çekirdek

C Baş çekirdek

4 Hangi hayvan diğerlerinden farklı bir katmanda yaşar?

A  B  C 

5  Dünya'nın bir kısmı su, bir kısmı karalardan oluşmaktadır.

Fufuk'un dediğine göre Dünya'nın ne kadar su, ne kadarı karadır?

A Yarısı su, yarısı karadır.

B Dörtte üçü su, dörtte ikisi karadır.

C Dörtte biri kara, dörtte üçü sudur.

6 Atmosferde bulunan gazların hepsi hangi seçenekte doğru yazılmıştır?

A Oksijen, helyum, azot

B Azot, hidrojen, oksijen

C Helyum, oksijen, azot

7

Denizler	Kayaçlar
Dağlar	Bulutlar

Yukarıdakilerden kaç tanesi Dünya'nın kara katmanını oluşturur.

A 2 B 3 C 4

CEVAPLAR

1 (A) (B) (C)

2 (A) (B) (C)

3 (A) (B) (C)

4 (A) (B) (C)

5 (A) (B) (C)

6 (A) (B) (C)

7 (A) (B) (C)

8 ~~(A) (B) (C)~~

3. Hafta

Konu : Arkadaşlık Bağlarımı
Güçlendiriyorum.

Ad :

Soyad :

Hayat Bilgisi

FUFUK Haftalık Çalışma Kitabı



BİLGİ

Birlikte güzel vakit geçirdiğimiz ve bir çok şeyi paylaştığımız kişilere **arkadaş** denir. Bu yüzden arkadaşlarımızı seçerken dikkatli olmalıyız.

ETKİNLİK

1 Aşağıdaki resimlerde iki arkadaş ne yaptıklarını anlatan örnekteki gibi kısa bir yazı yazınız.

Musa



Ahmet

Ahmet : Yere düşünce hemen koşup elimden tuttup beni kaldırdın. Çok teşekkür ederim.

Musa : Rica ederim Ahmet. Sen de bana ders anlatıp çalışkan olmama yardım ettin.

Ali



Cem

.....

.....

.....

.....

Samet

Uğur



.....

.....

.....

.....

Elif

Ufuk



.....

.....

.....

.....

Osman

Oya



.....

.....

.....

.....

3. Hafta

Konu : Kroki Çiziyoruz

Ad :

Soyad :

FUFUK Haftalık Çalışma Kitabı

Hayat Bilgisi



BİLGİ

Bir yerin kuş bakışı görüntüsünün kağıda çizilmesine **kroki** denir. Bir yere üstten bakmaya ise **kuş bakışı** denir.

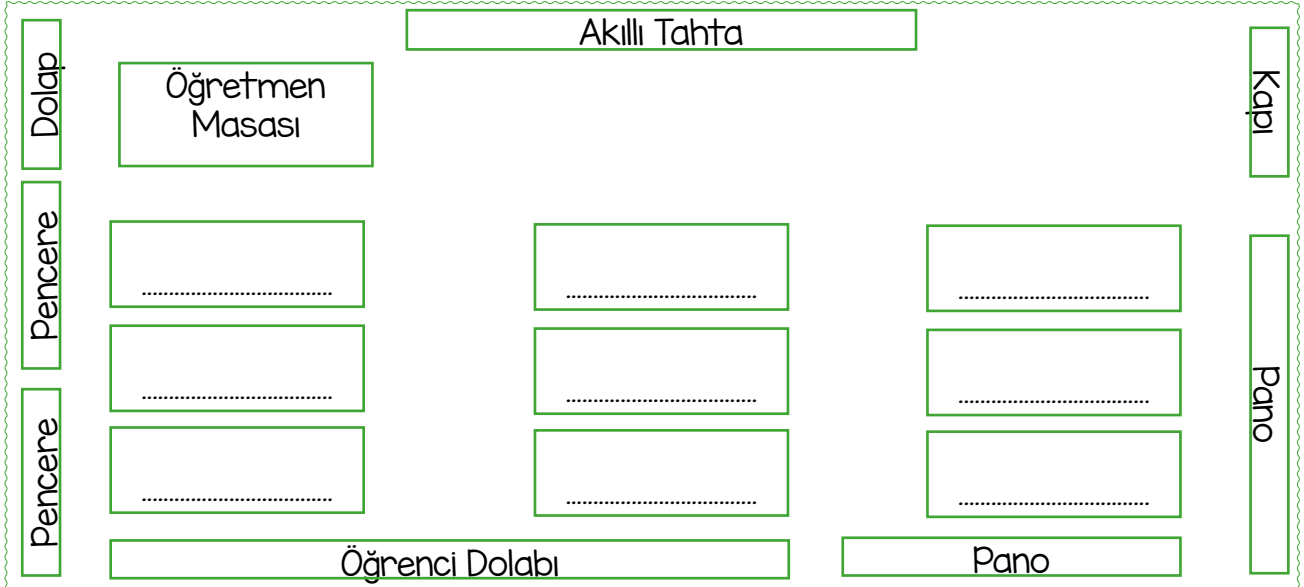


DİKKAT

Kağıda çizdiğimiz krokide ölçü olmaz. Mahallesi, sokak isimleri, binalar, parklar ve yapılar olur.

ETKİNLİK

1 Fufuk sınıfın krokisini çizmiştir. Aşağıda verilen bilgilere göre öğrencilerin oturduğu sıraları bulalım. Boş kalan sıraya ise kendi adımızı yazıp yerimizi krokiye göre tarif edelim.



- ➡ **Fufuk** : Pencere kenarında en arkada oturuyorum.
- ➡ **Eli** : Arkamda öğrenci dolabı var.
- ➡ **Titi** : Kapıya en yakın ben oturuyorum.
- ➡ **Efo** : Öğretmen masasının önünde ilk sırada oturuyorum.
- ➡ **Miki** : Ben de pencere kenarında oturuyorum.
- ➡ **Simi** : Önümde kimse oturmuyor.
- ➡ **Elif** : Solumda Eli oturuyor.
- ➡ **Ela** : Miki'nin sağında ben oturuyorum.
- ➡ :

1 Rakamları (1, 2, 3, 4, 5, 6) kullanarak sudokuyu yapalım.
Her satır ve sütunda farklı rakamlar olmasına dikkat edelim.

5	3	2		6	
4	1			3	
				4	5
		4	6		
	4			5	
			3	1	



	2	6		5	1
3					
5	6	2	1	3	
1		3			6
6			2		3
	3			4	

4	1	6		3	2
5		3	4	6	1
			1		
		5			3
		4		1	
3			2	5	



5		3			2
4		2	5	3	1
		1	6		5
		4		1	3
				2	
1	2	5	3		4

	4	3	1		5
1	6	5		3	4
			6		2
				5	1
4			5	2	
		2	4		



4					1
5	6		4	3	
2	1	5			6
				1	5
			6		
6	2	4	1	5	

3. Hafta

Konu : Deyim ve Atasözü

Ad :

Soyad :

FUFUK Haftalık Çalışma Kitabı

Türkçe

Atasözü

Anlamı

Ayağını yorganına
göre uzat

Harcamalarını kazandığın gelirine göre yapmalısın.

Resim

Kısa Hikâye

.....

.....

.....

.....

.....

.....

Deyim

Ağzında bakla islanmamak

Resim

Anlamı

Sır saklayamamak. Önemli bir bilgiyi hemen başkalarına söylemek.

Örnek

Fufuk'a sır vermeyin. Çünkü onun ağzında bakla islanmıyor hemen söyler.

Örnek Cümlem

3. Hafta

Konu : Okuduğunu Anlama

Ad :

Soyad :

İngilizce

FUFUK Haftalık Çalışma Kitabı

Cesur Efo, haritayı incelerken Bilgin Eli de mektubu okudu. Fufuk ise heyecanla Bilgin Eli'yi dinledi.

Sakat Titi, altın topa oynarken yere düşürdü. Altın top birden kocaman bir

robota dönüştü. Robotu gören Muhteşem dördü hemen ağacın arkasına saklandı. Robot ise ince bir sesle "Merhaba çocuklar." dedi. Robotun sesi o kadar komikti ki gülmekten yerlere yattılar.



Mektubu kim okudu?

Muhteşem dördü nereye saklandı?

Fufuk, Bilgin Eli'yi nasıl dinledi?

Robot ne dedi?

Altın top neye dönüştü?

Neden gülmekten yerlere yattılar?

Hikâyeye uygun bir başlık yazalım.

Altı çizili deyimini anlamını öğrenelim.

Fufuk, hafta sonu keman kursuna gitti. En sevdiği şarkıyı nasıl çalacağını öğrendi. Eve gelince bu şarkıyı ailesine çaldı. Babası Fufuk'u ayakta alkışladı. Annesi koşarak Fufuk'a sarıldı. Fufuk keman öğrendiği için çok mutlu oldu.

Bilgin Eli çilekleri sularken kokusuna dayanamayıp bir tane yedi. Şakacı Fufuk "Dur! Bilgin Eli ne yaptın? O çilekler zehirli." dedi. Bilgin Eli bunu duyunca çok korktu. Ama Fufuk'un güldüğünü görünce şaka yaptığını anladı.

Fufuk ne zaman kursa gitti?

Bilgin Eli, neden korktu?

Kim Fufuk'u ayakta alkışladı?

Bilgin Eli, şaka olduğunu nasıl anladı?

3. Hafta


Konu : Dikkat Çalışması

Ad :

Soyad :

FUFUK Haftalık Çalışma Kitabı

➡ Kaç Tane? ⬅



www.ufukkoca.com



3.

Hafta

Konu : Dikkat Çalışması

Ad :

Soyad :

FUFUK Haftalık Çalışma Kitabı

Kodlama

ETKİNLİK

1 Aşağıda verilen isimleri tabloda kodlarına uygun yerlere yazınız. Tabloda boş kalan kutucuğa kendi adınızı yazıp yan tarafa da kodla birlikte adınızı yazın.



	1	2	3
A			
B			
C			

B3 Fufuk

A1 Ali

A2 Ela

C3 Cem

C1 Elif

B1 Duru

B2 Aslı

C2 Titi

.....

	1	2	3
A			
B			
C			

C2 Limon

B3 Elma

B1 Çilek

C1 Kivi

A2 Soğan

A1 Şeftali

B2 Muz

C3 İncir

.....

	1	2	3
A			
B			
C			

A3 Polis

B1 Öğretmen

B2 Doktor

C3 Hemşire

C1 Avukat

A1 Duru

A2 Çiftçi

C2 Titi

.....

	1	2	3
A			
B			
C			

C3 Aslan

C1 Köpek

B2 Kaplan

B3 Fare

A1 Yılan

A2 At

C2 Kedi

B1 Zebra

.....

3. Hafta

Konu : Kelime Türet

Ad :

Soyad :

FUFUK Haftalık Çalışma Kitabı

➡ Bulmaca ⬅

ETKİNLİK

1 Aşağıda verilen kurala uygun anlamlı sözcükler bulup toplam puanınızı kutulara yazın. En son tüm puanlarınızı toplayın. Aynı harfleri dilediğiniz kadar kullanabilirsiniz.



1 Puan **A**

2 Puan **E**

3 Puan **K**

4 Puan **U**

5 Puan **N**

6 Puan **T**

1 Heceli sözcükler

2 Heceli sözcükler

3 Heceli sözcükler

ten	13

1 Puan **L**

2 Puan **M**

3 Puan **N**

4 Puan **A**

5 Puan **i**

6 Puan **E**

1 Heceli sözcükler

2 Heceli sözcükler

3 Heceli sözcükler

Nil	9

1 Puan **N**

2 Puan **Y**

3 Puan **L**

4 Puan **I**

5 Puan **A**

6 Puan **R**

1 Heceli sözcükler

2 Heceli sözcükler

3 Heceli sözcükler

yıl	9

3.
Hafta

Konu : FUFUK Bilgi Yarışması

Ad :

Soyad :

FUFUK Haftalık Çalışma Kitabı

İngilizce

Google Play'den
Ücretsiz İndir

GETİRİN
Google Play



ONLINE TESTLERE KATIL

**ARKADAŞINA
MEYDAN OKU**



Okul Öncesi - İlkokul - Ortaokul herkes kullanabilir.



FUFUK BİLGİ YARIŞMASI

TIKLA ÜCRETSİZ İNDİR

EBA Tv programına uygun **her gün** işlenen ders ile ilgili test yüklüyoruz.

EBA Tv de hangi konuları gördüyse biz de mobil uygulamada o **konular** ile ilgili sorular soruyoruz.

Testleri **gününde** çözerseniz daha fazla puan kazanırsınız.

Arkadaşınıza **meydan okuyarak** ekstra puanlar kazanabilirsiniz.