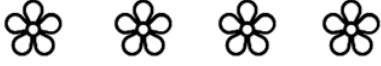


BÖLME İŞLEMİNİ KAVRAYALIM

1. Topları 1'erli gruplandıralım. Soruları cevaplandıralım.




Yukarıda kaç çiçek var? (....)

Çiçekler kaçar gruplandı? (....)

Toplam kaç grup oluştu? (....)

2. Arıları 2'şerli gruplandıralım. Soruları cevaplandıralım.



Yukarıda kaç arı var? (....)

Arılar kaçar gruplandı? (....)

Toplam kaç grup oluştu? (....)

3. Ağaçları 4'erli gruplandıralım. Soruları cevaplandıralım.



Yukarıda kaç ağaç var? (....)

Güneşler kaçar gruplandı? (....)

Toplam kaç grup oluştu? (....)

4. Güneşleri 3'erli gruplandıralım. Soruları cevaplandıralım.



Yukarıda kaç güneş var? (....)

Güneşler kaçar gruplandı? (....)

Toplam kaç grup oluştu? (....)

5. Dondurmaları 5'erli gruplandıralım. Soruları cevaplandıralım.

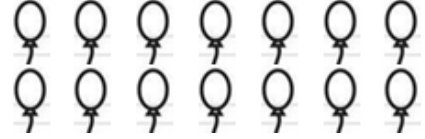


Yukarıda kaç dondurma var? (....)

Dondurmalar kaçar gruplandı? (....)

Toplam kaç grup oluştu? (....)

6. Balonları 2'şerli gruplandıralım. Soruları cevaplandıralım.




Yukarıda kaç balon var? (....)

Balonlar kaçar gruplandı? (....)

Toplam kaç grup oluştu? (....)

7. Balıkları 3'erli gruplandıralım. Soruları cevaplandıralım.




Yukarıda kaç balık var? (....)

Balıklar kaçar gruplandı? (....)

Toplam kaç grup oluştu? (....)

8. Mantarları 3'erli gruplandıralım. Soruları cevaplandıralım.



Yukarıda kaç mantar var? (....)

Mantarlar kaçar gruplandı? (....)

Toplam kaç grup oluştu? (....)