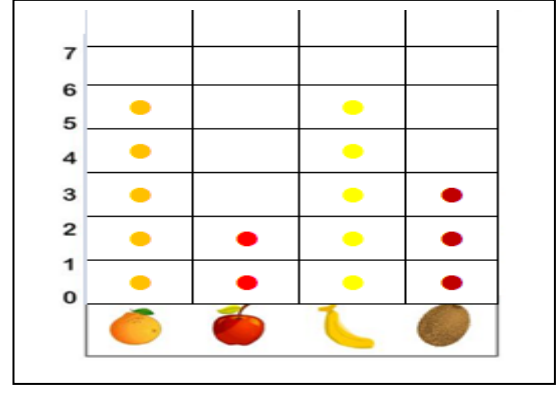



ADI SOYADI:

MINI TEST

Sıklık tablolarının nesne grafiklerini \heartsuit çizerek oluřturalım. Soruları cevaplayalım.



(Soruları grafięe gre cevaplayalım)

Nesne grafięindeki meyve sayıları toplamı katır?

- A) 15 B) 16 C) 19

Hangi meyvelerin sayıları eřittir?

- A) muz-elma B) kivi -armut C) armut-muz

En fazla ve an az sayıda olan meyvelerin farkı hangi meyve sayısını verir?





- A) muz B) kivi C) elma





Armut ve muz sayıları arpımı katır?





- A) 10 B) 15 C) 25

Nesne grafięinin etele ile gsterimi hangi seenekte verilmiřtir?

- A)

			
- B)

			
- C)

			
	I		

Toplam meyve sayısı hangi onluęa yuvarlanır?

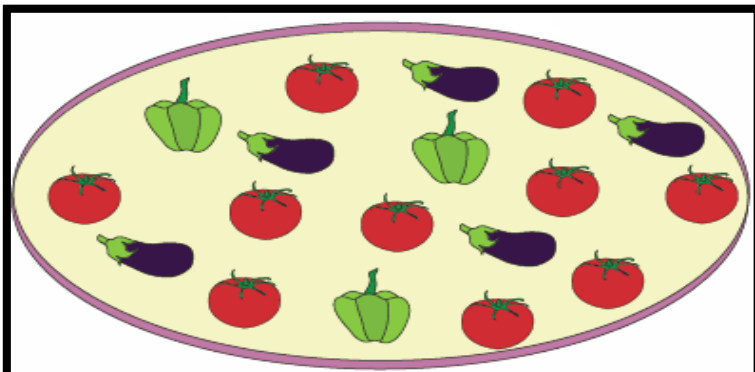
- A) 10 B) 20 C) 30




Yiyecekler toplamı katır?

.....

Turta ve kurabiye farkının 5 katı katır?

.....



Sebzeler	Sebze Sayıları etele Tablosu
	
	
	

Bölümleri örnekteki gibi yapalım.

34 → 30 + 4
69 →
23 →
95 →
46 →
88 →

80 + 5 → 85
90 + 2 →
70 + 4 →
10 + 6 →

Sayıların en yakın onluğunu yazalım.

Matematik Tekrar 33

45

89

32

24

71

13

55

41

76

97

21




66

52

78

94


Onluk bloklarla gösterilen sayıları yazalım.



Örüntü kurallarını yazalım.




Saatin kaç gösterdiğini yazalım.



Öğleden önce

Öğleden sonra

Hayvan sayılarını yazalım.



Üçer geriye doğru yazalım.

Matematik Tekrar 33

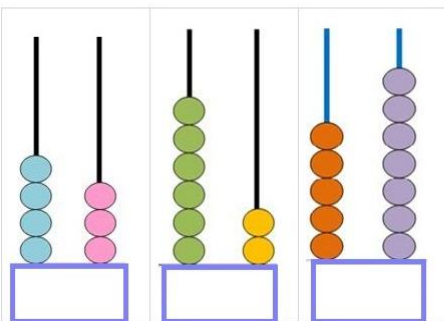
48 , _____ , _____ , _____ , _____ , _____

30 , _____ , _____ , _____ , _____ , _____

21 , _____ , _____ , _____ , _____ , _____

39 , _____ , _____ , _____ , _____ , _____

Abakütle gösterilen sayıları yazalım.



Verilenlere göre bölme işlemlerini yapalım.


Bölünen 32

Bölen 4

Bölünen 18

Bölen 3

Saat kaç olduğunu yazalım.



.....