

ADI SOYADI:

Para miktarlarını yazalım



Eşleştirmeleri yapalım

10 tane 5 kuruş  
10 tane 10 kuruş  
5 tane 1 kuruş  
5 tane 1 lira  
8 tane 50 kuruş  
10 tane 1 kuruş

10 kuruş  
5 kuruş  
5 lira  
1 lira  
50 kuruş  
4 lira

MINI TEST




Yukarıdaki para miktarı nedir?

A) ₺40 B) ₺50 C) ₺60

4 birlik 2 onluktan oluşan sayının yarısı kaçtır?

A) 21 B) 12 C) 24



Yukarıdaki kalem sayısını 5 kişiye paylaşırsam her birinin kaç kalemi olur?

A) 5 B) 6 C) 7

$$23 + 19 = \clubsuit$$

$$74 - 25 = \clubsuit$$

Yukarıdaki işlemin  $\clubsuit + \clubsuit$  sonucu kaçtır?

A) 71 B) 81 C) 91

$$5 \times 2 = \star$$

$$\star \times 4 = \blacklozenge$$

$\blacklozenge$  Hangi sayıya eşittir?

A) 30 B) 40 C) 44

İşlem sonuçlarını yazalım.

$7 \times 5 =$

$7 \times 2 =$

$4 \times 4 =$

$4 \times 5 =$

$6 \times 3 =$

$6 \times 4 =$

Sayı örüntülerindeki boşlukları tamamlayalım.

Matematik Tekrar 26

34-36-38-40- - - 46 - - - 52

15-20-25- - - -45 - - - -

4-8-12- - - - -32 - - -

Onluk ve birlikleri verilen sayıları yazalım.

$3 \text{ birlik} + 5 \text{ onluk} =$

$8 \text{ onluk} + 9 \text{ birlik} =$

$5 \text{ onluk} + 2 \text{ birlik} =$

$9 \text{ birlik} + 1 \text{ onluk} =$

İfadelerden doğru olanlara  $\checkmark$  atalım.

◇ 23, 19 dan büyüktür.


◇ 57, 61 den küçüktür.

◇ 92, 34 ten küçüktür.

◇ 45 , 45 e eşittir.

◇ 75, 37 den küçüktür.

Saatin kaçı gösterdiğini yazalım.



İşlemlerin sonuçlarını yazalım.

$15 : 5 =$

$30 : 5 =$

$9 : 3 =$

$18 : 2 =$

$24 : 4 =$

$36 : 4 =$

Sonuçları yazalım.

Matematik Tekrar 26

28 sayısının 19 fazlası kaçtır?

8 sayısının 5 katı kaçtır?

18 sayısının yarısı kaçtır?

90 sayısının 46 eksiği kaçtır?

4 sayısının 3 katı kaçtır?

Okunuşları verilen sayıları yazalım.

elli dört →

on bir →

on sekiz →

seksen →

yetmiş →

otuz üç →


doksan üç →

yirmi bir →

yirmi iki →

yüz →

Nesne sayılarını yazalım.



Saatin kaçı gösterdiğini yazalım.

