
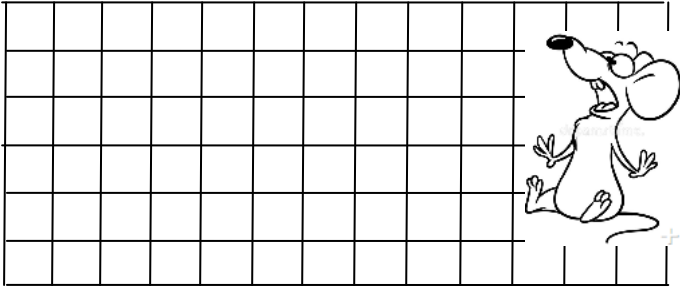


TOPLAMA VE ÇIKARMA İŞLEMİ İLE İLGİLİ PROBLEMLER

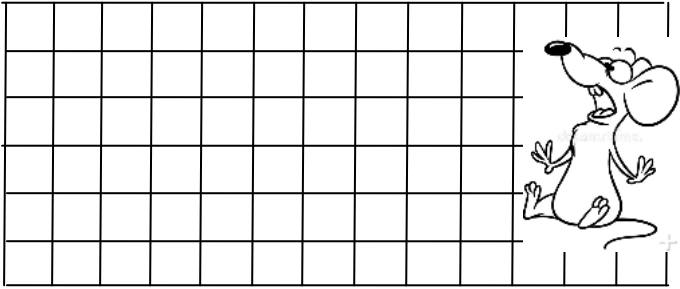
1. Otobüste 18 tane yolcu vardı. Durakta 6 yolcu indi. Otobüste kaç yolcu kalmıştır?



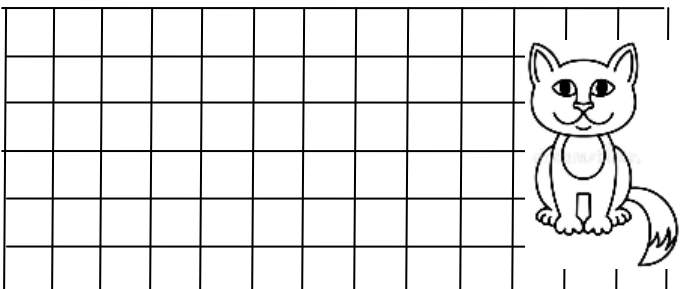
2. Uğur aldığı boyaya 10 lira , deftere ise 6 lira ödedi. Uğur aldıklarına toplam kaç lira ödedi?



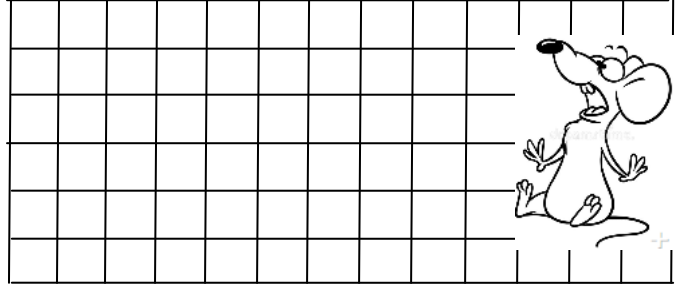
3. Melih ve Gürkan'ın bilye sayıları aynıdır. Melih'in 10 bilyesi olduğuna göre , ikisinin toplam kaç bilyesi vardır ?



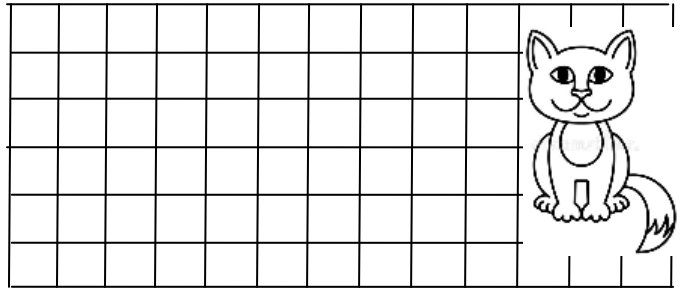
4. Bahçede oyun oynayan 15 çocuğun 6 tanesi erkek , geri kalanı kızdır. Bahçede kaç tane kız vardır ?




5. Buzdolabında 11 tane beyaz , 8 tane kırmızı yumurta var. Buzdolabında toplam kaç tane yumurta var?



6. Ağaçta 12 tane kuş vardı. Kuşlardan 6 tanesi uçtu. Ağaçta kaç tane kuş kalmıştır ?



7. Selin 14 sayfa olan kitabından 8 sayfa okudu. Geriye okunacak kaç sayfa kalmıştır?



8. Ablam önce 10 tane , sonra 9 tane problem çözdü. Ablam toplam kaç tane problem çözmüştür?

