


1. Haritalarda sular hangi renkle gösterilir?



2.



Dünya kürede ülkemiz kaç numara ile gösterilmiştir?

A) 1 B) 2 C) 3

3. " Ülkemizin başkenti ..... dir." cümlesinde boş bırakılan yere hangisinin yazılması doğru olur?

- A) İstanbul  
B) İzmir  
C) Ankara

4. İstiklâl Marşı'nı kim yazmıştır?

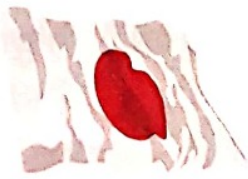
- A) Zeki Üngör  
B) Mehmet Akif Ersoy  
C) Mehmet Zeki Pekköz

5. Bayrak töreni ile ilgili hangisi yanlıştır?

- A) Bayrak törenlerinde arkadaşlarımızla sohbet ederiz.  
B) Bayrak töreninde "Hazır ol" şeklinde dururuz.  
C) İstiklâl Marşı'nı coşkuyla söyleriz.

6. Ülkemizin bayrağı hangisidir?

A)



B)



C)



7. Atatürk'ün ailesi ile ilgili verilen bilgilerden hangisi yanlıştır?

- A) Atatürk'ün annesi Zübeyde Hanım'dır.  
B) Ali Rıza Bey, Atatürk'ün babasıdır.  
C) Kız kardeşinin adı Meryem Hanım'dır.

8. Matematik öğretmenin Mustafa'ya verdiği Kemal adı hangi anlama gelmektedir?

A)

Olgunluk

B)

Çalışkanlık

C)

Zekilik

9. Mustafa Kemal ortaokulda hangisine gitmiştir?  
 A) Mahalle Mektebi  
 B) Askerî Ortaokul  
 C) Şemsi Efendi Okulu

10. Cumhuriyet ne zaman ilan edilmiştir?

A) 30 Ağustos

B) 29 Ekim

C) 19 Mayıs

11. Hangi milli bayramın tarihi yanlış verilmiştir?

A) 29 Ekim → Zafer Bayramı

B) 23 Nisan → Ulusal Egemenlik ve Çocuk Bayramı

C) 19 Mayıs → Atatürk'ü Anma Gençlik ve Spor Bayramı

12.



Milli bayram kutlamaları nasıl olur?

- A) Büyükler ziyaret edilir.  
 B) Evlerde ikramlar hazırlanır.  
 C) Törenler yapılır; sınıflar, sokaklar süslenir.

13. Hangisi dini bayramlarımızdan değildir?

A) Ramazan Bayramı

B) Cumhuriyet Bayramı

C) Kurban Bayramı

- 14.
- Sınıflar süslenir.
  - Evlerde hazırlık yapılır.
  - Büyükleri ziyarete gidilir.
  - Yoksullara yardım edilir.

Yukarıdakilerden kaç tanesi dini bayramlarda yapılır?

- A) 4      B) 3      C) 2

15. Oruç tuttuktan sonra kutlanan bayram hangisidir?
- A) Kurban Bayramı  
B) Nevruz Bayramı  
C) Ramazan Bayramı

16. Hangisi bizim gelenek ve göreneklerimizden değildir?

A) Asker uğurlama

B) Kına gecesi

C) Yumurta boyama

17. Ülkemize farklı ülkelere nasıl davranmalıyız?

- A) Onları anlayışla karşılamalıyız.  
B) Onları aramıza almamalıyız.  
C) Onlardan uzak durmalıyız.

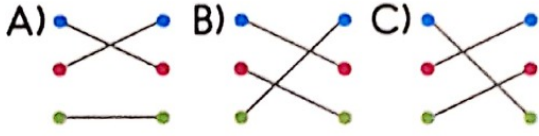
18. Hangisi ülkemize özgü bir yemektir?




19.

Pamuk •	• Salça
Meyve •	• Kumaş
Domates •	• Meyve suyu

Tarımsal ürünlerin sanayide işlenerek dönüştüğü ürünleri eşleştirdiğimizde görüntü nasıl olur?



20. Hangisi sütten elde edilmez?




21. Kültürel mirasımızda olmayan dans hangisidir?

A) Horon B) Zeybek C) Tango

22.

Hangisinde tarımsal üretim yapılmaktadır?



23. Başka ülkelerden ülkemize göç edilmesinin nedenleri arasında hangisi yoktur?

A) Göç edilen ülkede savaş olması.

B) Göç edilen ülkede kıtlık olması.

C) Göç edilen ülkenin çok güzel olması.

24. Hangisi sanayi ürünüdür?

A)



B)



C)



25.

### SAKİN DEDE

Ateş'in dedesi Sakin Dede, terasında çok güzel çiçekler yetiştiriyor. Ateş her tatilde dedesinin terastaki bahçesine gitmeye bayılıyor. Sabah erkenden kalkıp dedesiyle çiçekleri suluyor. Her gün kızaran çiçekleri küçük elleriyle topluyor. Bazı çiçekler yaprakların altına saklanmış oluyor. Onları bulduğunda çok mutlu olan Ateş, bazen gördüklerini toplamayıp kuzeni Tuğhan'a bırakıyor. Birbirlerini çok seven iki kuzen dedelerinin onlar için yetiştirdiği çiçekleri seve seve paylaşıyor.

Umay ATEŞ

(1, 2, 3 ve 4. soruları metne göre cevaplayalım.)

1. Ateş'in dedesinin adı nedir?

A)



Şakir

B)



Sakin

C)



Şenol




26. 2. Sakin Dede, terasında hangisini yetiştiriyormuş?



27. 3. Ateş, çileklerini kiminle paylaşıyormuş?

- A) Dayısı Umur'la  
B) Kardeşi Suyla  
C) Kuzeni Tuğhan'la

28. 4. Çilekler bazen nereye saklanıyormuş?

- A)  Taşın altına  
B)  Saksının altına  
C)  Yaprığın altına

29. Hangisinde "-mi" eki yanlış yazılmıştır?

- A) Saksıda havuç yetişir mi?  
B) Senin de ağacın varmı?  
C) Bu fidan onun mu?

30.



Görsele ait soru cümlesi hangisi olabilir?

- A) Çocuk fidan diyor.  
B) Fidanları kim suladı?  
C) Çocuk fidan mı diyor?

31.



Yukarıdaki işaretin anlamı nedir?

- A) Yayalar geçebilir.
- B) Yayalar geçemez.
- C) Çocuk çıkabilir.

32. "Damlaya damlaya göl olur." atasözü bize ne anlatır?

- A) Zamanı doğru kullanmak gerektiğini.
- B) Küçük birikimlerin büyük birikime döneceğini.
- C) Arkadaşlarımıza özenli davranmak gerektiğini.

33. "Yoksul" kelimesinin eş anlamlısı olan kelime hangi çocuğun cümlesinde vardır?

- A)  Zenginlerin evleri çok mu büyük?
- B)  Fakir olmak onun suçu değil.
- C)  Cimri insanla arkadaş olamam.



34.

**YOLDAKİ KALABALIK**

Buğra arabayla giderken etrafı seyretmeyi çok seviyordu. Yine birgün ailece gezmeye giderlerken gözlerini dört açmış yolu seyreliyordu. Birden yolun karşı tarafındaki kalabalığı fark etti. Ambulans, polis arabası ve arada çarpışmış iki araba vardı. "Baba orada ne olmuş." diye sordu. Babası "Kurallara uymayıp hız yapanlar sonunda maalesef kaza yaparlar." dedi. Buğra anlıyordu. Trafikte kurallara uymanın önemini okulda öğrenmişti. Babasına kurallara uyduğu için teşekkür etti ve gözlerini kapadı. Bir kaza daha görmek istemedi.

**Umay ATEŞ**

(1, 2, 3 ve 4. soruları metne göre cevaplayalım.)

1. Buğra, arabayla giderken ne yapmayı seviyormuş?
  - A) Önde oturmayı
  - B) Müzik dinlemeyi
  - C) Etrafı seyretmeyi

35. 2. Yolun karşısında hangisi yokmuş?

A)



B)



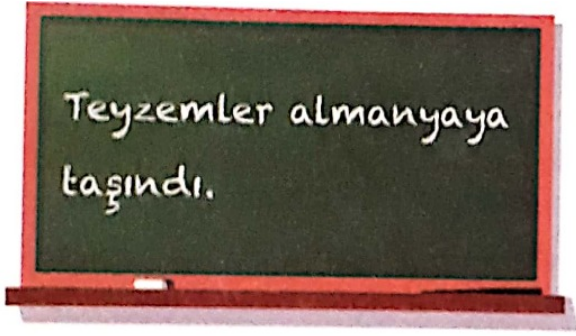
C)



36. 3. Arabalar neden kaza yapmış?
  - A) Yol bozuk olduğu için.
  - B) Sürücüler kurallara uymadığı için.
  - C) Hava yağmurlu olduğu için.
37. 4. Buğra neden gözlerini kapadı?
  - A) Hayal kurmak için.
  - B) Uykusu geldiği için.
  - C) Bir kaza daha görmemek için.

38. 5. Metinde geçen "gözlerini dört açmak" deyiminin anlamı ne olabilir?
- A) Dikkatlice bakmak.  
B) Aniden gözlerini açmak.  
C) Uzaklara boş boş bakmak.

39.



Tahtadaki cümlede yanlış yazılan kelime hangisidir?

- A) Teyzemler  
B) almanyaya  
C) taşındı

40. Aşağıdakilerden hangisi soru cümlesi değildir?
- A) Okul çıkışı parka gidelim mi?  
B) Sinemadan çıkanı gördün mü?  
C) Yeni çıkan oyunu çok beğendim.

41. Hangi cümlede yanlış noktalama işareti kullanılmıştır?
- A) Paris, Fransa'nın başkentidir.  
B) Ablam Denizli'ye gidiyor mu?  
C) Hey, bu tarafa bak!

42. "Bisiklet giremez" anlamına gelen trafik levhası hangisidir?

A)



B)



C)



43.

.....  
Çalış kızım çalış  
Der durur babam.  
Üretmek önemli,  
Ülken için gerekli

Çalışıkça gelişir,  
Aydınlanır beyinler.  
İşledikçe ışıldar,  
Yeşerir yarınlar.

Umay ATEŞ

(1. 2. 3 ve 4. soruları metne göre cevaplayalım.)

1. Şiire en uygun başlık hangisidir?

A)



B)





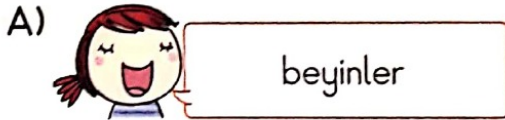
C)



44. 2. Şaire sürekli çalışmasını söyleyen kimdir?  
A) annesi  
B) babası  
C) öğretmen

45. 3. Üretmek ne için gereklidir?  
A) Para kazanmak için  
B) Ülkemiz için  
C) Ailemiz için

46. 4. Çalıştıkça gelişecek olan nedir?



47. "Bu olayın sebebi değil sonucu önemli." cümlesinde zıt anlamlı olan kelimeler hangileridir?

- A) olay - sonuç  
B) sebep - sonuç  
C) olay - önemli

48. "Bütün ödevlerimi bitirdim." cümlesini soru cümlesi yapmak istersek nasıl olur?

- A) Bütün ödevlerini bitirdin mi?  
B) Öğretmen ödev verdi mi?  
C) Ödevlerini yaptın mı?

49.




Yukarıdaki görseli anlatan zıt anlamlı kelimeler hangileridir?

- A) genç - yaşlı
- B) yoksul - fakir
- C) uzun - kısa

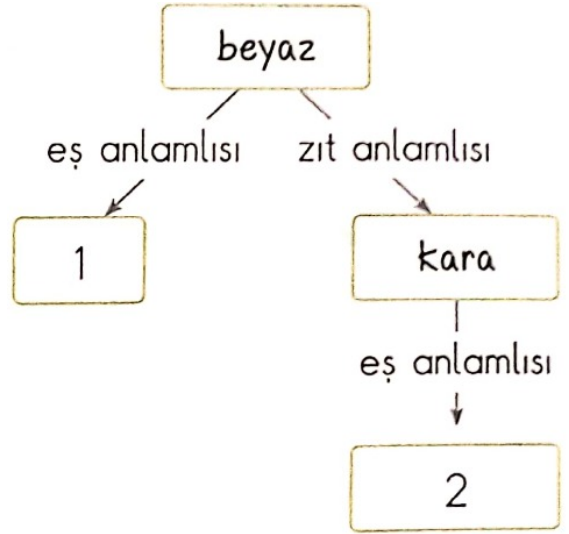
50. Hangi çocuk cümlesini yazarken daha az hata yapmıştır?

A)  ben de çanakkaleyi merak ediyorum?

B)  Seninle luna-parkamı gitsek

C)  Annem, Misafir-leri'ne kek Yaptı.

51.



1 ve 2 numaralı yerlere yazılması gerekenler hangisinde doğru verilmiştir?

- A) 1 → al  
2 → siyah
- B) 1 → al  
2 → ak
- C) 1 → ak  
2 → siyah

52.

En Çok Sevilen Meyveler	
Muz	
Çilek	
Elma	

Yukarıdaki çetele tablosunda en fazla sevilen meyve hangisidir?

A) Çilek B) Elma C) Muz

53.

Tercih Edilen Spor Dalları	
Futbol	⊗⊗⊗⊗⊗
Voleybol	⊗⊗⊗⊗⊗⊗
Basketbol	⊗⊗⊗⊗

⊗ = 2 öğrenci

Yukarıdaki tabloda en az tercih edilen spor dalı hangi seçenekte verilmiştir?

A) Voleybol  
B) Futbol  
C) Basketbol

54. Aşağıdakilerden hangisi sınıfımızdaki göz renkleriyle ilgili veri toplarken sormamız gereken göz rengidir?

A) Mavi gözlüler  
B) Kırmızı gözlüler  
C) Kahverengi gözlüler

55.

Sınıfta Sevilen Mevsimler	
İlkbahar	6
Yaz	11
Sonbahar	8
Kış	5

4, 5 ve 6. soruları tabloya göre yanıtlayalım.

4. Sınıfta en sevilen mevsim hangisidir?

A) İlkbahar  
B) Yaz  
C) Sonbahar

56. 5. Sınıfımızda toplam kaç kişi vardır?

A) 20 B) 25 C) 30

57. 6. Yaz mevsimini sevenler, kış mevsimini sevenlerden kaç kişi fazladır?

A) 6 B) 5 C) 4

58. Aşağıdakilerden hangisi veri toplarken kullanacağımız tablo ve grafiklerden değildir?

- A) Sıklık tablosu  
B) Şekil grafiği  
C) İsim grafiği

59. Aşağıdakilerden hangisi çetele tablosuna örnektir?

A)

Sevilen Çiçekler	
Gül	🌸🌸🌸🌸
Lale	🌸🌸
Leylak	🌸🌸🌸

B)

Sevilen Çiçekler	
Gül	
Lale	
Leylak	

C)

Sevilen Çiçekler	
Gül	8
Lale	4
Leylak	6

60. Aşağıdakilerden hangisi nesne grafiğidir?

A)

Sevilen Tatil Günleri	
Cumartesi	★ ★ ★
Pazar	★ ★

★ = 4 kişiyi gösterir.

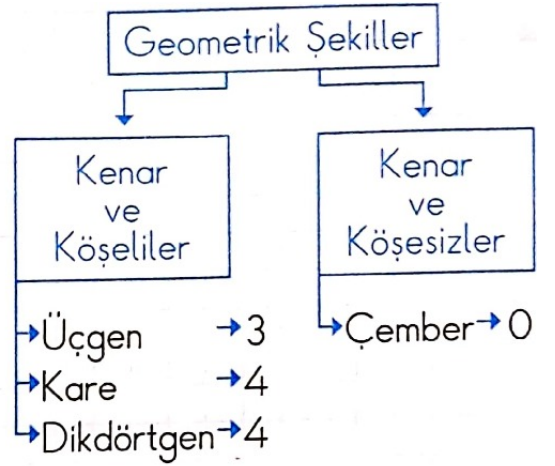
B)

Tahmin Edilen Para Yönü	
Yazı	4
Tura	7

C)

Sevilen Zıt Renkler	
Beyaz	
Siyah	

61.



10, 11 ve 12. soruları ağaç şemasına göre yanıtlayalım.

10. Kenar ve köşeliler kaç tanedir?

- A) 3      B) 2      C) 1

62.

11. Geometrik şekillerin toplam kaç kenar veya köşesi vardır?

- A) 12      B) 11      C) 10



63. 12. Aşağıdakilerden hangisi kenarsız ve köşesiz geometrik şekildir?

A) Kare B) Üçgen C) Çember

64. Aşağıdaki ifadelerden hangisi yanlıştır?

A) Bir bütün içinde 4 çeyrek vardır.


B) Bir çeyrek içinde 2 yarım vardır.

C) Bir bütün içinde 2 yarım vardır.

65. Aşağıdaki zamanlardan hangisi diğerlerinden farklıdır?

A) 

B) 

C) 

66.

- 4 çeyrek saat, 1 saate eşittir.
- Çeyrek saat 15 dakikadır.
- 2 çeyrek saat 30 dakikadır.

Yukarıdaki ifadelerden kaç tanesi doğrudur?

A) 1 B) 2 C) 3

67.

Aşağıdaki saatlerden hangisi daha ileri bir zamanı ifade etmektedir?

A) 

B) 

C) 

68. Saat 19.00'dayken akrep ve yelkovan hangi sayılar üzerinde olur?

Akrep Yelkovan

- A) 7 12  
 B) 12 7  
 C) 12 6
69. İrem'in dayısı 1 ay, 1 hafta, 3 gün sonra Paris'e gidecektir. İrem'in dayısının Paris'e gitmesine kaç gün kalmıştır?  
 A) 11 B) 37 C) 40

70. Aşağıdaki gruplardan hangisi zaman kavramıyla ilgilidir?  
 A) dün - yarın - önce - sonra  
 B) bugün - lira - daha - dün  
 C) geçmiş - gelecek - kilogram - metre

71.



Yukarıdaki elbiseyi aşağıdaki para gruplarından hangisiyle alabiliriz?

- A) 20 5  
 B) 20 20 10  
 C) 50 10

72. Aşağıdakilerden hangi kesir diğerlerinden farklıdır?



73.



Yukarıdaki paralar kumbaraya atılırsa kumbarada kaç lira biriktir?

- A) 15      B) 16      C) 17

74. Aşağıdaki banknotlardan (kâğıt paralardan) hangisi 50 liradan fazladır?

- A) 
- B) 
- C) 