



## BASİT KESİRLER 2



- Aşağıda okunuşu verilen basit kesirleri örnekteki gibi kesir çizgisi kullanarak yazınız. Model ile gösteriniz.

Üç bölü beş

$$\frac{3}{5}$$



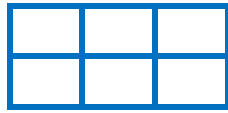
İki bölü dört

—



Altıda iki

—



Beşte bir

—



Üç bölü yedi

—



Sekizde beş

—



Dört bölü on

—




Dokuzda üç

—



On ikide yedi

—



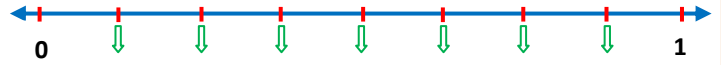
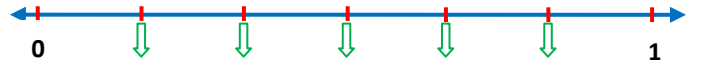
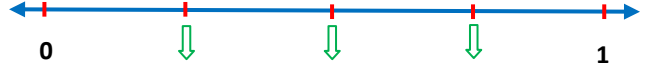
Dokuz bölü on beş

—

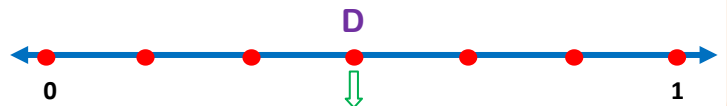
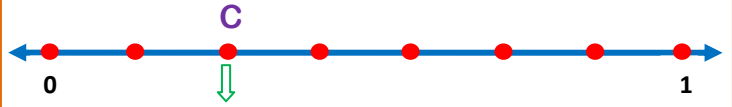
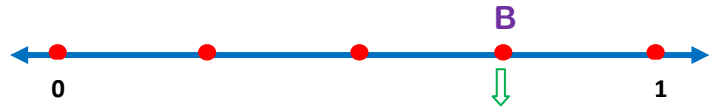
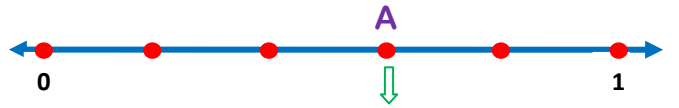


İskender07

- Sayı doğrusu üzerinde oklarla gösterilen noktalara denk gelen basit kesirleri yazınız.



- Aşağıdaki sayı doğrusu üzerindeki harflere denk gelen kesir sayılarını altlarına yazınız.



İskender07