


1.



Manavdan 4 kilogram elma ve 3 kilogram çilek alırsam satıcıya kaç TL ödemem gerekir?

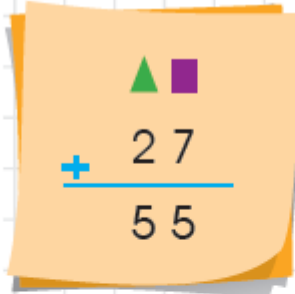
- A) 7      B) 27      C) 29

2.

Aşağıdaki ritmik saymaların hangisinde yanlışlık yapılmıştır?

- A) 4 8 12 16 20 24 28  
 B) 12 15 18 20 23 26  
 C) 27 24 21 18 15 12

3.



Yukarıda verilen toplama işlemine göre  $\triangle + \square$  işleminin sonucu kaçtır?

- A) 28      B) 10      B) 9

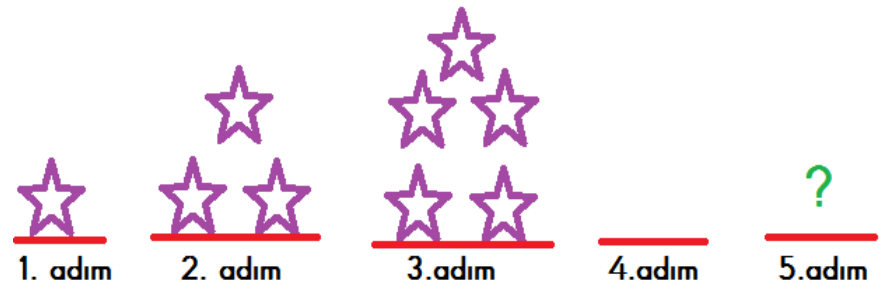
4.



Yukarıdaki çanta ve kitabı alan Recep tahmini olarak kaç TL öder?

- A) 63      B) 70      C) 60

5.



Yukarıdaki örüntü devam ettirildiğinde 5. adımda kaç tane yıldız olur?

- A) 7      B) 9      C) 11

6.



Aşağıda verilen bilgilerden hangisi yukarıdaki şekillerin ortak özelliği değildir?

- A) Köşeleri yoktur.  
 B) Yuvarlanabilirler.  
 C) Çember çizebiliriz.

7.



Yandaki şekille ilgili verilen bilgilerden hangisi yanlıştır?

- A) Şekli kullanarak kare ve dikdörtgen çizebiliriz.  
 B) Yukarıdaki şeklin aynısından üstüne bir tane daha eklersem dikdörtgenler prizması oluşur.  
 C) Şeklin adı kare prizmadır.

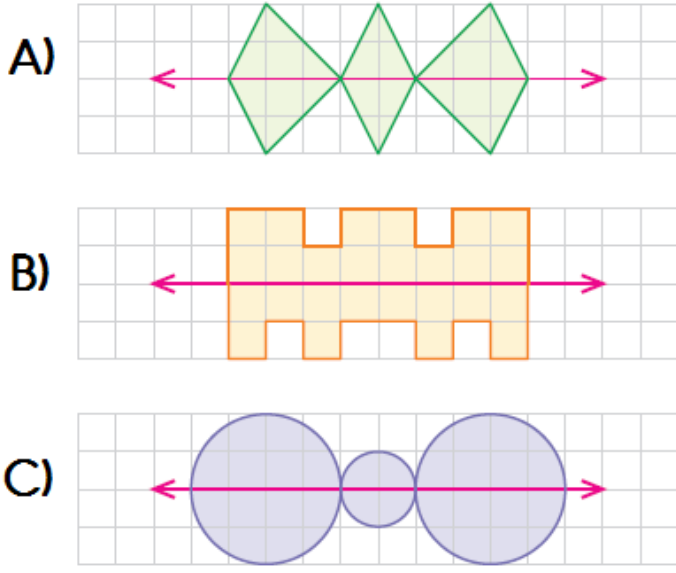
8.

Bir bahçede 62 tane ağaç vardır. Bunlardan 26 tanesi elma, 15 tanesi erik geriye kalanlarda kayısı ağacıdır.

Yukarıda verilen bilgilere göre bu bahçede kaç tane kayısı ağacı vardır?

- A) 41      B) 21      C) 31

9. Aşağıda verilen şekillerden hangisinin simetri doğrusuna göre simetriği yanlış çizilmiştir?




10.



Yukarıdaki kitapların toplam sayısını bulmak için aşağıdaki işlemlerden hangisi yapılamaz?

- A)  $4 + 4 + 4$   
 B)  $3 \times 4$   
 C)  $4 \times 4$

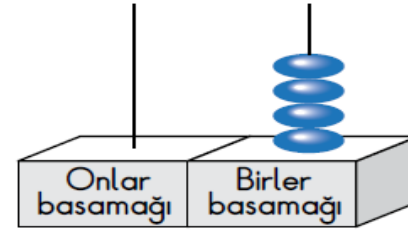
11.



Yukarıdaki ineklerin toplam ayak sayısını bulmak için aşağıdaki işlemlerden hangisi yapılamaz?

- A)  $4 + 4 + 4 + 4 + 4 + 4$   
 B)  $6 \times 4$   
 C)  $6 + 4$

12.



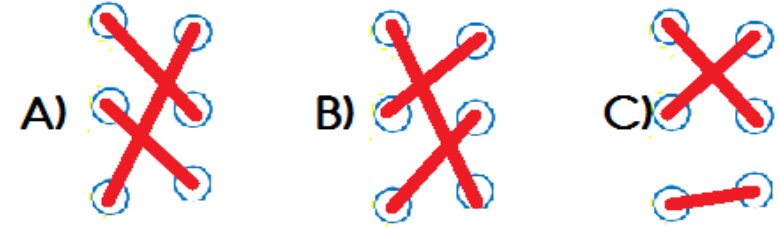
Ece abaküste iki basamaklı bir sayı oluşturacaktır. Oluşturacağı sayının **basamak değerleri farkı** 26'dır. Abaküste birler basamağı olan kısma 4 boncuk takmıştır. Buna göre onlar basamağının olduğu yere kaç boncuk takmalıdır?

- A) 2      B) 3      C) 4

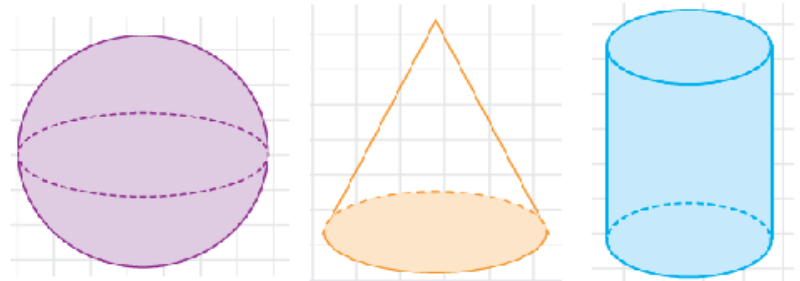
13.

- 2 DESTE    $6 \times 4$   
 2 DÜZİNE    $4 \times 5$   
 1 ONLUK    $1 \times 10$

Çarpma işlemleri sonuçlarıyla eşleştirilirse görünüm nasıl olur?



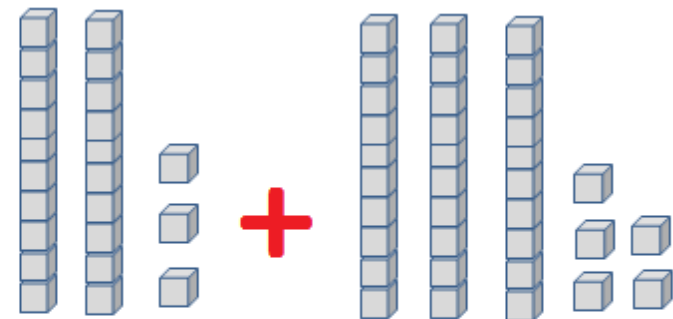
14.



Yukarıdaki şekillerden kaç tanesini kullanarak çember çizebiliriz?

- A) 3      B) 2      C) 1

15.



Yukarıdaki işlemin tahmini sonucu kaçtır?

- A) 50      B) 60      C) 58

16.



Yukarıdaki bardakların toplam sayısını çarpma işlemi şeklinde bulmak için aşağıdaki işlemlerden hangisi yapılamaz?

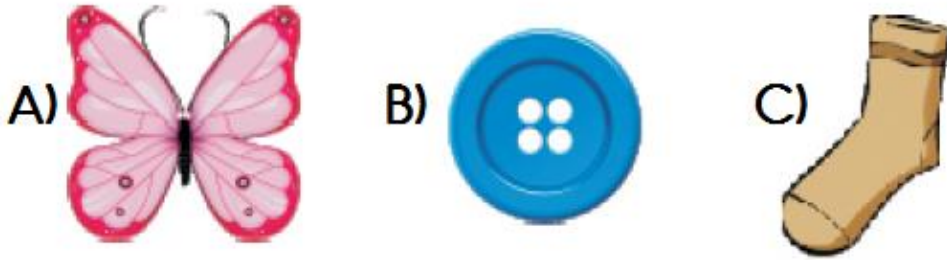
- A)  $7 \times 2$       B)  $2 \times 7$       C)  $2 \times 8$

17.

Aşağıda verilen eşitliklerden hangisi yanlıştır?

- A)  $25 + 25 = 60 - 10$   
B)  $45 - 5 = 20 + 10$   
C)  $20 \times 1 = 10 + 10$

18. Aşağıda verilen şekillerden hangisi iki eş parçaya ayrılmaz?



19.



Yukarıdaki numaralı şekillerin isimleri sırasıyla hangi seçenekte doğru olarak verilmiştir?

	1	2	3
A)	üçgen prizma	silindir	küre
B)	üçgen prizma	koni	silindir
C)	üçgen	koni	çember

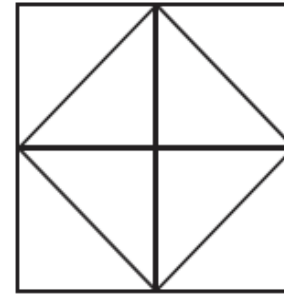
20.



Yukarıdaki öğrenciler 4'er ritmik saymaktadırlar. Ortadaki öğrenci "32" dediğine göre, ilk ve son öğrencinin söylediği sayıların toplamı kaçtır?

- A) 64      B) 60      C) 54

21.



Yandaki şekilde kaç tane kare vardır?

- A) 4      B) 5      C) 6

22.



Yukarıda üç eş şişedeki aynı miktardaki suyu 3 farklı boş kaba boşaltılmıştır.

Yukarıda verilen bilgiye göre aşağıdakilerden hangisi yanlıştır?

- A) Su seviyesi en az olan cam leğendir.  
B) Su seviyesi en çok olan su bardağıdır.  
C) En fazla su cam sürahide vardır.


23.



Yukarıdaki toplam çiçek sayısını aşağıdaki işlemlerden hangisini yaparak bulabiliriz?

- A)  $4 \times 5$       B)  $4 \times 4$       C)  $5 \times 5$

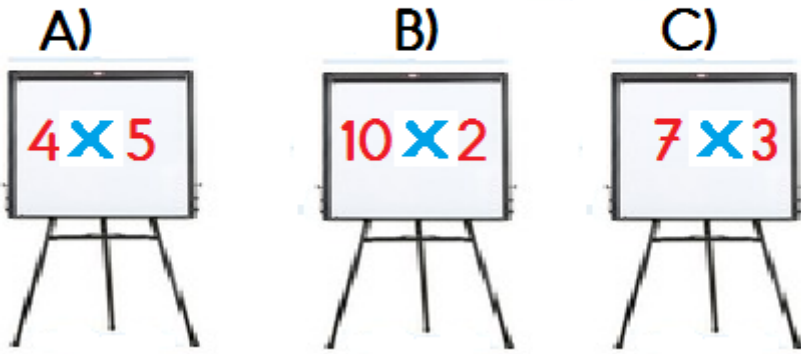
24.



Bir kutu 4 bardak sıvı almaktadır.  
Buna göre 12 bardak sıvı ile kaç kutu doldurulur?

- A) 2      B) 3      C) 4

25. Aşağıdaki işlemlerden hangisinin sonucu farklıdır?



×	4	3	5	2
1				
5				
3				
2				

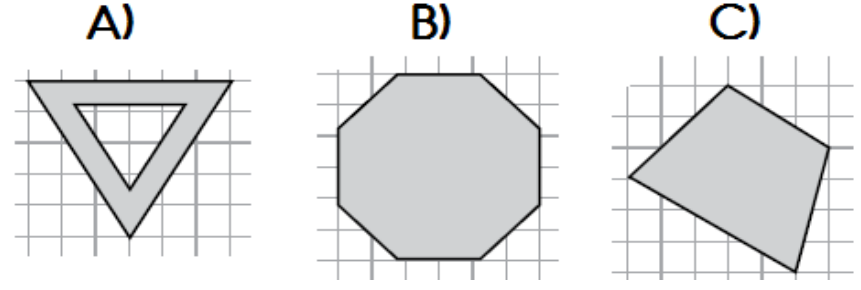
26. Yukarıdaki çarpma tablosuna göre boyalı alanlara yazılacak sayıların toplamı kaçtır?

- A) 28      B) 24      C) 22

27. Toplamları 8 , çarpımları 12 olan sayı çifti aşağıdakilerden hangisinde verilmiştir?

- A) 6 ve 2      B) 5 ve 3      C) 4 ve 3

28. Aşağıdaki şekillerden hangisi iki eş parçaya ayrılmaz?



29.

İshak, sınıf listesinden baştan 9. sırada ,sondan 10. sıradadır.

Buna göre bu sınıfta toplam kaç öğrenci vardır?

- A) 18      B) 19      C) 20

30. Aşağıdakilerden hangisi bir örüntüdür?



31.

Sınıfımızda 14 kız öğrenci, kız öğrencilerden 3 fazla erkek öğrenci vardır.

Yukarıdaki bilgilere göre sınıfta toplam kaç öğrenci vardır?

- A) 17      B) 31      C) 27

Toplam birim küplerin sayısını bulmak için ne yapmalıyız?

Bir satırda bulunan birim küplerin sayısı ile, satır sayısını çarparsınız.

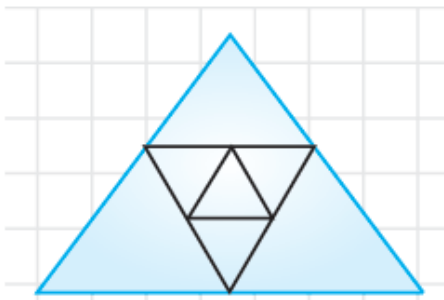
32. Çocukların verdiği bilgilere göre sarı ile boyalı olan kısımdaki birim küplerin sayısını bulmak için hangi işlem yapılmalıdır?
- A)  $10 \times 8$   
B)  $8 \times 4$   
C)  $10 \times 4$



32. Yukarıdaki kablara aynı miktarda su konulduğunda hangi kaptaki su seviyesi diğerlerinden az olur?
- A) damacana B) fincan C) sürahi



33. Yukarıda çocukların söylediği sayıların tahmini toplamı kaçtır?
- A) 80 B) 90 C) 100



34. Yukarıdaki şekilde kaç tane üçgen vardır?
- A) 8 B) 9 C) 10

35. Yukarıda verilen örüntüyle aşağıdaki örüntülerden hangisinin kuralı aynıdır?
- A)
- B)
- C)

36. Yukarıda numarası olmayan arabalara hangi numaralar verilirse arabalar küçükten büyüğe doğru sıralanmış olur?
- A) 63 - 78 B) 67 - 75 C) 70 - 93

Benim yaşı, en yakın onluğa 10 olan en küçük sayı kadardır.

Benim yaşı bir basamaklı en büyük sayı kadardır.

37. Çocukların yaşları toplamı kaçtır?
- A) 14 B) 18 C) 20

$$\begin{array}{r} 40 + 30 \rightarrow 70 \\ 5 + 4 \rightarrow 9 \\ \hline 79 \end{array}$$

38. Yukarıdaki zihinden toplama işlemini yapan bir öğrenci hangi sayıları toplamış olabilir?
- A)  $45 + 34 = 79$   
B)  $49 + 30 = 79$   
C)  $75 + 4 = 79$

39. Aşağıda verilen eşitliklerden hangisi doğrudur?

A)  $35 + 23 = 19 + 39$

B)  $50 - 15 = 20 + 25$

C)  $40 + 30 = 50 + 10$

40.

S  $45 + 45$

L  $27 + 27$

A  $14 + 30$

I  $39 + 29$

Yukarıda verilen işlemlerin sonuçlarını büyükten küçüğe doğru sıralarsak şifre ne olur?  
A) SALI B) SILA C) ASLI



Merve

Benim yaşı 1 düzineden 1 fazladır.



Nilsu

Ben Merve'den 3 yaş küçüğüm.

Yukarıdaki bilgilere göre Merve ile Nilsu'nun 2 yıl sonraki yaşları toplamı kaçtır?

- A) 23 B) 25 C) 27

Ben günde 4 kg saman tüketiyorum.



42.



Bende günde 2 kg saman tüketiyorum.

Yukarıdaki hayvanlar 1 haftada toplam kaç kg saman tüketir?

- A) 6 B) 36 C) 42



43.

Yukarıdaki balonlardan en yakın onluğu yetmiş olanlar patlatılırsa geriye kaç balon kalır?

- A) 2 B) 3 C) 1

44.

$20 + 5 = 25$   
 $25 + 5 = 30$

Yukarıda çözümü verilen problem aşağıdakilerden hangisidir?

A) Çantasında 20 kalem olan İbrahim, 5 kalem daha alırsa kaç kalemi olur.

B) 20 Ağacın olduğu bahçeye kaç ağaç daha dikersem 30 ağaç olur.

C) Kumbarasında 20 Lira olan Yusuf, kumbarasına her ay 5 lira atarsa, 2 ay sonra kaç lirası olur?

45.

$30 + 8 + 50 + 1$   
 $80 + 9$   
 $89$

Yandaki zihinden toplama işlemi aşağıdakilerden hangisi olabilir?

- A)  $80 + 9 = 89$   
B)  $39 + 50 = 89$   
C)  $38 + 51 = 89$

46.

Bir bahçede 34 limon ağacı ve 49 elma ağacı vardır. Bahçedeki ağaçların 14 tanesi kurumuştur. Buna göre bu bahçede kaç tane ağaç kalmıştır?

- A)  $34 + 49 = 83$  B)  $49 - 14 = 35$  C)  $34 + 49 = 83$   
 $83 - 18 = 65$   $35 + 34 = 69$   $83 + 14 = 97$

1. Aşağıda verilen bilgilerden hangisi yanlıştır?
- A) Bisiklet kullanırken kask ve dizlik takmalıyız.  
B) Oyun parkları güvenli oyun alanlarıdır.  
C) Sokaklarda oyun oynayabiliriz.

2. 9 yaşındaki Yusuf'un 3 günlük öğle yemeği listesi aşağıda verilmiştir.

Pazartesi	Salı	Çarşamba
Mercimek çorbası Balık Salata	Makarna Patates cipsi Ekmek	Kuru fasulye Pilav Elma

Buna göre Yusuf hangi gün ya da günlerde dengeli beslenmiştir?

- A) Pazartesi                      B) Salı  
C) Pazartesi ve çarşamba



3. Aşağıdakilerden hangisi yukarıda verilen kavramı olumsuz etkiler?
- A) Evde klima çalışırken camları açmak.  
B) Oturmadiğimiz odaların ışıklarını kapatırım.  
C) Bozuk olan musluğu yaptırmak.

4.



Ramazan yolda yürürken resimdeki olaya tanık oluyor.

Ramazan'ın aşağıda verilen acil durum numaralarından hangisini aramasına gerek yoktur?

- A) 112                      B) 155                      C) 122

Toplu taşıma araçlarına önden binip arkadan inmeliyiz.
Yakın bir yere giderken emniyet kemeri takmamıza gerek yoktur.
Çocuklar araçta ön koltuğa oturmamalıdır.
Toplu taşıma araçlarının durduğundan emin olduktan sonra binmeliyiz.

5.

Yukarıdaki tabloda doğru olanlara "D" yanlış olanlara "Y" yazarsak tablonun görünümü nasıl olur?

- A) 

D
Y
D
D

      B) 

D
D
Y
D

      C) 

Y
D
Y
D

Islak elle prize dokunulmayacak.

Yatmadan önce kömürlü sobalar kapatılacak.

Ocaktaki yemeğe dikkat edilecek.

Yanma

Elektrik çarpması

Zehirlenme

6.

Yukarıda ev kazalarını önleme kuralları ve uyulmazsa oluşabilecek sonuçlar yer almaktadır.

Buna göre kural - sonuç eşleşmesi aşağıdakilerin hangisinde doğru olarak verilmiştir?

- A)      B)      C)

Uzayan tırnaklarımı keserim	Grip olmuş arkadaşşıma sarılıp onu öperim.
Hastalandığımda evdeki ilaçlardan kullanabilirim.	Mevsimine uygun beslenirim.

7.

Yukarıdakilerden kaç tanesi sağlığını olumsuz etkiler?

- A) 1                      B) 2                      C) 3

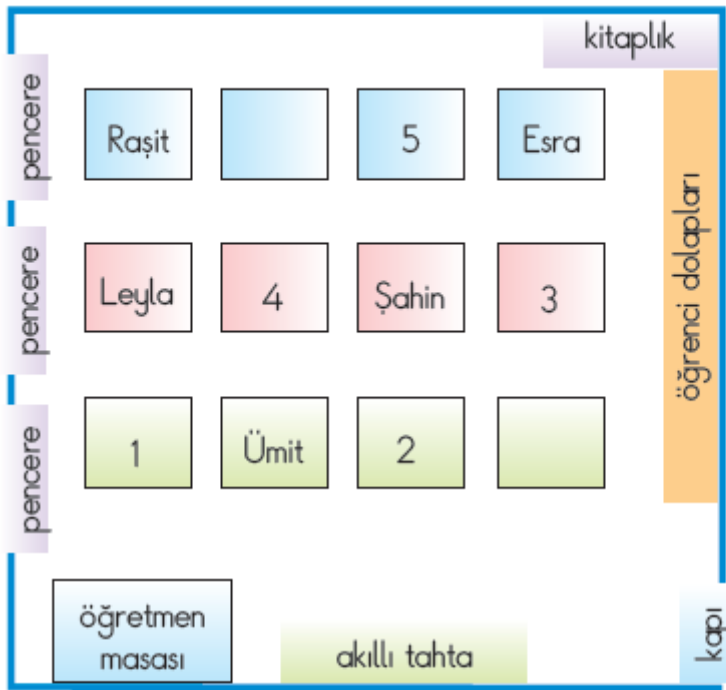
**8.** **Şahan** Acil durumlarda yardım isteyebileceğimiz telefon numaralarını gereksiz yere aramamalıyız.

**Mehmet** Acil durumlarda ailemize ulaşmak için sadece babamızın telefon numarasını ezberlemeliyiz.

**Sezer** Karşılaştığımız acil durumlarda sessizce olayı izlemeliyiz ya da saklanmalıyız.

Yukarıdaki çocuklardan hangisinin söylediği **doğrudur**?

- A) Şahan B) Mehmet C) Sezer



**9.** Yukarıda 2/ E sınıfına ait kroki verilmiştir.

İsmail, kapıdan girişteki ilk sıranın arkasındaki sırada oturmaktadır. Buna göre İsmail kaç numaralı sırada oturuyordur?

- A) 3 B) 2 C) 1

Sağlığımızı korumak için;

1. Evimizi temiz tutmalı.
2. Çöpleri yere atma
3. Oyun alanlarını temiz tutmalı.
4. Atıkları denize atmalı.

ifadelerinden hangileri doğru **değildir**?

- A) 2 ve 4 B) 1 ve 3 C) 2 , 3 ve 4

**11.** Toplu taşıma araçlarıyla ilgili verilen bilgilerden hangisi **yanlıştır**?

- A) Ön kapıdan inilip arka kapıdan binmeliyiz.  
B) Aracın durduğundan emin olduktan sonra binmeliyiz.  
C) Yaşlı , hasta ve hamilelere yer vermeliyiz.

**12.** Toplu taşıma araçlarında uymamız gereken kurallar nelerdir?

Öğretmenin sorduğu soruya hangi öğrenci **yanlıs** cevap vermiştir?

- A) **Leyla** : Arkadan binip , önden inmeliyiz.  
B) **Ahmet**: Aracın durduğundan emin olduktan sonra inmeli ve binmeliyiz.  
C) **Asmin**: Toplu taşıma araçlarını temiz bırakmalıyız.

- 13.**  Haftaya pazar günü bir akrabamızın düğününe gideceğiz.  
 Kuzenim Menasa'nın doğum günü için hediye alacağım.  
 Dün akşam , ninemi hastaneye ziyarete gittik.

**Yardımlaşma ve dayanışmayı** ifade eden cümlelere ait semboller aşağıdakilerden hangisidir?

- A)   B)   C)

**14.**



Krokiye göre aşağıdakilerden hangisi **yanlıştır**?

- A) Zafer Caddesi üzerinde hastane vardır.  
B) Müze ve park Zafer Caddesi üzerindedir.  
C) Banka ile okul karşılıklıdır.



15.

Bak şu kız sınıfımıza yeni geldi, adı Ezgi. Yüzü çillerle kaplı, ürkütücü görünüyor ama çalışkan ve iyi bir kız. Onu çok sevdim. Bence dış görünüşü önemli değil.



Yukarıdaki konuşmayla ilgili aşağıdaki ifadelerden hangisi **doğrudur**?

- A) Ezgi'nin diğer öğrencilerden farklı bir görünüşü yoktur.  
 B) Ezgi'yi sınıftan dışlayıp alay etmişlerdir.  
 C) Ezgi'nin farklılığının doğal olduğunu kabul etmişlerdir.

İHTİYAÇLARIMIZ	İSTEKLERİMİZ
 1	 6
 2	 7
 3	 8
 4	 9
 5	 10

16. Yukarıdaki tabloda istek ve ihtiyaç resimlerinden hangileri yanlış yerleştirilmiştir?

- A) 1 3 6 7 8  
 B) 2 4 5 7 8  
 C) 1 3 8 9 10

17.

Yazın sağlıklı sebze ve meyve tüketmek isteyen İbrahim hangi seçenektekileri tüketmelidir?

- A) karpuz - domates  
 B) armut - brokoli  
 C) pırasa - üzüm

18.



19.




- \* Tuvaletten çıkınca ellerimi yıkarım.
- \* Meyve ve sebzeleri yıkamadan yemem.
- \* Günde iki kez dişlerimi fırçalarım.

Asmin bir konu hakkında yukarıdaki konuşmaları yapmıştır. Buna göre Asmin hangi konu hakkında konuşma yapmıştır?

- A) Dengeli beslenme  
 B) Sağlıklı yaşam  
 C) Büyüme ve gelişme

20.

Aşağıdaki çocuklardan hangisinin sağlıklı beslendiği söylenebilir?



A) Açıkta satılan yiyeceklerden tüketmem.



B) Geç yatıp geç kalkarım.



C) Sevdiğim yiyecekleri daha çok tüketirim.

21.

Aşağıda verilen bilgilerden hangisi **yanlıştır**?

- A) Babam, amcam ve halam kardeşlerdir.  
 B) Annem, teyzem ve dayım kardeşlerdir.  
 C) Dayım, amcam ve teyzem kardeşlerdir.

22. Aşağıdakilerden hangisi hastanede gerçekleşmez?

- A) Muayene olmak
- B) Röntgen çektirmek
- C) İlaçları satın almak

Adres bilgilerimizi verirken aşağıdakilerden hangisini söylememize gerek yoktur?

- A) Ev telefonu
- B) Mahalle adı
- C) Kapı numarası

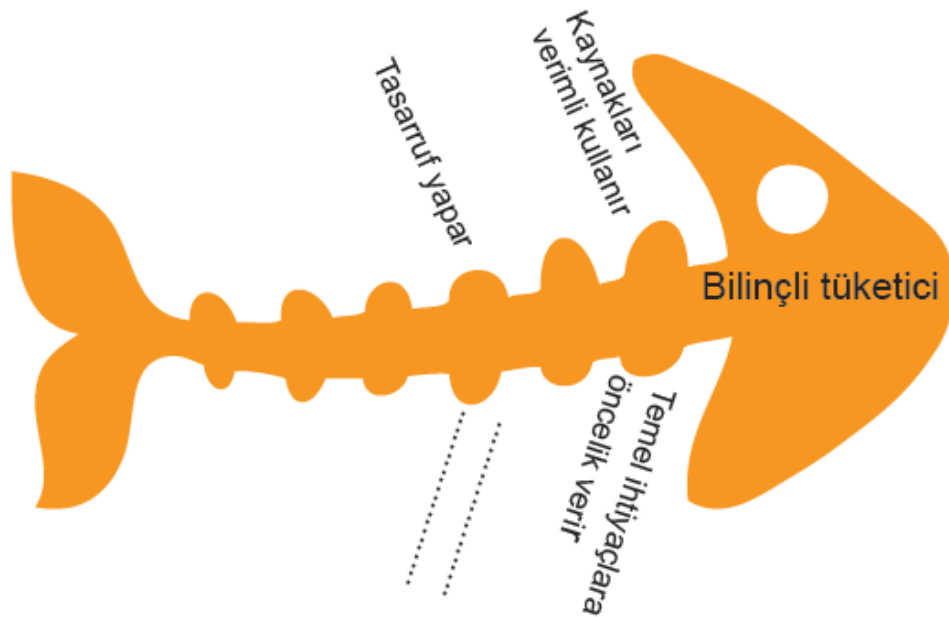
23. Aşağıdaki bilgilerden hangisi yanlıştır?

- A) Mevsimine uygun sebze ve meyve tüketmeliyiz.
- B) Çilek her mevsim tüketilmelidir.
- C) Meyve ve sebzeleri yemeden önce yıkamalıyız.

24. Birgül'ün yaşadığı mahallede onarım ve bakım çalışmaları yapılacağı için elektriklerin iki gün kesileceği duyuruldu.

Buna bağlı olarak Birgül'ün evi ve mahallesinde aşağıdaki durumlardan hangisinin yaşanması beklenir?

- A) Okullar tatil edilir.
- B) Belediyenin otobüs seferleri iptal edilir.
- C) Buzdolabındaki yiyecekler bozulur.



25. Bilinçli bir tüketici için balık kılçığına aşağıdakilerden hangisi yazılmamalıdır?

- A) Önce isteklerini sonra ihtiyaçlarını alır.
- B) Aile bütçesine göre alışveriş yapar.
- C) Okuldaki ve evdeki kaynakları kullanırken dikkatli ve özenli davranır.

- Su , elektrik ve doğal gaz gibi kaynakları bol bol tüketmeliyiz.
- Bireylerin boyu ,kilosu , saç ve göz rengi fiziksel özelliklerimizden bazılarıdır.
- Oyundan önce oyun kuralları belirlenmelidir.
- Bireysel farklılıklara karşı saygılı olmalıyız.

26.

Yukarıda verilen bilgilerden kaç tanesi doğrudur?

- A) 2
- B) 3
- C) 4

	Karnı aç olan sofraya önce oturup yemeğe başlayabilir.
	Yemeği hızlı hızlı yemeliyiz.
	Yemekten önce ve sonra ellerimizi yıkamalıyız.
	Tabağımıza yiyebileceğimiz kadar yemek koymalıyız.

27.

Yukarıdaki tabloda doğru olanlara " D " yanlış olanlara " Y " yazarsak görünüm nasıl olur?

- A) 

Y
Y
D
D

 B) 

Y
D
D
Y

 C) 

D
Y
D
D

28.

Aşağıdakilerden hangisi grup çalışmalarının yararlarından değildir?

- A) Sorumluluk duygusunu geliştirir.
- B) Yeteneklerimizi geliştirir.
- C) Bencillik duygumuzu geliştirir.

29.

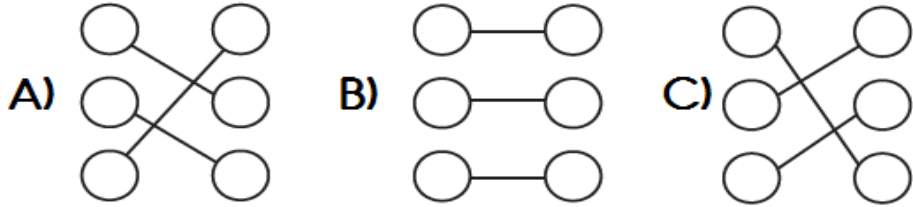
- Senin olsun
- Lütfen
- Kolay gelsin
- Geçmiş olsun
- Git başımdan

Yukarıdaki ifadelerden kaç tanesi nezaket ifadesidir?

- A) 2
- B) 3
- C) 4

<input type="radio"/>	Orman memleketin süsü, Hem ufağı hem irisi Her dalında bir kuş sesi, Ormandaki varlığa bak.	<input type="radio"/>	Bahar sevinci
<input type="radio"/>	Güneş yine can verir Sulara, topraklara. Yer, gök sevinç içinde Kavuşurlar bahara.	<input type="radio"/>	Sağlığın önemi
<input type="radio"/>	Uyu, eğlen ve dinlen Güzel, dengeli beslen. Kazanırsın güç, kuvvet Sağlığına dikkat et.	<input type="radio"/>	Orman sevgisi

1. Yukarıda verilen dörtlükler **ana duygusu** ile eşleştirilirse nasıl bir şekil ortaya çıkar?



Teyzemler apartmanın en geniş dairesinde oturuyorlar.

2. Yukarıdaki cümlede hangi sorunun cevabı **yoktur**?

A) Kim?  
B) Ne zaman?  
C) Nerede?

3. Aşağıdaki cümlelerin hangisi **duygu** belirtmektedir?

A) Dün arkadaşım okula gelmedi.  
B) Tatilimizi Tarsus'ta geçireceğiz.  
C) Okulumu çok özledim.

4. Defne, dedesinin aldığı kitapları alfabetik sıraya göre okumak istiyor. **En son** kaç numaralı kitabı okur?  
A) 1 B) 2 C) 3

5.



Yukarıdaki hecelerler anlamlı kelimeler oluşturulacaktır.

Aşağıdaki kelimelerden hangisi **olusturulamaz**?

A) mutfak  
B) sarı  
C) armut

6.

Hangi cümledeki boş bırakılan yere " için " kelimesi **yazılamaz**?

A) Gece geç yattığı .....sabah uyanamadı.  
B) Geç uyandığı ..... servisi kaçırdı.  
C) Bu nedenle .....ilk derse giremedi.



7.

Yukarıdaki kelimeler sözlük sırasına göre sıralanmıştır. Buna göre ★ ile gösterilen yere aşağıdaki sözcüklerden hangisi **yazılamaz**?

A) kütük B) kömür C) kolye

8.

Aşağıdaki sözcüklerden hangisi satır sonunda **doğru** ayrılmıştır?

A) .....o-  
tobüs B) .....kala-  
balık C) .....incel-  
ik

9.

Aşağıda verilen cümlelerin hangisinde büyük harflerin yazımı ile ilgili **yanlışlık** yapılmıştır?

A) Ahmet Amcam bugün bize uğrayacak.  
B) Benim doğum günüm 15 Şubat'tadır.  
C) Bu yıl Kurban Bayramı'nda nereye gideceksiniz?

10.

Aşağıdaki sözcüklerden hangisi sözlükte diğerlerinden **sonra** gelir?

A) yas B) yastık C) yasak

11. Aşağıda verilen cümlelerin hangisinde olay nedeniyle birlikte verilmiştir?  
 A) Tiyatroda iyi rol yaptığı için izleyiceler alkışladı.  
 B) Kitapların çoğunu geri dönüşüme gönderdik.  
 C) Bence Tarsus diğer şehirlerden daha güzel.

12. Aşağıdaki cümlelerin hangisinde çoğul ad kullanılmamıştır?  
 A) Akvaryumdaki balıklara ne oldu?  
 B) Kafeste kuş ötüyor.  
 C) Tabakları kim yıkadı?

İki kardeş çok heyecanlıydı. Uzun süredir istedikleri köpek akşam onlarda olacaktı. Heyecanlı bekleme bütün gün sürdü. Akşam oldu, kapı çaldı.

13. Yukarıdaki metin aşağıdaki cümlelerden hangisiyle tamamlanamaz?  
 A) Babaları kucağında köpeğiyle kapıdaydık  
 B) Babaları karşılarındaydı ama köpek yoktu.  
 C) Evde bütün gün oyun oynamışlardı.

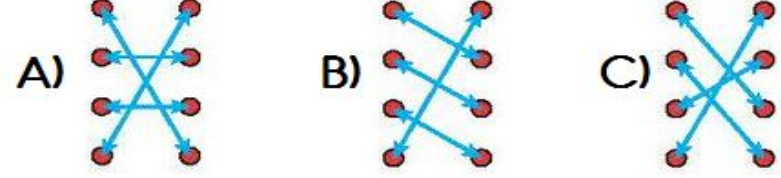
14. Aşağıdaki cümlelerden hangisi karşılaştırma cümlesi olabilir?  
 A) Dikkatli dinlemediği için anlamadı.  
 B) En çok kırmızı rengi seviyorum.  
 C) Bugün çok mutluyum.

1	F	A	K	İ	R
2	B	E	Y	A	Z
3	D	O	S	T	

15. Hangi satırda yazan sözcüğün eş anlamlısı yoktur?  
 A) 1 B) 2 C) 3

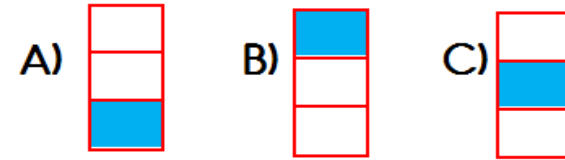
sayı boncuğu	sonbahar
doğa	abaküs
neşeli	tabiat
güz	şen

16. Yukarıdaki kelimeler es anlamlarıyla eşleştirilirse görünüm nasıl olur?



17. Aşağıdaki tabloda büyük harflerin yazımı ile ilgili yanlış yazılmış olan kutucuğu boyarsam tablonun görünümü nasıl olur?

Yıllardır Atlas Dergisi alıyor.
Pazar günü Adana 'ya gideceğim.
Recep Bey'le görüşmeye gidiyorum.



18. Balonlarda yazılı sözcükler karşıt anlamlılarıyla eşleştirilirse kaç tanesi dışta kalır?  
 A) 2 B) 3 C) 4

19. - Hey ( ) Kimse yok mu ( )  
 - Büşra ( ) Enes ve ben varım ( )

Yukarıdaki ( ) ile belirtilen yerlere sırasıyla hangi noktalama işaretleri konulmalıdır?

- A) (!) (?) (,) (.)  
 B) (!) (,) (,) (.)  
 C) (,) (?) (,) (.)

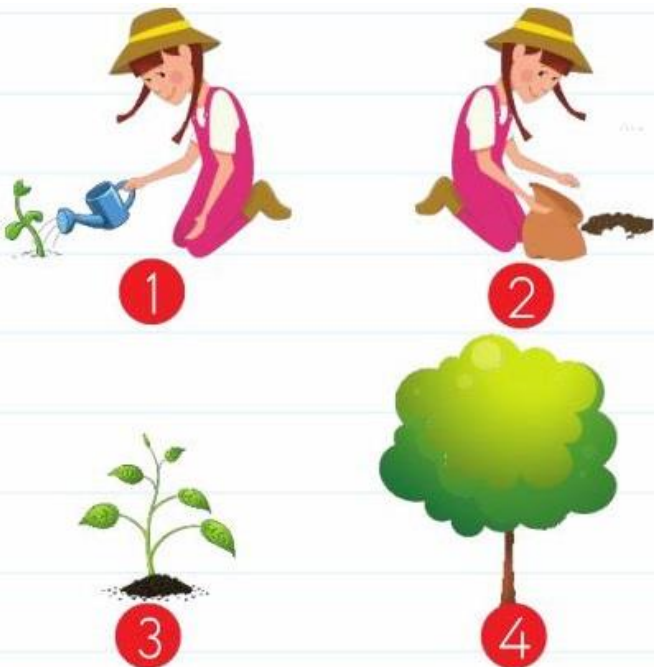
1. Kapının deliğinden gelene baktı.
2. Kapı zili çaldı.
3. Annesi, Eren'e "Kapıyı tanımadığına açma." demişti.
4. Gelen, arkadaşı Zeynep'ti.

20. Yukarıdaki cümlelerin anlamlı sıralanışı aşağıdakilerden hangisidir?

- A) 1 - 4 - 2 - 3  
B) 2 - 3 - 1 - 4  
C) 3 - 1 - 4 - 2

21. " Oynamak " kelimesi aşağıdakilerin hangisinde " eşyanın herhangi bir parçasının kımıldaması , hareket etmesi " anlamında kullanılmıştır?

- A) Bu akşam televizyonda bizim dizi oynayacak.  
B) Parkta çocuklar güzelce oynadı.  
C) Sandalyenin ayağı oynuyor, çocuk düşebilir.



22. Yukarıdaki resimlerde anlatılanların oluş sırası aşağıdakilerden hangisinde verilmiştir?

- A) 2 - 1 - 3 - 4  
B) 3 - 4 - 2 - 1  
C) 4 - 3 - 1 - 2

23.

kilim

★

küpe

Yukarıdaki kelimeler sözlük sırasına göre sıralanmıştır. Buna göre ★ ile gösterilen yere aşağıdaki sözcüklerden hangisi yazılamaz?

- A) kütük B) kömür C) kolye



Elisa

Güzel soru sormak ilmin yarısıdır.



Zeynep

Güzel geçinmek aklın yarısıdır.



Emir

Cennet, annelerin ayakları altındadır.

24.

Yukarıdaki çocuklardan hangisinin söylediği cümlede, sözcük satır sonundan yanlıs ayrılmıştır?

- A) Emir B) Zeynep C) Elisa

25.

dize yüz surat uzun mısra

Yukarıda verilen kelimeler eş anlamlarıyla eşleştirilirse hangi kelime açıkta kalır?

- A) uzun B) surat C) mısra

26.

Burçak

Çetin

Burak

Yukarıda verilen isimlerin alfabetik olarak sıralanışı hangi seçenekte verilmiştir?

- A) Çetin - Burak - Burçak  
B) Burak - Burçak - Çetin  
C) Burçak - Burak - Çetin

27.



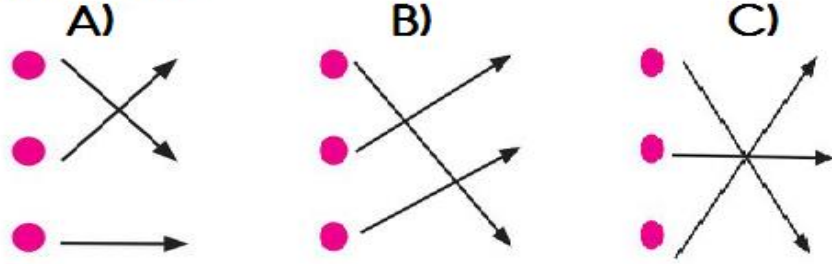
Ben 19 Mayıs tarihinde Samsun'a çıktım.

Atatürk'ün söylediği cümlede hangi sorunun cevabı yoktur?

- A) Nereye B) Kim C) Nasıl

boya	1
baca	2
beşik	3

28. Yukarıdaki sözcükler alfabetik sıraya göre eşleştirilirse tablonun görünümü nasıl olur?



1. Annem 23 ağustos 1990 yılında doğmuş.

2. Haftaya çarşambaya doğum günümü kutlayacağız.

3. Arkadaşım Ebru, İzmit'liymiş.

29. Yukarıdaki cümlelerin hangilerinde yazım yanlışı yapılmıştır?

- A) 1 ve 3
- B) 1 ve 2
- C) 2 ve 3

30. " Hayatının büyük kısmını çocuklarına ayırmıştı." Cümlesindeki altı çizili sözcüğün eş anlamlısı aşağıdakilerin hangisinde kullanılmıştır?

- A) Ailesini özlediği için köye gitmiş.
- B) Yaşamı uzak şehirlerde geçmiş.
- C) Günlerinin çoğunu tarla işleriyle geçiriyor.

Karabaş, ufak bir köpektir.

31. Yukarıdaki cümlede altı çizili sözcüğün yerine aşağıdakilerden hangisini kullanırsak cümlenin anlamı tam zıttına döner?

- A) minik B) uzun C) iri

32. Aşağıdaki cümlelerin hangisinde yazım yanlışı vardır?

- A) Babam bana flüt aldı.
- B) Aldığım kitapa kaybolmasın diye adımı yazdım.
- C) Gözde'yi gördün mü?

33. Aşağıdaki cümlelerin hangisinde karşılaştırma yapılmıştır?

- A) İnsanlar sağlıklı beslenmiyor ve spor yapmıyor.
- B) Bu nedenle geçmişe göre daha sık hastalanıyorlar.
- C) Bu durumdan kurtulmak için abur cubur yemekten kurtulmalıyız.

1 Erken ya da geç, oraya ulaşmalıyım.

2 Hakkında ileri geri konuşanlar yaptıklarından utanacaklardır.

3 Kabul etsen de etmesen de bu yarışmaya katılacağım.

34. Kaç numaralı cümlede zıt anlamlı kelimeler bir arada kullanılmamıştır?

- A) 1 B) 2 C) 3

bayrak	arı	yurt
söz	kilit	kurt

35.

Yukarıdaki kelimelerden kaç tanesi iki hecelidir?

- A) 3 B) 2 C) 1