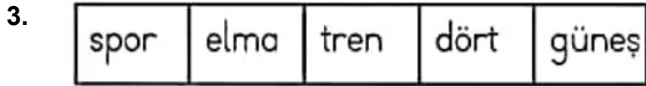


5.HAFTA DEĞERLENDİRMESİ TÜRKÇE MATEMATİK FEN BİLİMLERİ VE HAYAT BİLGİSİ

1. Aşağıdaki görsellerin hangisinin adında "a" harfi diğerlerine göre daha fazla yer almıştır?



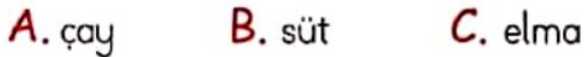
Yukarıda verilen nesnelere hangisinin adındaki hece sayısı fazladır?



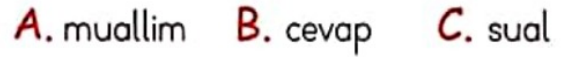
Yukarıdaki sözcüklerden satır sonuna geldiğinde hecesine bölünebilenler boyanırsa hangisi oluşur?



4. Aşağıdaki sözcüklerden hangisinin sestesi vardır?



5. Defne, öğretmenine soru sordu. Yukarıdaki cümlede altı çizili sözcüğün yerine hangisi gelirse cümlenin anlamında bir değişiklik olmaz?



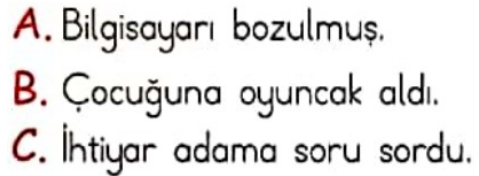
6.

yok	çık	var	üst	in
-----	-----	-----	-----	----

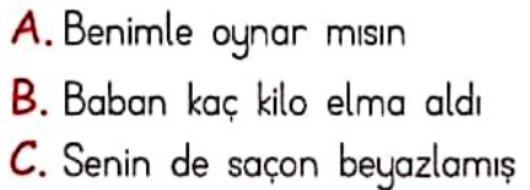
Yukarıda verilen sözcükler zıt anlamlarıyla eşleştirildiğinde hangi sözcük dışarıda kalır?



7. Aşağıdaki cümlelerden hangisinde virgül kullanılmadığı için anlam karışıklığı olmuştur?



8. Aşağıdaki cümlelerden hangisinin sonuna farklı bir noktalama işareti gelir?



9. Aşağıda verilen ifadelerden hangisi yanlıştır?

A. $3 + 6$ işleminde toplam çift sayıdır.

A. $12 + 8$ işleminde toplam çift sayıdır.

A. $7 + 9$ işleminde toplam çift sayıdır.

10. $21 < \dots < 26$

Yukarıdaki sıralamada boş bırakılan yere yazılabilecek sayı ile ilgili hangisi söylenemez?

A. Yazılabilecek en büyük tek sayı 25'tir.

B. Yazılabilecek en küçük tek sayı 21'dir.

C. Yazılabilecek en büyük çift sayı 24'tür.

11. $\textcircled{8}$ $\textcircled{9}$ $\textcircled{7}$

Yukarıdaki rakamları kullanarak oluşturulabilecek en büyük çift sayı kaçtır?

A. 978 B. 987 C. 879

12. $V + V$ işleminin sonucu kaçtır?

A. VI B. XV C. X

13. Aşağıdakilerden hangisinin sonucu tek sayıdır?

A. $\begin{array}{r} 126 \\ + 310 \\ \hline \end{array}$ B. $\begin{array}{r} 286 \\ + 323 \\ \hline \end{array}$ C. $\begin{array}{r} 193 \\ + 321 \\ \hline \end{array}$

14.

V	XIII	XIV
XVI	III	VII


16. 14 ve 5 sayıları boyanırsa tablonun görünümü hangisi olur?

A.

 B.


C.

15.

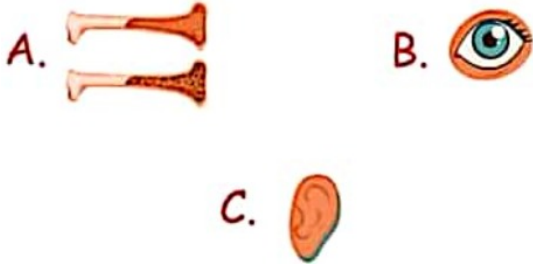


Yukarıdaki rakamları birer defa kullanarak oluşturulabilecek üç basamaklı en büyük çift sayı ile üç basamaklı en küçük tek sayının toplamı aşağıdakilerden hangisidir?

A. 612 B. 545 C. 653

16. Gamze yandaki görseli kullanarak fen bilimleri dersi için sunum hazırlayacaktır.
- 
- Buna göre Gamze hazırlayacağı sunumda aşağıdaki bilgilerden hangisini kullanamaz?
- A. Duymamızı sağlar.
B. Beş duyu organımızdan biridir.
C. Koku almamızı sağlar.

17. Aşağıdaki görsellerden hangisi duyu organlarımızdan biri değildir?



18. Aşağıdaki duyu organı ve görevleri eşleştirmelerinden hangisi yanlıştır?

- A. Göz → Görme
B. Burun → Koku alma
C. Dil → Duyma

19. Güneşli havalarda güneş gözlüğü takan Serhat hangi duyu organının sağlığını korumaya çalışmıştır?
- A. Kulak B. Göz C. Burun

20. Sibel yemeklerin tadlarını iyi alamadığı için doktora gitmiştir.

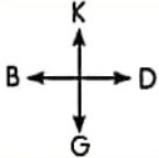
Sibel hangi duyu organının sağlığına dikkat etmemiştir?

- A. Göz
B. Burun
C. Dil

21. Sergen Öğretmen, sınıfta bir öğrencisini seçerek gözlerini kapatmasını istemiştir. Gözleri kapalı olan öğrencinin bir arkadaşını yüzüne dokunarak tanıdığını gözlemlemiştir.

Buna göre gözleri kapalı olan öğrenci hangi duyu organını kullanarak arkadaşını tanımıştır?

- A. El B. Burun C. Göz

- 22.
- | | | |
|---------|-------|---|
| Hastane | Okul | Muhtarlık |
| | |  |
| Durak | Manav | Kasap |

Okulun doğusunda ve batısında sırasıyla hangi yapılar vardır?


- A. Kasap - Manav
B. Hastane - Durak
C. Hastane - Muhtarlık


23. () Okulumuzda sosyal etkinliklerde görev almak için istekli olmalıyız.
 () Sınıf başkanlığına aday olmak için müdürden izin almak gerekir.
 () Sınıfta herkes fikrini açıkça söyleyebilir.


Yukarıdaki ifadeleri "Doğru, Yanlış" olarak değerlendireceğiz. Hatasız bir değerlendirme hangi seçenekteki gibi olmalıdır?

- | | | |
|---------------|---------------|---------------|
| A. (D) | B. (D) | C. (Y) |
| (Y) | (D) | (Y) |
| (D) | (Y) | (D) |

24. Hangi öğrencinin okul ile ilgili söyledikleri doğru değildir?

A.  Okul zaman kaybından başka bir şey değildir.

B.  Okul bizi geleceğe hazırlar.

C.  Okulda yeni bilgiler öğreniriz.

25. Okulumuz ve sınıfımızın yönetimi uygun olmalıdır.

Yukarıdaki noktalı alana aşağıdakilerden hangisi gelebilir?

- A.** sadece müdüre
B. demokratik kurallara
C. annemize

26. Aşağıdaki davranışlardan hangisi yanlıştır?

- A.** Okulun musluklarını açık bırakmak.
B. Gereksiz yanan lambayı söndürmek.
C. Okul merdivenlerinden yürüyerek inmek.