

ÖZEL OKUL SORULARINDAN HAZIRLAMIŞTIR

1. 1- turp
2- turunç
3- turna
4- turşu
Numaralanmış kelimelerin sözlük sırasına göre dizilişi aşağıdakilerden hangisidir?
A) 3-1-4-2
B) 3-4-2-1
C) 4-1-2-3
D) 4-3-2-1
2. Aşağıdaki eşleştirmelerden hangisi aralarındaki anlam ilişkisine göre farklıdır?
A) Güzel-çirkin
B) Yumuşak-sert
C) Kötü-fena
D) Yeni-eski
3. Yaşlılarına göre uzun bir çocuktur.
Bu cümledeki altı çizili kelimenin karşıt anlamlısı aşağıdakilerin hangisinde kullanılmıştır?
A) Arkadaşımın çok zayıf bir kedisi vardı.
B) Kısa olmasına rağmen her yere yetişiyordu.
C) Amcam kardeşlerine göre şişman görünüyordu.
D) Evin küçük bahçesinde meyve ağaçları vardı.
4. Aşağıdaki cümlelerde altı çizili kelimelerden hangisinin eşselsisi yoktur?
A) Kır atın yavrusu, annesine benziyordu.
B) Burak'ın yanağında küçük bir ben vardı.
C) Yüzünde çiçekler açmıştı.
D) Evinin penceresinde demir yoktu.
5. Her akşamüstü genç balıkçı neşeyle denize açılırdı.
Bu cümlede aşağıdaki sorulardan hangisinin cevabı yoktur?
A) Nereden?
B) Ne zaman?
C) Kim?
D) Nasıl?
6. 1. dükkân
2. satan
3. buldum
4. hikâye
5. bir
Numaralanmış kelimelerle anlamlı ve kurallı bir cümle kurulduğunda sıralama aşağıdakilerden hangisi olur?
A) 1-3-4-2-5
B) 2-5-4-1-3
C) 4-2-5-1-3
D) 5-1-3-4-2
7. Yağmurda ıslanıp hasta olmamak - - - - evlerine döndüler.
Bu cümlede boş bırakılan yere aşağıdakilerden hangisi getirilmelidir?
A) için
B) çünkü
C) fakat
D) sonra
8. Uçsuz bucaksız gökyüzü, deniz, bulutlar ve parlayan güneş Cansu'nun nefesini kesmişti. Denizin tepeden görünüşü, güneş ışınlarının suyun üzerinde dans edışı onu kendinden geçirmişti. Ne de olsa ilk kez bu yaz tatilinde görmüştü bu güzelliği.
Bu metindeki altı çizili söz hikâyenin hangi unsurudur?
A) Olay
B) Ana karakter
C) Yer
D) Zaman

9. Çocuklar çadırın içinde sohbet ediyorlardı. Yandaki çadırda sesler keşilmişti. Sadece kampın yakınındaki derenin şırlıtısı duyuluyordu. Yavaş yavaş akşam serinliği çıkmaya başlamıştı.

Bu metinde hangi duyuyla ilgili bir ayrıntı yoktur?

- A) Görme B) Koklama C) Dokunma D) Duyma

10. Aşağıdaki cümlelerin hangisinde sebep-sonuç ilişkisi yoktur?

- A) Kuşların civıltısını dinlerken uyuyakaldı.
B) Sevdiği oyuncasını evde unuttuğu için biraz üzüldü.
C) Kardeşinden su istedi çünkü çok susamıştı.
D) Dedesini özledi bu yüzden hafta sonu yanına gitti.

11. Ne çok spor dalı var.
Ben hepsini yaparım
Yüzerim, koşarım,
Tavşan gibi zıplarım,
Harika top oynarım,
Bisiklete binerim.

Bu şiirde aşağıdaki spor dallarının hangisinden bahsedilmemistir?

- A) Atletizm B) Yüzme
C) Güreş D) Bisiklet

12. Çöller hemen hemen hiç yağmur yağmayan alanlardır. Genellikle sıcak ve çoraktır. Çoğu kayalıktır, sadece birkaçı kumla kaplıdır. Çölde gündüzleri keseli fare gibi birçok canlı yer altına sığınır. Hayvanlar gecelerin hava daha serin olduğundan beslenmek için dışarı çıkar.

Bu metinde çöllerle ilgili aşağıdakilerden hangisine değünilmemistir?

- A) Genellikle yağış almadığına
B) Hayvanların yiyeceklerini zor bulduğuna
C) Çoğunun kayalıklarla kaplı olduğuna
D) Hava sıcaklığının geceleri düştüğüne

13. Yaylasına, ırmağına,
Yedi bölge toprağına
Ay yıldızlı bayrağına
Aşğım ben Türkiye'min.

Bu şiirin ana duygusu aşağıdakilerden hangisidir?

- A) Doğa sevgisi B) Vatan sevgisi
C) Umut D) Özlem

14. Aşağıdaki cümlelerin hangisinde karşılaştırma yapılmıştır?

- A) Maçın bitmesine yirmi bir dakika vardı.
B) Benim yapmam gereken küçücük bir şeydi.
C) Onun bu sözleri, Gizem üzerinde etkili oldu.
D) Son yolculuğumuz diğerlerinden daha kısa sürdü.

15. Merve televizyon habercisi. Kitapları tanıtıyor, eleştiriler yapıyor, izleyicilere sevdiği eserleri öneriyor. Halk ona güveniyor. Her hafta milyonlarca kişi onun programını izliyor. Bir kitap hakkında olumlu şeyler söylediğinde insanlar o kitabı almaya başlıyor.

Bu metinde Merve ile ilgili aşağıdakilerin hangisine değünilmemistir?

- A) Programının izlendiğine
B) Birçok kişinin ona güvendiğine
C) İnsanlar üzerinde etkili olduğuna
D) Yazar olarak tanındığına

16. (1) Ağlayan kızın gözünden inciler dökülüyordu. (2) Kızın ağladığını gören genç kadın onu güldürecek bir hikâyeye anlattı. (3) Gülmeye başlayan kızın yanaklarında güller açtı. (4) Kadın kalkıp kızın saçlarına su dökünce kızın başından altınlar saçıldı.

Bu metinde numaralanmış cümlelerin hangisinde hayali unsurlara yer verilmemistir?

- A) 1. B) 2. C) 3. D) 4.

17. Ağrı Dağına özellikle Nuh'un gemisi efsanesi sayesinde binlerce dağcı tırmanıyor. Ağrı Dağı, yüksek ama aynı zamanda tırmanması kolay bir dağdır. Dedegöl Dağları da sportif kaya tırmanışının merkezi olma yolunda ilerliyor. Aladağlar ise onlarca zirvesiyle âdeta bir tırmanma bahçesi.

Bu metnin konusu aşağıdakilerden hangisidir?

- A) Türkiye'de dağcılığa uygun dağlar
B) Dağların turizme etkisi
C) Dağcılık sporunun zorlukları
D) Türkiye'deki dağların oluşum biçimi

18. Aşağıdaki altı çizili kelimelerden hangisinin yazımı doğrudur?

- A) Frından yeni çıkan ekmekler mis gibi kokuyordu.
B) Emekli olan dedem kendisine bir tıraktör almıştı.
C) Elindeki tırmıkla bahçenin çöpünü temizliyordu.
D) Cumartesi günü cimnastik kursuna başlayacağım.

19. Aşağıdaki cümlelerden hangisi yazım ve noktalama yönünden doğrudur?

- A) Baban Edirne'ye niçin gitti?
B) Baban edirneye niçin gitti?
C) Baban Edirneye niçin gitti.
D) Baban edirne'ye niçin gitti.

20. Senin bu hâlin ne olacak() Çalışmazsan nasıl yaşayacaksın() Bence bu şekilde hayatta çok zorlanırsın()

Bu metinde boş bırakılan yerlere sırasıyla aşağıdaki noktalama işaretlerinden hangileri getirilmelidir?

- A) () () ()
B) (?) (?) ()
C) (?) () ()
D) () (?) (?)

21. Mert kırtasiyeden 5 deste kalem aldı. Bu kalemlerin bir kısmını kardeşine verince 4 düzine kalem kaldı. Mert kardeşine kaç kalem verdi?

- A) 2 B) 4 C) 6 D) 8

22. Mehmet 40'tan başlayarak geriye doğru dörder dörder 0'a kadar sayıyor. Seçil 1'den başlayarak ileriye doğru üçer üçer 43'e kadar sayıyor. İkisinin de söylediği kaç ortak sayı vardır?

- A) 1 B) 2 C) 3 D) 4

23. Merve her seferinde son yazdığı sayıya 6 ekleyerek bir örüntü oluşturuyor. İlk yazdığı sayı 11 olduğuna göre beşinci yazdığı sayı kaçtır?

- A) 29 B) 35 C) 41 D) 47

24. $\square + 17 = 36$ ve $\square + \triangle = 29$ olduğuna göre \triangle kaçtır?

- A) 8 B) 9 C) 10 D) 11

25.
$$\begin{array}{r} 42 \\ - \text{O} \star \\ \hline 24 \end{array}$$

Yukarıdaki çıkarma işlemine göre $\text{O} + \star$ kaçtır?

- A) 9 B) 10 C) 11 D) 12

26. Melis 47 liraya pantolon, 45 liraya ayakkabı satın aldı. Melis ayakkabı ile pantolon için kaç lira ödedi?

- A) 77 B) 82 C) 87 D) 92

27. $\triangle \star$ iki basamaklı bir sayıdır. \triangle 'in basamak değeri \star 'in basamak değerinden 14 fazladır. Buna göre $\triangle + \star$ kaçtır?

- A) 8 B) 6 C) 4 D) 2

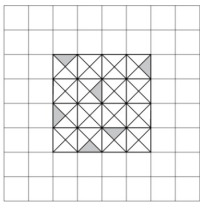
28. Bir okul kantininde bir defter 15 lira, bir kalem 10 lira, bir silgi 4 lira ve bir kalemıraş 3 liradır. Her üründen en az bir tane alan Onur 36 lira ödedi. Onur hangi üründen 2 tane satın aldı?

- A) Defter B) Kalem C) Silgi D) Kalemıraş

29. Bir mağaza elinde bulunan 20 parça ürünü beşerli paketler halinde satacaktır. Bir paketin satış fiyatı 9 liradır. Buna göre bu ürünlerin tamamını satan mağazanın kazancı kaç liradır?

- A) 45 B) 36 C) 30 D) 27

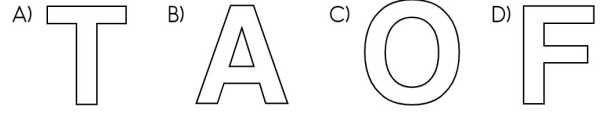
30.



Kareli kağıt üzerine çizilen şeklin tamamı ∇ biçimindeki şekillerle kaplanacaktır. Bunun için ∇ şekllinden kaç tane daha olması gerekir?

- A) 60 B) 59 C) 58 D) 57

31. Aşağıdaki şekillerden hangisi simetrik değildir?



32. Bir öğrenci birer tane karesel bölge, dikdörtgen bölge, üçgen bölge ve daire çiziyor. Bu öğrencinin çizmiş olduğu şekillerin köşe sayılarının toplamı kaçtır?

- A) 12 B) 11 C) 10 D) 9

33. Aysun'un bir karışı 20 cm'dir. Aysun'un ölçtüğü bir ipin uzunluğu 50 karıştır. Buna göre bu ipin uzunluğu kaç metredir?

- A) 1 B) 10 C) 100 D) 1000

11

34.



Yukarıda Nilgün'ün paraları gösterilmiştir. Buna göre Nilgün'ün ne kadar parası vardır?

- A) 46 lira 25 kuruş B) 46 lira 20 kuruş
C) 45 lira 75 kuruş D) 45 lira 50 kuruş

35. Emir her gün sabah ve akşam birer bardak süt içmektedir. Emir pazartesi sabahı içmeye başladığı bir kutu sütü çarşamba akşamı bitirdi. Emir her gün yalnız 1 bardak süt içmiş olsaydı bir kutu süt hangi gün biterdi?

A) Perşembe B) Cuma
C) Cumartesi D) Pazar

36. Simge : "Okulların kapanmasına 6 hafta 5 gün kaldı."
Ezgi : "Doğum gününe 1 ay 12 gün kaldı."
Berat : "Yaz tatili 37 gün sonra bitecek."
Umut : "3 gün 16 saat sonra yeni yıla gireceğiz."

Yukarıda hangi öğrencinin söylediği süre en uzundur?

A) Simge B) Ezgi C) Berat D) Umut

37. Bozuk bir tartı 2 kg eksik tartmaktadır. Bozuk olmayan bir tartıda Hakan'ın kütlesi 72 kg gelmektedir. Çantasıyla birlikte bozuk tartıya çıktığında bu tartı 77 kg göstermektedir.

Buna göre Hakan'ın çantası kaç kilogramdır?

A) 6 B) 7 C) 8 D) 9

38. Yasin, Ali ve Veli'nin her biri 4 paket şeker yemiştir. Her pakette 8 şeker vardır. Buna göre Yasin, Ali ve Veli toplam kaç şeker yemiştir?

A) 84 B) 88 C) 92 D) 96

39. Arda, Çağan ve Deniz'in toplam 28 bilyesi vardır. Deniz'in bilyelerinin sayısı Çağan'inkinden çok, Arda'ninkinden azdır. Üçünün bilyelerinin sayısını gösteren tablo aşağıdakilerden hangisi olabilir?

A)

Kişi	Bilye Sayısı
Arda	13
Çağan	7
Deniz	8

B)

Kişi	Bilye Sayısı
Arda	8
Çağan	9
Deniz	11

C)

Kişi	Bilye Sayısı
Arda	12
Çağan	10
Deniz	6

D)

Kişi	Bilye Sayısı
Arda	9
Çağan	11
Deniz	5

40. Aşağıdaki grafik bir sınıftaki öğrencilerin en çok sevdiği meyvelerin sayısını göstermektedir.

Grafik: En Çok Sevilen Meyveler

Nar	
Armut	
Elma	
Muz	
Çilek	

Grafikteki her bir meyve resmi, o meyveyi seven öğrenciyi göstermektedir.

Bu grafiğe göre aşağıdakilerden hangisi doğrudur?

- A) Armut sevenlerin sayısı, elma sevenlerin sayısından 1 eksiktir.
B) Elma sevenlerin sayısı, nar sevenlerin sayısından 2 eksiktir.
C) Muz sevenlerin sayısı, nar sevenlerin sayısından 2 fazladır.
D) Çilek sevenlerin sayısı, muz sevenlerin sayısından 3 fazladır.

41. Emine kedisini çok seviyordu. Onun sağlıklı olmasına özen gösteriyordu. Ama birgün Emine'nin kedisini hastalandı.

Emine kedisini tedavi ettirmek için aşağıdaki görevlilerden hangisine götürmelidir?

A) Veteriner B) Hemşire
C) Doktor D) Ebe

42. Atatürk'ün "Yurtta barış, dünyada barış." sözü, onun aşağıdakilerden hangisine karşı olduğunu gösterir?

- A) Gurura
C) Barışa
- B) Savaşa
D) Cumhuriyete

43. Aşağıdaki hak ve hürriyetlerden hangisi cumhuriyet yönetim şekliyle doğrudan ilgilidir?

- A) Yaşama hakkı
C) Din ve vicdan hürriyeti
- B) Seyahat hürriyeti
D) Seçme ve seçilme hakkı

44. Okul takımının kaptanı şampiyonluk kupasını aldıktan sonra takımını kutlayanlara, "Biz planlı ve disiplinli çalıştığımız için başarılı olduk." diyerek şampiyon olmalarının kendileri için sürpriz olmadığını söyledi.

Bu parçaya göre aşağıdakilerden hangisini yapmak başarılı olmayı sağlar?

- A) Okuldan geldikten sonra arkadaşlarla buluşup oynamak
B) Her işi, büyüklerimiz söyledikten sonra yapmak
C) Günlük işleri öncelik sırasına koymak
D) Ödevleri biriktirmek

45. 8 yaşındaki Bülent, aşağıdaki davranışlardan hangisini yaparsa aile içi yardımlaşmaya katkıda bulunmuş almaz?

- A) Annesiyle birlikte sofrayı hazırlaması
B) Kendi odasını temiz tutmaması
C) Kitaplıktan aldığı kitapları yerine koyması
D) Evdeki eşyaları dağıtmaması

46. Bu haftanın verdiği Öğütleri tutalım.
Bir lira artırıp
Kumbaraya atalım.

Okulunuzda kutladığınız aşağıdaki belirli gün ve haftalardan hangisinde bu şiiri arkadaşlarınıza okuyabilirsiniz?

- A) Kızılay Haftasında
B) İlköğretim Haftasında
C) Trafik ve İlk Yardım Haftasında
D) Tutum, Yatırım ve Türk Malları Haftasında

47. Atatürk, Türkiye Büyük Millet Meclisi tarafından 29 Ekim 1923 günü aşağıdaki görevlerden hangisine seçilmiştir?

- A) Ankara valiliğine
B) Türkiye Büyük Millet Meclisi başkanlığına
C) Türkiye Cumhuriyeti Devleti başbakanlığına
D) Türkiye Cumhuriyeti Devleti cumhurbaşkanlığına

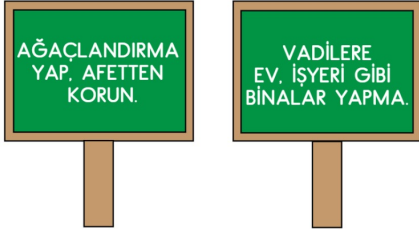
48.



Yukarıda sabahın erken saatlerine ait olan görsel incelendiğinde evin batısında aşağıdakilerden hangisi yer almaktadır?

- A) Köprü
C) Orman
- B) Traktör
D) Dağlar

49.



İlkokul öğrencilerinin hazırladığı yukarıdaki afişler hangi doğal afetle ilgilidir?

- A) Sel
B) Kuraklık
C) Deprem
D) Orman yangını

50. Aşağıdakilerden hangisi iletişim araçlarının doğru kullanımına örnek verilebilir?

- A) Yüksek sesle müzik dinlemek
B) Ders çalışırken televizyon izlemek
C) Telefon görüşmelerini kısa tutmak
D) Kütüphanede gürültülü bir şekilde gazete okumak

51. Tarık: "Babam hafta sonu su damlatan musluğu onardı, dışarıdan soğuk geldiği için pencere kenarlarına bant çekti. Evin odalarındaki lambaları az elektrik tüketenlerle değiştirdi."

Buna göre Tarık'ın babası için aşağıdakilerden hangisini söylemek doğru olur?

- A) Ev işlerini fazla sevmediği
B) Evin güzelliğine önem verdiği
C) Çocuklarının isteklerini hemen karşıladığı
D) Evde kullanılan kaynakları bilinçli tükettiği

52.



1

2

Görsellerde verilen durumların oluşması aşağıdakilerden hangisinin sonucudur?

- A) Ay'ın Dünya çevresinde dönmesinin
B) Dünya'nın Güneş etrafında dönmesinin
C) Dünya'nın kendi çevresinde dönmesinin
D) Güneş'in kendi çevresinde dönmesinin

53.

Ellerimi yıkarken sabun kullanırım.
Yemekten sonra dişlerimi fırçalarım.
Saçlarımı okula gitmeden tararım.




Duygu

Duygu'nun söylediklerine göre kişisel bakımı ile ilgili aşağıdakilerden hangisi doğrudur?

- A) Sadece okula giderken kişisel bakımını yapar.
B) Kişisel bakımında hiçbir malzeme kullanmaz.
C) Her zaman büyüklerinden yardım alır.
D) Temiz olmaya dikkat eder.

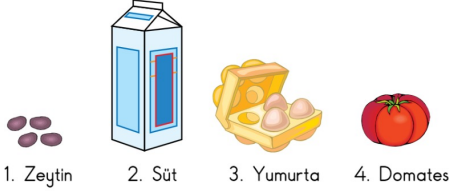
54.



Onur, vücudunu incelemek için aynaya baktığında aşağıdakilerden hangisini göremez?

- A) Kanı temizleyen organı
B) Ağız, gözler ve burnunu
C) Vücudun gövdeye bağlı kısımlarını
D) Hareket etmemizde görevli organları

55. Aşağıdaki görsellerde kahvaltıda yediğimiz bazı besinlere numaralar verilmiştir.



Buna göre bu besinlerin hayvanlardan ve bitkilerden elde edilenleri aşağıdakilerin hangisinde doğru gruplanmıştır?

	Hayvanlardan elde edilenler	Bitkilerden elde edilenler
A)	1, 2	3, 4
B)	2, 3	1, 4
C)	3, 4	1, 2
D)	1, 3	2, 4

56. Öğrenciler, sağlıklarını korumak için okulda yapılması gerekenlerle ilgili afiş hazırlamışlardır.

Buna göre aşağıdaki afişlerden hangisi yanlıştır?

- A) Hava durumuna göre giyinelim.
 B) Sık sık ellerimizi sabunla yıkayalım.
 C) Arkadaşlarımızla bardağımızı ortak kullanalım.
 D) Birbirimize zarar verecek şakalar yapmayalım.

57. Aşağıdakilerden hangisi bilinçli bir tüketici davranışıdır?

- A) Para kaynaklarını ihtiyacından fazla harcar.
 B) Beğendiği bir ürünün fiyatına bakmadan alır.
 C) Alacağı ürünün sağlam olup olmadığına dikkat eder.
 D) Alışveriş yaparken her zaman pahalı ürünleri tercih eder.

58. Tuğçe, parkta oynayan arkadaşlarını gördü. Arkadaşı, Tuğçe'ye seslendi. Biraz oynadıktan sonra havanın soğuduğunu fark ettiler. Evlerine döndüler.

Tuğçe anlatılan bu olayda hangi duyu organından yararlanmamıştır?

- A) Göz B) Burun C) Deri D) Kulak

59. Tabloda doğadaki olaylar ve korunma yolları verilmiştir.

Doğadaki Olaylar	Korunma Yolları
Deprem	Dayanıklı sağlam binalar yapılmalı.
Sel	Ağaçlık alanlar azaltılmalı.
Orman yangınları	Piknik sonrası yakılan ateş söndürülmeli.

Buna göre hangi olaylardan korunma yolu doğru verilmiştir?

- A) Yalnızca selden
 B) Yalnızca depremden
 C) Sel ve orman yangınlarından
 D) Deprem ve orman yangınlarından

- 60.

Mine: Sınıftaki panomuzu artık biz düzenliyoruz. Geçen sene panoya uzanamıyorduk.

Seda: Spor ayakkabım küçük geldiği için hafta sonu yenisini alacağız.

Mehmet: Her sabah kalkınca elimi yüzümü yıkıyorum.

Yasemin: Okul çantamı her akşam yatmadan önce hazırlarım.

Bu çocuklardan hangilerinin ifadeleri büyüme ve gelişme ile ilgilidir?

- A) Mine - Seda B) Seda - Mehmet
 C) Mine - Yasemin D) Mehmet - Yasemin