



# Fırfır ile Girgır Soruyor






Cevapları Sadece EBA'dan Verelim

[HTTPS://WWW.EBA.GOV.TR](https://www.eba.gov.tr)



hasanogretmenim



1

# Fırfır ve Girgır ile Problemler

Haydi  
Çocuklar

Bir çekirge her sıçrayışında 10 cm zıplıyor. Çekirge 6. sıçrayışında kaç cm yol almış olur?

?


















# Fırfır ve Girgır ile Zeka Soruları

2

? Yerine hangi  
kaç gelmelidir ?

	+		+		=	30
	+		+		=	20
	+		+		=	12
	+		+		=	?





# Fırfır ve Girgır ile RESFEBE

3

Cevap  
Nedir?


Ç



?







4


# Fırfır ile Girgır Soruyor

Cevap  
Nedir?

Sıcak ve soğuk havanın  
yer değiştirmesiyle  
oluşan esintiye ne denir?

?






# 5 Fırfır ve Girgır İle Bilmece

Cevap  
Nedir?



Kümeslerin efesi, her sabah  
öter, uyandırır herkesi..



?