

2020 - 2021 EĞİTİM - ÖĞRETİM YILI GAZİ İLKOKULU 2/A SINIFI 2.SINIF GENEL DENEME  
SINAVI 27 DERSİ GENEL DENEME SINAVI SORULARI

AD-SOYAD:

PUAN:

NUMARA:

1.  Yukarıda görselleri verilen varlıkların adlarını sözlük sırasına göre dizdiğimizde 3.sıradaki hangisi olur?

- A)  B)  C) 

2. "İyi bir dinleyici ....."

Yukarıdaki cümle aşağıdaki ifadelerden hangisi ile tamamlanamaz?

- A) dinlerken başka şeylerle meşgul olmaz. B) konuşmacının sözünü kesmez.  
C) konuşan kişi ile göz teması kurmaktan kaçınır.




3. 

ağır	⇒	zayıf	①
şişman	⇒	hafif	②
iri	⇒	ufak	③

 Yan taraftaki zıt anlamlı sözcükler eşleştirmesinde hata yapılmıştır. Hatanın düzeltilmesi için kaç numaralı sözcükler yer değiştirmelidir?
- A) 1 ve 3 B) 1 ve 2 C) 2 ve 3

4. Dalsarkarkartalkalkarkartalkalkardalsarkar. Yukarıdaki tekerlemede sözcükler arası boşluk bırakılmamış. Sözcükler arası 1 kare boşluk bırakılması gerektiğine göre bu tekerleme için kaç kare boşluk gerekir?
- A) 6 B) 7 C) 8

5. Üşüyorum. 1 Okulumu. 2 Zil çaldı. 3 Yukarıda verilenlerden hangileri cümledir?
- A) 1 ve 3 B) Yalnız 3 C) 1, 2 ve 3

6. Ellerimizi sık sık yıkamalıyız. Akşam yemeğini yediniz mi. Yarışmada kaçına oldun. Yan taraftaki cümlelerin hangisinin sonuna diğerlerinden farklı bir noktalama işareti konulmalıdır?
- A)  B)  C) 

7. Cumartesi günü Elif ( ) Ahmet ve ben sinemaya gideceğiz ( ) Biletlerimiz 2 ( ) sıradan alındı ( ) Sen de bizimle gelir misin ( )

Yukarıdaki paragrafta kaç nokta kullanılmalıdır?

- A) 5 B) 4 C) 3

8. 

filim	yalnız
perşembe	tiren

Yukarıda verilen sözcüklerden yazım yanlış yapılarını boyadığımızda hangi seçenek ortaya çıkar?

- A)  B)  C) 

9. Aşağıdaki cümlelerin hangisinde yazım yanlış yapılmıştır?
- A) Ankaralı Mehmet'in başına güneş geçmiş. B) Elifler akşam bize gelecek.  
C) Bu yaz Van Göl'üne gideceğim.

10. Aşağıdaki atasözlerinden hangisi tasarrufla ilgili değildir?
- A) Ak akçe, kara gün içindir. B) Nerede hareket, orada bereket.  
C) Ayajını yorganına göre uzat.

11. 

Ana karakter	Yan taraftaki şemada "Hikaye Unsurları" verilmiştir. Buna göre verilmeyen hangisidir?
Yer	?
Olay	
- A) Başlık B) Zaman C) İçindekiler

12. 

İyilik yap denize at İyilikten yap bir kat Fayda vermez ne ev ne yat İyilik yap, iyilik gör	Metindeki konuyu en kısa yoldan anlamamızı sağlayan kelime veya kelime grubuna "anahtar sözcükler" denir. Buna göre yan taraftaki şiirin anahtar sözcüğü hangisi olabilir?
Yardım etsen yaşlılara Fakir, dertli başlılara Gözü her gün yaşlılara İyilik yap iyilik gör	A) İyilik B) Fakir C) Yaşlı





13. 

birdenbire	aniden
acemi	usta
nihayet	son

 Hangi renkteki kelime çifti anlam ilişkisi yönünden diğerlerinden farklıdır?
- A) A B) B C) C

14. Çocuğu ders .....
- Durumları, olayları sebep ve sonuçlarıyla anlatan cümleler sebep-sonuç cümleleridir. Buna göre yukarıdaki cümleyi hangisiyle tamamlarsak sebep-sonuç cümlesi almaz?
- A) Çalışma yöntemini bilmiyor. B) çalışsın diye televizyonu kapattı.  
C) çalıştığı için parkta oynamasına izin verdi.

15. Onu görünce içim içime sığmıyordu. Cümlesinde altı çizili sözcüklerin cümleye kattığı anlam hangi seçenekte doğru verilmiştir?
- A) çok korkmak B) çok üzölmek C) çok sevinmek

16.  Sınıf içindeki etkinliklere katılırken nelere dikkat etmelisiniz? Ayşe'nin sorusuna en uygun cevap aşağıdakilerden hangisidir?
- A)  Grup içinde üstlendiğimiz görevleri arkadaşımıza yaptırmalıyız.  
B)  Grup çalışmalarında iş birliğı yapmamıza gerek yoktur.  
C)  Arkadaşlarımıza kibar ve saygılı davranmalıyız.

17. 


Kasap	Sinema	Ev
Belediye	Okul	Market
	Park	

 Yandaki kroki de okulun çevresi ile ilgili verilen bilgilerden hangisi doğrudur?
- A) Okulun yanında ev bulunmaktadır. B) Belediye ye en uzak bina sinemadır.  
C) Okuldan eve giderken önce markete, sonra karşıya geçilip eve varılabilir.

18. 

★ Mahalle ismi
■ Bina numarası
● Binanın kaç katlı olduğı

 Yandaki bilgilerden hangileri ev adresimizde bulunur?
- A) ★ B) ★ ■ C) ★ ■ ●




19.  Yandaki görselde sorumluluk bilinci olan Elif'in konuşması nasıl olmalıdır?
- A) Anne, sen yemek yaparken ben oyun oynayabilir miyim?  
B) Anne karnım çok aç, ne yemeğı yaptın?  
C) Anne, sofrayı hazırlamaya yardım edeyim mi?

20. 

1. Açıkta satılan yiyecek ve içeceklerden almak.
2. Dinlenmeye yeterince vakit ayırmak
3. Kişisel bakımımıza dikkat etmek.

 Yandaki bilgilerden kaç tanesi sağlıklı büyüme ve gelişme için gereklidir?
- A) 1 B) 2 C) 3




21. Aşağıdakilerden hangisi çevre temizliğıyle ilgilidir?
- A) Kıyafetimizi temizlemek. B) Tuvaletleri kullandıktan sonra temiz bırakmak.  
C) Tuvaletten önce ve sonra ellerini sabunla yıkamak.

22. Aşağıdaki taşıtları, taşıt türlerine göre gruplayacak olsak hangisi grup dışı kalır?
- A)  B)  C) 

23. Evimizde ve okulumuzda kullandığımız teknolojik araç ve gereçler ..... Yukarıdaki cümleyi en uygun nasıl tamamlayabiliriz?
- A) yaşantımızı zorlaştırır. B) aile bağlarını güçlendirir. C) yaşantımızı kolaylaştırır.

24. 

İtfaiye	○	○	156
Jandarma	○	○	122
AFAD	○	○	110

 Yandaki acil yardım kurumlarıyla telefonları eşleştirildiğinde hangi seçenekteki görünüm ortaya çıkar?
- A)  B)  C) 

25. 

■ Hayvanlardan süt elde edilmesi
▲ Toprağına mısır ekilmesi
● Domatesten salça elde edilmesi

 Yandaki bilgilerden hangileri tarımsal bir faaliyettir?
- A) ▲ B) ▲ ● C) ■ ▲ ●

26. 

<input type="checkbox"/> Şemsi Efendi İlkokulu
<input type="checkbox"/> Selanik Askeri Ortaokulu
<input type="checkbox"/> Mahalle Mektebi

 Yandaki Atatürk'ün gitmiş olduğı okulları, okula gitme sırasına göre sıralarsak hangi seçenekteki görünümü elde ederiz?
- A) 

2
3
1

 B) 

1
3
2


 C) 

1
2
3

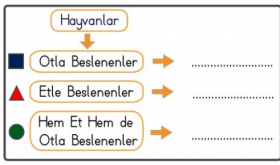
27. )
1. Anlayışlı olmalıyız.
  2. Yaşam tarzlarına ve alışkanlıklarına saygı duymalıyız.
  3. Onları kendi grubumuzdan uzak tutmalıyız.

Yukarıdaki hangi bilgiler, ülkemize göç eden insanlara karşı doğru davranış biçimidir?

- A) 1 B) 1 ve 2 C) 1, 2 ve 3

28.  Yanda verilen bir tohumun bitki olabilme aşamalarını doğru bir şekilde sıralarsak hangi sıralama olur?

- A) 2-1-4-3 B) 2-4-1-3 C) 4-1-3-2

29.  Yandaki şemaya göre hayvanlar gruplandırılmıştır. Bu gruplamaya göre hangi seçenekteki eşleştirme doğrudur?

- A) ■ → İnek B) ▲ → Koyun  
● → Tavuk ● → Sığır  
C) ▲ → Aslan  
■ → Kartal

30. Toprak ve kayaların büyük parçalar hâlinde yamaçlardan aşağı sürüklenmesi ile oluşan doğal afet hangisidir?

- A) Deprem B) Heyelan C) Fırtına

31. 52 sayısının onlar basamağı 3 artar, birler basamağı 5 azalrsa yeni sayı kaç olur?

- A) 77 B) 87 C) 27

32. 

Yukarıdaki ritmik saymada örüntüyü bozan sayı için ne yapılırsa yanlışlık giderilmiş olur?


- A) 4 artırılmalıdır. B) 1 azaltılmalıdır. C) 2 artırılmalıdır.

33.  $\blacksquare - 12 = 20$  olduğuna göre  $\blacksquare - \blacktriangle$  işleminin sonucu kaçtır?  
 $\blacktriangle - 14 = 12$

- A) 10 B) 8 C) 6

34.  $16 < \text{Ahmet'in yaşı} < 24$   
Mehmet'in yaşı = 18 Yanda verilen bilgilere göre Ahmet ile Mehmet'in yaşları toplamı en fazla kaç olabilir?

- A) 42 B) 41 C) 35

35.  Bir sınıfta 2 düzine sıranın her birinde 2 öğrenci oturmaktadır. Bu sınıftan 3 öğrenci ayrılırsa sınıfın mevcudu kaç olur?

- A) 45 B) 37 C) 48

36. 

36 : 4	18 : 2
24 : 4	32 : 4

 Tablodaki işlemlerin sonuçları hangi seçenekte doğru olarak verilmiştir?

- A) 

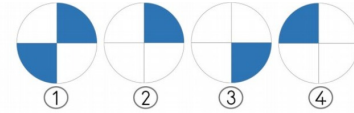
9	9
6	8

 B) 

9	6
6	9


 C) 

8	9
6	9


37. 

Hangi numaralı şekilleri bir araya getirirsek boyalı alanlar bir bütün oluşturur?


- A) 3 ve 4 B) 1 ve 3 C) 1, 3 ve 4

38.  Yan taraftaki saat şu anki saati gösteriyorsa 2 saat sonra saat kaç olur?

- A) Dokuzu çeyrek geçiyor. B) Sekize çeyrek var C) Dokuz çeyrek var.

39.  Yarım saatte 15 soru çözen Fatih, 2 saatte toplam kaç soru çözer?

- A) 30 B) 60 C) 120

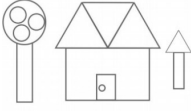
40.  Yandaki cetvele göre kalemin boyu ile silginin boyunu toplamı kaç cm'dir?

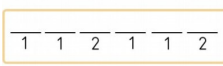



- A) 8cm B) 9cm C) 11cm










41.  Yandaki işlemde  $\blacksquare$  şekli hangi rakama karşılık gelmektedir?

$$\begin{array}{r} \blacksquare \\ + \blacksquare \blacksquare \\ \hline 80 \end{array}$$

- A) 1 B) 2 C) 3

42.  Yandaki görselde hangi geometrik şekil daha fazladır?
- A) Üçgen B) Çember C) Dikdörtgen

43.  Her rakam farklı bir geometrik şekli, benzer rakamlar ise geometrik şeklin tekrar ettiğini gösteriyor. Buradaki dizilime göre oluşabilecek geometrik örüntü hangisidir?
- A)  B) 
- C) 

44. Grafik: 2.Sınıfların Mevcut Sayıları
- |   |   |   |   |
|---|---|---|---|
|  |  |   |   |
|  |  |   |  |
|  |  |  |  |
| 2-A   | 2-B   | 2-C   | 2-D   |
- (Her şekil 5 öğrenciyi gösterir)
- Yandaki grafiğe göre aşağıdakilerden hangisi doğrudur?
- A) En kalabalık sınıfta 5 öğrenci vardır.  
B) 2-D ve 2-C sınıflarının mevcutları arasındaki fark 1'dir.  
C) En kalabalık sınıf ile en az öğrenci olan sınıf arasındaki fark 15'dir.

45. Bir bakkal 50kg şekerin 29kg'ını satıyor. Geriye kalan şekeri 3kg'lık poşetlere tartarak dolduruyor. Buna göre bakkal kaç poşet kullanmıştır?
- A) 6 B) 7 C) 8