


1. 13. ☆ → O, çalışırken kapı çalmış.  
 Δ → Eğilmiş bakmış, kapının önünde bir adam duruyormuş.  
 □ → Nasrettin Hoca, bir gün çatıya çıkmış, çatıyı onarıyormuş.  
 ○ → Ona sormuş: Ne oldu, ne istiyorsun?

**Yukarıdaki şekillerle eşleştirilen cümlelerden anlamlı bir paragraf oluşturulduğunda sıralama nasıl olur?**

- A) ○, □, ☆, Δ  
 B) □, ☆, Δ, ○  
 C) □, Δ, ○, ☆

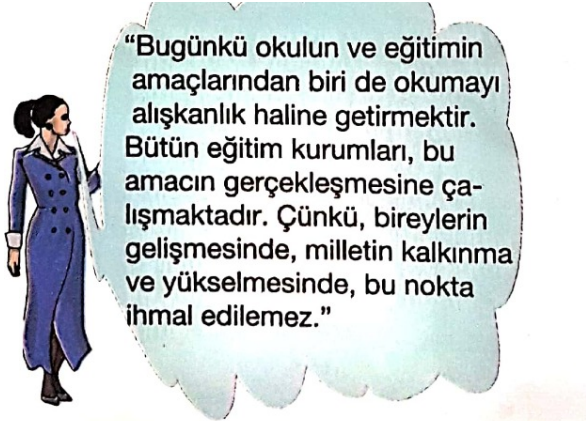
2. 14.



**Elif'in cümlesinden sonra, aşağıdakilerden hangisinin gelmesi uygun değildir?**

- A) ama toprakları verimsizdir.  
 B) çünkü köyü hiç sevmedim.  
 C) fakat kışları çok soğuktur.

3.



**Yukarıdaki anlatımda kaç cümle vardır?**

- A) 5 B) 4 C) 3

4. 16. **Aşağıdaki cümlelerin hangisi kurallı ve anlamlı bir cümledir?**

- A) Arkadaşımın ödevimizi yaptık.  
 B) Liseye gidiyor ablam.  
 C) Babam aldı yeni bir araba.

5. 1. Kurtuluş Savaşı, Mustafa Kemal Paşa'nın Şam- sun'a çıkmasıyla başlar. Mustafa Kemal, Samsun'dan sonra Amasya'da genelgeler yayınlamış, Erzurum ve Sivas'ta kongreler düzenlemiş ve bütün yurtda düşman işgaline karşı mitingler yapılmasını sağlamıştır...

**Yukarıdaki anlatımda aşağıdaki sorulardan hangisinin cevabı yoktur?**

- A) Kurtuluş Savaşı, ne zaman başlamıştır?  
 B) Mustafa Kemal, Sivas'tan sonra nereye gitmiştir?  
 C) Mustafa Kemal hangi illerde kongreler düzenlenmiştir?

6. 2.



**Barış'ın cümlesinde hangi sözcük gereksiz olarak kullanılmıştır?**

- A) kardeşin B) seni C) senin

7. i.



"Hep birlik... okul... çıkıp ev ... doğru yürüdük."

Yukarıdaki cümlelerin anlamlı olabilmesi için noktalı yerlere sırasıyla hangi ekler getirilmelidir?

- A) -te, -i, - e  
B) -den, -de, -i  
C) -te, -dan, -e

8. i.



Yukarıdaki kelimeler nasıl sıralanırsa kurallı ve anlamlı bir cümle oluşur?

- A) 2 - 4 - 1 - 3 - 6 - 5  
B) 2 - 1 - 4 - 3 - 5 - 6  
C) 1 - 4 - 3 - 2 - 5 - 6


9. i. Aşağıdaki cümlelerden hangisi bir duygu bildiriyor?

- A) Garson elindeki bardağı düşürdü.  
B) Bu kazağı çok beğendim.  
C) Ali, tatilini Bodrum'da geçirecek.

10. i. Aşağıdaki öğrencilerden hangisinin cümlesinde "pişmanlık" anlamı vardır?



A) Ömrümde hiç yalan söylemedim.



B) Problemi çok kolay çözdüm.

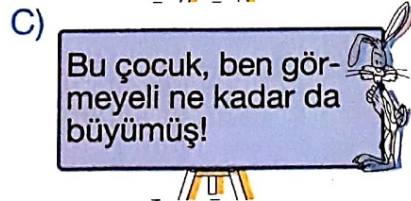



C) Okula gitseydim iyi olacaktı.

11. i. Aşağıdaki cümlelerin hangisinin anlamında "kesinlik" yoktur?

- A) Yarın okula gidebilirim.  
B) Derslerime çok çalıştım.  
C) İşini bitirmeden gitmiş.

12. i. Aşağıdaki cümlelerin hangisinin sonucu, nedeniyle birlikte verilmiştir?

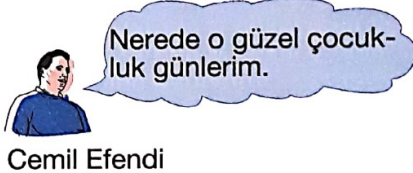
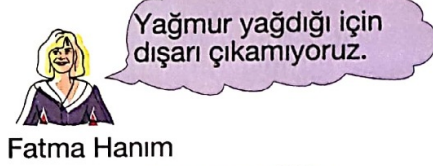
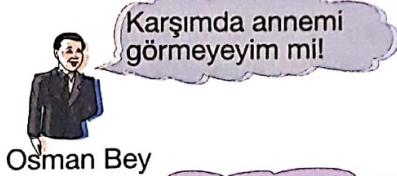


- 13.
1. Eski zamanların birinde çiçeklerin bir padişahı, bu padişahın da güzel bir kızı varmış.
  2. Her sabah, tren düdüğüyle uyanırım.
  3. Yıldızlarla tanışarak, bir kaçıyı toplayıp saçlarıma taç yaptım.

**Yukarıdaki numaralı cümlelerin hangisinde "hayal ürünü" bir anlam yoktur?**

- A)1 B)2 C)3

14. 10. Aşağıdakilerden hangisinin cümlesinde "özlem" söz konusudur?



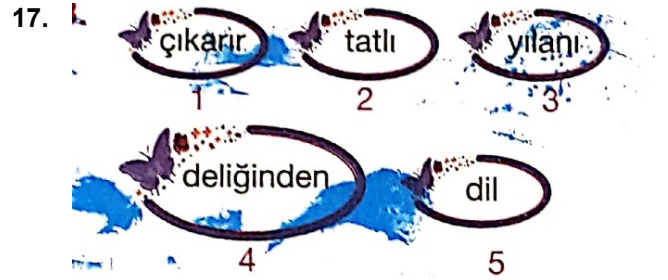
- A)Orhan Bey  
B)Fatma Hanım  
C)Cemil Efendi

15. 11. Aşağıdaki cümlelerden hangisi olumsuz bir cümledir?

- A)Yüzmesini bilmiyorum.  
B)Bir süre birlikte oturduk.  
C)Okulumuzu temiz tutmalıyız.

16. 12. Aşağıdaki cümlelerin hangisinde eylemin yapılması, başka bir eylemin gerçekleşmesine bağlıdır?

- A) Ders çalışmadığı için sınıfta kaldı.  
B) Annem izin verirse Emellere gideceğim.  
C) Ders çalışmak için arkadaşım ile buluşacağız.



**Yukarıdaki sözcüklerden anlamlı ve kurallı bir cümle oluşturulduğunda, doğru sıralama aşağıdakilerden hangisi olur?**

- A) 1-4-3-5-2  
B) 2-3-5-4-1  
C) 2-5-3-4-1

18. Aşağıdaki cümlelerin hangisinde zıt anlamlı sözcükler bir arada kullanılmamıştır?

- A) Her zaman iyi insanlar karşımıza çıkmayabilir.  
B) Zengin insanlar, yoksul insanlara yardım etmelidir.  
C) Sınavdaki kolay soruları çözdüm, zor soruları bıraktım.

19. Aşağıdaki seçeneklerin hangisinde verilen kelimelerle anlamlı bir cümle oluşturabiliriz?

- A) uyardı – kardeşini – ders – çalışmayan  
B) soğuk – kışın – havalar  
C) babam – eve – televizyon

20. 16. "bakarsan – olur – bağ – ağaç – bakmazsan – dağ"  
Yukarıdaki sözcüklerden anlamlı ve kurallı bir tümce oluşturduğumuzda hangi sözcük bu tümcede yer almaz?  
A) olur B) dağ C) ağaç

21. "Hata yapmak insanlar ..... çok normaldir, bunu yadırgamamak gerekir." cümlesindeki boşluğa aşağıdaki sözcüklerden hangisi getirilmelidir?  
A) fakat B) için C) çünkü

22. "60 yaşında olmasına ..... çok genç görünüyordu." cümlesinde boş bırakılan yere aşağıdakilerden hangisi getirilirse cümle anlamlı olur?

- A) rağmen  
B) fakat  
C) ama



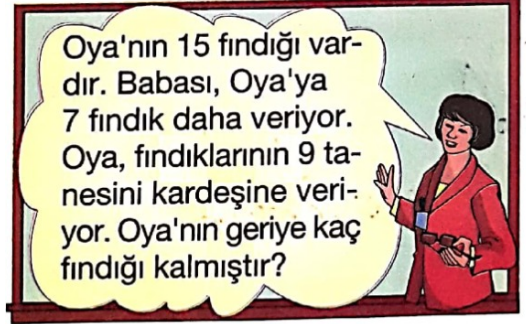
23. Bir çıkarma işleminde fark 23, çıkan sayı farkın 2 katıdır. Bu çıkarma işleminde eksilen sayı kaçtır?

- A) 69 B) 72 C) 75



24. Bir çıkarma işleminde fark 12'dir. Çıkan sayı farktan 20 fazla ise, bu çıkarma işleminde eksilen sayı kaçtır?  
A) 34 B) 38 C) 44

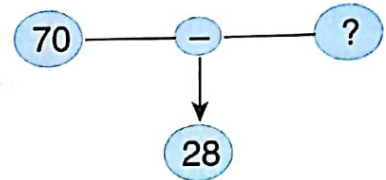
25.



Öğretmenin sorduğu problemin çözümünü, hangi öğrenci doğru yapmıştır?

- A)  $(15 + 9) - 7 = 14$
- B)  $(15 + 7) - 9 = 13$
- C)  $(9 + 7) - 15 = 1$

26.



Şemadaki işlemde "?" ile belirtilen çıkan kaçtır?

- A) 47 B) 44 C) 42

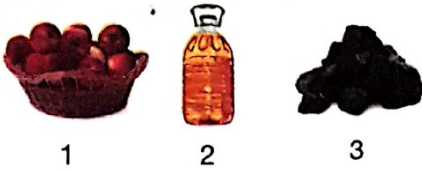
27.



Yukarıdaki kova 6 sürahi su ile tamamen dolmaktadır. Sürahi ise 5 bardak su ile tamamen dolmaktadır. **Buna göre, bu kova bardakla doldurulursa kaç bardak su ile dolar?**

A) 30 B) 20 C) 11

28.



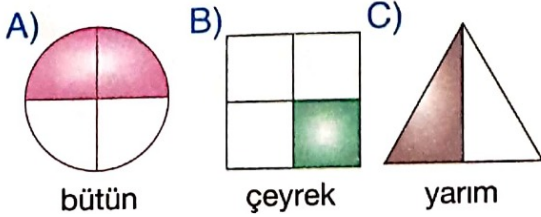
1 2 3

Yukarıdaki besinlerden hangisinin miktarı bardak ile ölçülebilir?

A) 1 B) 2 C) 3

29.

Aşağıdaki seçeneklerde verilen şekillerin taralı kısımlarına ait ifadelerden hangisi **yanlıştır**?



bütün

çeyrek

yarım

30.

Ayşe Teyze, 3 tabağın her birine 4 çeyrek elma koyuyor.

**Ayşe Teyze bu elmaları her tabağa yarımşar olarak koysaydı her bir tabakta kaç yarım elma olurdu?**

A) 1 B) 2 C) 3

31.



Yukarıda verilen yarım elmalar, kaç bütünden elde edilmiştir?

A) 1 B) 2 C) 3

32.

8 çeyrek ekmekten kaç bütün ekme oluşturabiliriz?

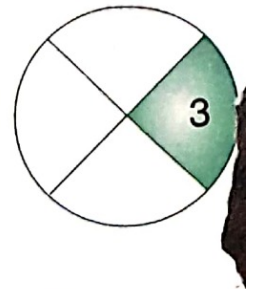
A) 1 B) 2 C) 3

33.

Yandaki şeklin tamamı Fatma'nın yaşını göstermektedir.

**Buna göre, Fatma kaç yaşındadır?**

A) 12 B) 10 C) 8



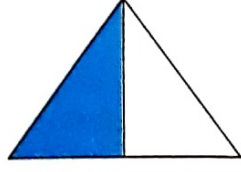
34.

İki düzine kalemin önce yarısı satılıyor. Sonra da kalan kalemlerin çeyreği satılıyor.

**Bu durumda geriye kaç kalem kalmıştır?**

A) 15 B) 12 C) 9

35. Yandaki şekilde maviye boyalı kısmı gösteren ifade aşağıdakilerden hangisidir?




A) Bütün B) Yarım C) Çeyrek

36. Bir miktar un, 5 kilogramlık poşetlere eşit olarak paylaşılıyor. Bu işlem için 7 poşet kullanılıyor.

**Buna göre, paylaştırılan un kaç kilogramdır?**

A) 25 B) 30 C) 35

37.



Bir çiftlikte 14 tavuk, 16 horoz vardır. Her 5 hayvan için bir kümes yapılacaktır.

**Bu çiftlikteki hayvanlar için kaç kümes yapılmalıdır?**

A) 6 B) 5 C) 4

38.



Yukarıdaki masada dört tabak vardır. Her tabakta beşer muz vardır.

**Muzlardan 14 tanesi yenilirse kaç muz kalır?**

A) 4 B) 6 C) 8

39.

Hasan, bir miktar fıındığı 5 kişiye eşit olarak paylaştığında her birine 8 fıındık düşüyor.

**Hasan'ın başlangıçta kaç fıındığı vardı?**

A) 30 B) 35 C) 40

40.



Bir sınıfta 12 sıra vardır. Öğrenciler sıralara 3'er 3'er oturduğunda 2 öğrenci açığa kalıyor. **Buna göre, sınıf mevcudu kaç kişidir?**

A) 38 B) 36 C) 32

41. 42 sayfalık bir kitabı her gün eşit sayıda sayfa okuyarak 7 günde bitiren **Elif, bir günde kaç sayfa okumuştur?**

A) 5 B) 6 C) 7

42. ). Yandaki baloncu günde ortalama 10 balon satmaktadır. Buna göre, baloncu 90 balonu kaç günde satar?



- A) 7      B) 8      C) 9

43. Bir manav 60 kilogram elmayı 10 poşete eşit olarak paylaştırdı. Bu poşetlerin 6'sını sattı. Manavın kaç kilogram elması kaldı?

- A) 48      B) 24      C) 12

44. Yandaki görselde gelinin giydiği özel kıyafet aşağıdakilerden hangisidir?




- A) Bindallı  
B) Gelinlik  
C) Forma

45. Benim babam avlanma mevsiminde denize açılır, tuttuğu balıkları satarak geçimini sağlar.

**Buna göre, babamın mesleği aşağıdakilerden hangisidir?**

- A) Çiftçilik  
B) Balıkçılık  
C) Manav

46.



**Aşağıdakilerden hangisi komşu ülkelerimizden biri değildir?**

- A) Irak  
B) İran  
C) Fransa

47. **Aşağıdakilerden hangisi ülkemizin komşusu olan ülkelerden biri değildir?**

- A) İran      B) Suriye      C) Almanya

48.



**Yukarıdaki numaralı göresellerle anlatılan üretim faaliyetlerinin ilgili olduğu meslekler hangi seçenekte doğru verilmiştir?**

- |               |           |            |
|---------------|-----------|------------|
| I             | II        | III        |
| A) Halıcılık  | Arıcılık  | Balıkçılık |
| B) Arıcılık   | Halıcılık | Balıkçılık |
| C) Balıkçılık | Halıcılık | Arıcılık   |

49.

1. Karadeniz
2. Ege Denizi
3. Akdeniz
4. Marmara Denizi

**Yukarıdaki numaralı denizlerden hangisi ülkemize ait iç denizimizdir?**

- A) 2      B) 3      C) 4

50. Aşağıdaki ifadelerden hangisi **yanlıştır**?

- A) Her bağımsız ülkenin bir bayrağı ve milli marşı vardır.
- B) İstiklal Marşı, bağımsızlığımızı temsil eder.
- C) İstiklal Marşı'nın yazarı Osman Zeki Üngör'dür.

51. Aşağıdakilerden hangisi milli bayramlarda **yapılmaz**?

- A) Büyüklerin elleri öpülür.
- B) Okullar bayraklarla süslenir.
- C) Hazırlanan gösteriler sunulur.

52.

Çocuklar, 23 Nisan'da hangi tarihi olay yaşanmıştır?



Yukarıdaki soruya hangi öğrenci doğru cevap vermiştir?

- A)  Atatürk, Samsun'a çıkmıştır.
- B)  Türkiye Büyük Millet Meclisi açılmıştır.
- C)  Kurtuluş Savaşı kazanılmıştır.

53. Atatürk, 19 Mayıs'ta Samsun'a çıkarak hangi tarihi olayı başlatmıştır?

- A) Kurtuluş Savaşı'nı başlatmıştır.
- B) Cumhuriyeti ilan etmiştir.
- C) Türkiye Büyük Millet Meclisini açmıştır.

54. Cumhuriyet Bayramı'nı her yıl, hangi tarihte kutlamaktayız?

- A) 19 Mayıs
- B) 29 Ekim
- C) 30 Ağustos

55. "Kurtuluş Savaşı'nı kazanıp düşmanları yurdumuzdan temizlediğimiz günü her yıl ..... olarak kutlamaktayız."

Yukarıdaki cümle nasıl tamamlanmalıdır?

- A) Cumhuriyet Bayramı
- B) Ulusal Egemenlik ve Çocuk Bayramı
- C) Zafer Bayramı



56. 1. Kurtuluş Savaşı'nın kazanılması  
2. Cumhuriyetin ilanı  
3. Atatürk'ün Samsun'a çıkması  
4. Türkiye Büyük Millet Meclisinin açılması

13 ve 14. soruları yukarıda verilenlere göre cevaplayınız.




13. Yukarıdaki olayları gerçekleşme sırasına göre sıralarsak ilk sırada hangi olay yer alır?

A) 2 B) 3 C) 4

57. 14. Yukarıdaki olayları oluş sırasına göre sıralarsak son sırada hangisi yer alır?

A) 2 B) 3 D) 4

58. 15. Aşağıdaki öğrencilerden hangisinin söylediği bayram dini bayram değildir?




- A)  Kurban Bayramı  
B)  Ramazan Bayramı  
C)  Zafer Bayramı

59. Aşağıdakilerden hangisi dini bayramlarda yapılan etkinlikler arasında **yer almaz**?

- A) Akrabalarımızı ziyaret ederiz.  
B) Evlerimizi bayraklarla süsleriz.  
C) Gelen misafirlere ikramda bulunuruz.

60. 17. Bağımsız yaşayan her devletin milli bir marşı vardır. Bizim devletimizin milli marşı da İstiklal Marşı'dır.

Buna göre, milli marşımızın şairi aşağıdakilerden hangisidir?

- A)  B)   
C) 

61. 3. Yandaki ekibin oynadığı oyunun adı ne olabilir?

- A) Kaşık  
B) Zeybek  
C) Horon



62. "Her yıl ..... tarihinde Atatürk'ü Anma ve Gençlik ve Spor Bayramı'nı kutlarız." cümlesi nasıl tamamlanmalıdır?

- A) 23 Nisan'da  
B) 30 Ağustos'ta  
C) 19 Mayıs'ta

63. Aşağıdaki ifadelerden hangisi yanlıştır?

- A) Gelen misafirlere ikramda bulunmak onlara değer verdiğimizizi gösterir.
- B) Milli bayramlarda akrabalarımızı ziyaret ederiz.
- C) Bayrağımız bağımsızlığımızı temsil eder.