



















YUVARLAMA BÜYÜKLÜK KÜÇÜKLÜK

1.  Yandaki sayının en yakın onluğu aşağıdakilerden hangisidir?
A. 140 B. 150 C. 160
2. 244 sayısının en yakın yüzlüğünü hangi öğrenci doğru söylemiştir?
A.  iki yüz elli
B.  iki yüz kırk
C.  iki yüz
3. Aşağıdaki sayılardan hangisinin en yakın onluğu diğerlerinden farklıdır?
A. 234 B. 235 C. 242
4. Aşağıdaki sayılardan hangisinin en yakın yüzlüğü 500'dür?
A. 562 B. 449 C. 515
5.  Yandaki sayılardan hangisinin en yakın onluğu ile en yakın yüzlüğü birbirine eşittir?
A.  B.  C. 
6. Aşağıdaki sayılarla en yakın onluğa yuvarlanmış hâlleri eşleştirilmiştir. Hangi eşleştirme yanlıştır?
A. 
B. 
C. 
7. $1\square 4$ sayısının en yakın onluğu 150'dir. $1\square 4$ sayısının en yakın yüzlüğü aşağıdakilerden hangisidir?
A. 150 B. 200 C. 100

8.  Yandaki karşılaştırmada \square yerine aşağıdaki sayılardan hangisi yazılamaz?
- $236 > \square$
- A. 235 B. 237 C. 220

9. **üç yüz seksen iki**
- Aşağıdaki sayılardan hangisi okunuşu verilen sayıdan büyüktür?
- A. 380 B. 378 C. 383

10.  Dört yüz beş
-  Dört yüz elli üç
-  Dört yüz kırk bir
- Hangi öğrencinin söylediği sayı 447'den büyüktür?
- A.  B.  C. 

11. $278 < \dots\dots\dots < 309$
- Yukarıdaki boşluğa aşağıdaki sayılardan hangisi gelemez?
- A. 303 B. 401 C. 296

12. Aşağıdaki sıralamalardan hangisi yanlıştır?
- A. $715 < 318 < 211 < 191 < 156$
- B. $156 < 191 < 211 < 318 < 725$
- C. $725 > 318 > 211 > 191 > 156$

13. $432 > \blacktriangle > 370 > \blacksquare > 354$
- Yukarıda bulunan \blacktriangle ve \blacksquare sembollerinin yerine hangi sayılar gelebilir?
- | | | |
|----|------------------|----------------|
| | \blacktriangle | \blacksquare |
| A. | 422 | 372 |
| B. | 417 | 368 |
| C. | 443 | 365 |

14. $275 - 272 - 277 - 270 - 271$
- Yukarıdaki sayıları büyükten küçüğe doğru sıraladığımızda baştan 3. sırada hangi sayı olur?
- A. 272 B. 275 C. 277