

TİLKİ İLE TEKE

Bir gün tilkinin biri bir kuyuya düşmüş. Çok uğraşmış ama bir türlü kuyudan çıkamamış. O sırada oradan bir teke geçiyormuş. Teke su var mı diye merak edip kuyuya bakmış. Bir de ne görsün? Kuyuda bir tilki!

Hemen sormuş "Bu su iyi mi; içilir mi?"

Tilki kurnazca gülmüş. Sonra da suyu bir övmüş bir övmüş ki tekenin ağzının suyu akmış. Teke kuyuya inmiş. Kana kana su içtikten sonra aklı başına gelmiş. Tilkiye "Eee, nasıl çıkacağız buradan?" diye sormuş.

Sen doğrulup ön ayaklarını duvara dayar, omuzlarını da havaya dikersin. Ben de tırmanıp çıkar, sonra seni çekerim " demiş.

Teke bu aklı çok beğenmiş. Hemen razı olmuş. Tilki tekenin bacaklarından omuzlarına sonra da başına atlayıp kuyudan çıkmış. Teke:

-Peki, ben nasıl çıkacağım kuyudan, demiş.

Tilki de ona:"Ey teke! Senin çenendeki sakal kadar kafanda da akıl olsaydı, nasıl çıkacağını düşünmeden bu kuyuya inmezdin" demiş.

Siz siz olun, sonunun ne olacağını düşünmeden hiçbir işe girişmeyin.

1. , 2. ve 3. Soruları yukarıdaki metne göre cevaplayın.

1) Yukarıdaki metne göre kuyuya **kim** düşmüştür?

- A) Teke
- B) Köpek
- C) Tilki

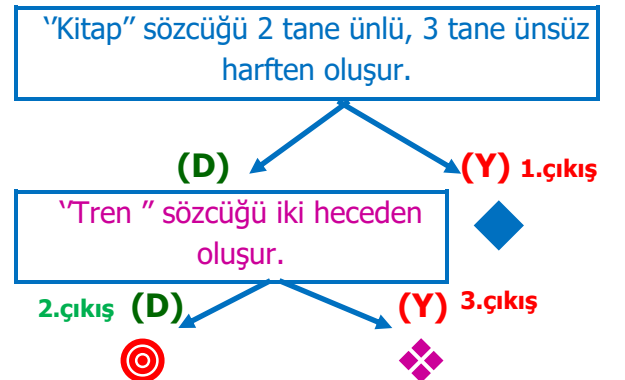
2) Yukarıdaki metne göre **teke** kuyuya **neden** inmiş?

- A) Tilkiyi kurtarmak için.
- B) Su içmek için.
- C) Su doldurmak için.

3) Yukarıdaki metnin **ana duygusu** nedir?

- A) Kimseye yardım etmemeliyiz.
- B) Sonunun ne olacağını düşünmeden hiçbir iş girişmemeliyiz.
- C) Yardım etmek güzel bir şeydir.

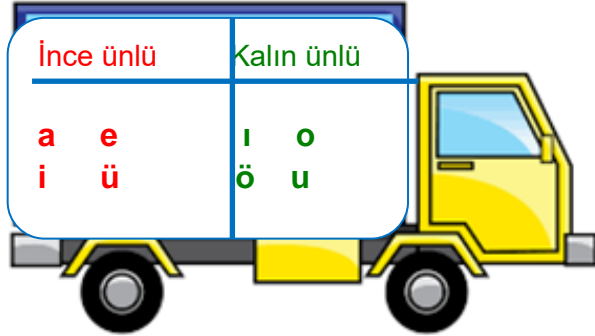
4)



Yukarıdaki **şemaya** göre hangi **çıkıştan** çıkarız?

- A)
- B)
- C)

5)




Ünlüler kamyonunda **ünlü** harfleri yazarken **hata** yapılmıştır.

Buna göre **hatayı** düzeltmek için hangi **ünlü** harfleri yer değiştirmeliyiz?

A) e - ı B) ü - u C) a - ö

6)



Yukarıdaki **hecelerden** aşağıdaki hangi sözcük oluşturulamaz?

A) kara B) arkadaş C) kapıcı

7)

Ocak: İçinde ateş yakılan, yemek pişirme gibi amaçlarla kullanılan yer.

Ocak sözcüğü aşağıdaki seçeneklerden hangisinde yukarıdaki **sözlük** anlamıyla kullanılmıştır?

- A) Ocak yılın ilk ayıdır.
 B) Annem yemeği ocakta pişirdi.
 C) Babam ocakta tatile gidecek.

8)



Yukarıdaki sözcüklerin **eş anlamlarını** **sözlük** sırasına göre dizilirse seçeneklerden hangisi doğru olur?

A) 1. konuk 2. düş 3. konut

B) 1. ev 2. misafir 3. rüya




C) 1. düş 2. konuk 3. konut

9)









Yukarıdaki kelimelerin **karşılık** gelen görseller yerine **zıt anlamları** yazılacak. Buna göre **hata** yapılan görsen hangisidir?

- A) Zayıf B) ihtiyar C) pahalı

- 10) Öğrenci  Talebe
Masal  Öykü
İleri  Geri

Tablodaki **sözcük** ikililerinden hangisi arasındaki anlam ilişkisi diğerlerinden farklıdır?

- A)  B)  C) 

- 11) 'Özel adlar cümle içerisinde küçük harfle yazılır.'
- (D)  (Y) 1.çıkış 
- 'Özel isimlere gelen ekler kesme işareti ile ayrılır.'
- 2.çıkış (D)  (Y) 3.çıkış 
-  

Yukarıdaki **şemaya** göre verilen cümleler doğru ise (D) yanlış ise (Y) oklarını takip edersek hangi çıkıştan çıkarız?

- A)  B)  C) 

- 12)
- | | |
|--|---------------------------------|
| | Kuşlara kışın yem vermeliyiz. |
| | Sinan hediye olarak fular aldı. |
| | Öğrenciler sırayla içeri girdi. |

Yukarıdaki **çoğul ad** kullanılan cümlelerin başına **tik** atarsak tablonun son hali nasıl olur?

- A)


✓
✓


 B)



✓
✓

 C)

✓
✓

- 13) Bu gün kitaplarını kimler okudu 

Yukarıdaki cümlenin sonuna '' gelmesi gereken noktala işareti hangisidir?

- A)  B)  C) 

- 14)
- | | | |
|--------|----------|-------|
| Samsun | Köpek | Hasan |
| Masa | Van Gölü | Okul |

Yukarıdaki tabloda **özel isim** olmayan sözcüklerin bulunduğu kutucuklar boyandığında tablonun yeni hali nasıl görünür?




- A)

■	■	■
■	■	■

 B)

■	■	■
■	■	■
- C)

■	■	■
■	■	■

- 15)
-  **Küçük** kalem → durum bildiriyor
-  **Kırmızı** top → renk bildiriyor
-  **Büyük** taş → renk bildiriyor

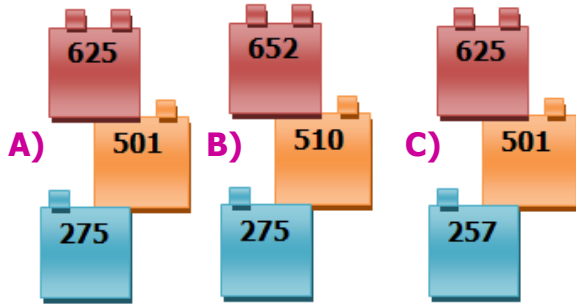
Yukarıdaki altı çizili **sözcüklerle** ilgili yanlış bilgi veren kimdir?

- A)  B)  C) 


1)



Yukarıda okunuşları verilen sayıların doğru yazılışları hangi seçenekte verilmiştir?



2)



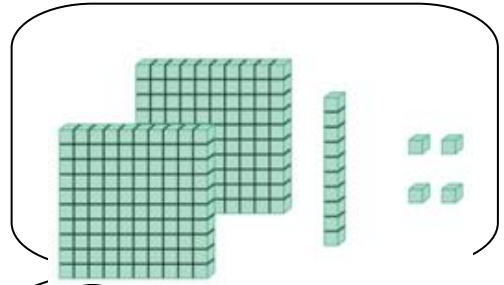
Selim **yüzer ritmik** sayma yaparken bazı sayıları atlamıştır.

Selim'in eksik bıraktığı yerler nasıl tamamlanır?



- | | | |
|----|-----|-----|
| A) | 521 | 821 |
| B) | 530 | 830 |
| C) | 620 | 920 |

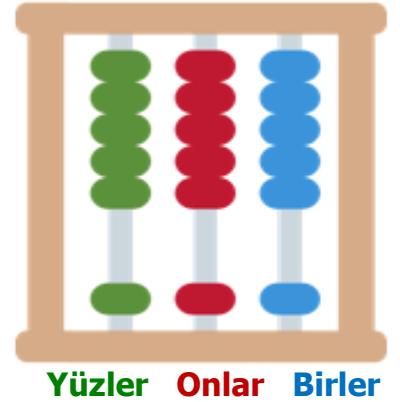
3)



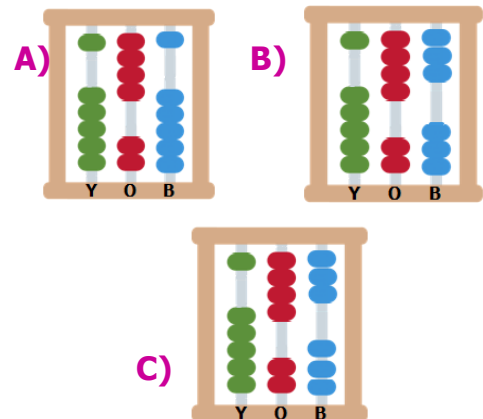
Yukarıda bloklarla verilen sayının **yüzler** ve **onlar** basamağındaki rakamların toplamı kaçtır?

- A) 3 B) 4 C) 5

4)



Sinan'ın hayalindeki sayıyı abaküste gösterirseniz abaküsün son hali nasıl olur?



5)

Arabanın benzini bitti. Yandaki bidonlardan benzin doldurur musun? Fakat sadece bir benzin bidonu dolu.

Dolu benzin bidonunu bulmak için arabanın üstündeki çözümlenmiş sayı ile bidonda yazan aynı sayıyı eşleştir.

$$(7 \times 100) + (9 \times 10) + (2 \times 1)$$



729



792



972



Buna göre hangi benzin bidonu doludur?

A)



B)

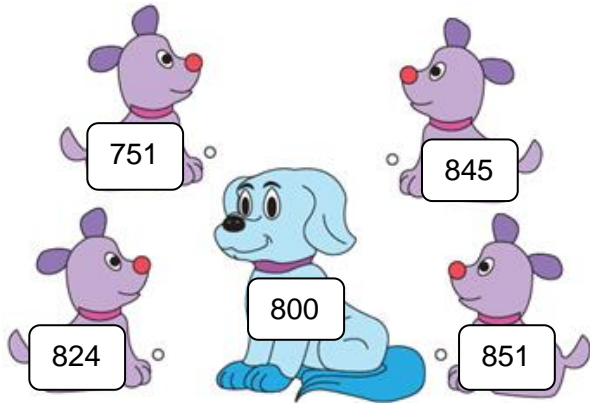


C)



6)

Yavru köpeklerin üzerindeki sayıları en yakın yüzlüğe yuvarladığımızda, anne köpeğin üzerindeki 800 sayısına yuvarlanır onun yavrusudur.



Anne **köpeğin** yavrusu olmayan köpeği bulur musun?

A)

845

B)

851

C)

751

7)

2 0 7

Yukarıdaki sayıları kullanarak, **üç** basamaklı **en** büyük sayı ile **üç** basamaklı **en** küçük sayının **en yakın onluğa** yuvarlanmış halini **toplarsak** sonuç kaç olur?

A) 910

B) 920

C) 930

8)



Ali'ye seksek oynarken yardımcı olur musunuz?
Seksekte yazılı olan sayıları küçükten büyüğe sıraladığımızda en küçük ve en büyük sayının yazılı kutucuğa basmaması gerekiyor.

500

389

419

517

600

Buna göre Ali'nin yanmaması için basmaması gereken kutucukları boyarsak son hali nasıl olur?

A)

500	419
517	

B)

500	419
	600

C)

	389	419
517		

9)



Beşten başlayarak **ileriye** doğru **beşer** ritmik saydım.

Altıdan başlayarak **ileriye** doğru **altışar** ritmik saydım.



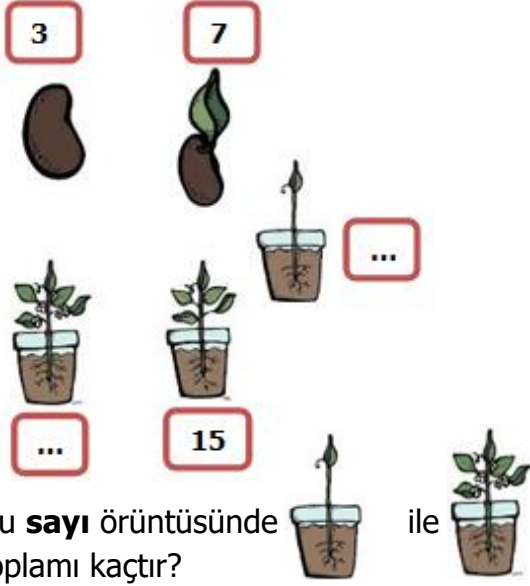
Verilenlere göre Ayşe ve Ali'nin yaptıkları saymada ortak söyledikleri sayı hangisidir?

A) 24

B) 30

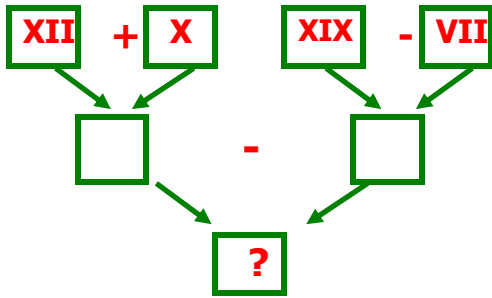
C) 42

10)



- A) 28 B) 29 C) 30

11)



Şemaya göre '?' yerine hangisi gelmelidir?

- A) X B) IX C) XI

12)

275	172	661	505
+ 136	+169	- 250	- 139
-----	-----	-----	-----



Hangi **sembolle** gösterilen işlem **sonuçları** aynıdır?

- A) B) C)

13)

6 yıl sonra 17 yaşında olacağım.

Ben, kızımın 26 yaş büyüğüm.



Buna göre baba ve kızının bu günkü yaşları toplamı kaçtır?

- A) 47 B) 48 C) 49

14)



275 lirası olan Ayşe, üç arkadaşına hediye almak istiyor. Arkadaşları için 2 tane ayakkabı, 1 tane terlik aldığına göre kaç lirası kalır?

- A) 170 B) 160 C) 150

15)

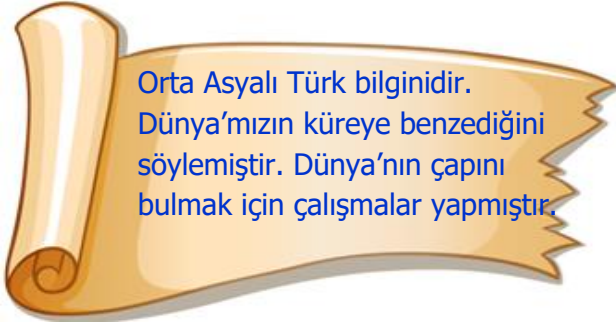


Yukarıdaki batarya **6 bölümden** oluşmaktadır. **Boş** batarya **84 dakikada** dolmaktadır.

Buna göre bataryanın **3 bölümü** kaç dakikada dolar?

- A) 42 B) 44 C) 46

1)



Yukarıda hakkında **bilgi** verilen bilim insanı hangisidir?

A) Kepler B) Biruni C) Galileo Galilei

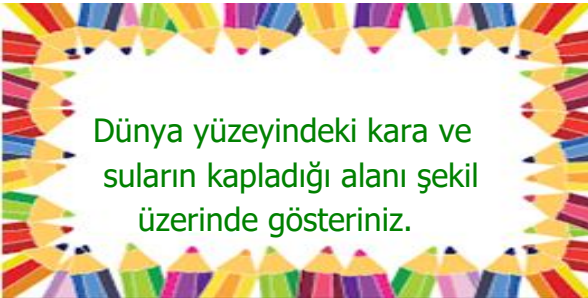
2)



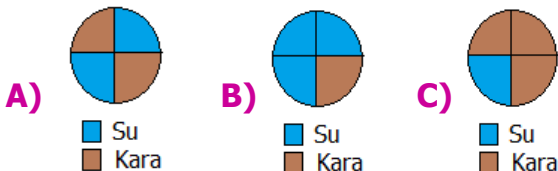
Yukarıdakilerden hangileri **su** katmanını oluşturur?

A) 1- 3 - 6 B) 2- 4 - 6 C) 1- 3 - 5

3)



Yukarıdaki soruyu **doğru** cevaplayan Ali'nin yaptığı şekil hangisidir?



4)

Kol	Göz	Beyin
Dil	Burun	Ağız

Yukarıdaki tabloda **duyu organımız** olmayan kutucuklar çıkarılırsa tablonun son görünümü nasıl olur?

A)

	Göz	
Dil	Burun	

 B)

	Göz	
Burun		Ağız

C)

	Göz	
Dil	Burun	Ağız

5)

A	K	B	K	L
B	U	R	U	N
K	L	D	İ	L
L	A	Ğ	I	Z
D	K	R	İ	Z

Yukarıdaki bulmacada aşağıdaki sorulardan hangisinin cevabı yer almamaktadır?

- A) Nesnelerin yumuşak olduğunu anlamak için kullandığımız duyu organı hangisidir?
 B) Besinlerin tadını algılamak için kullandığımız duyu organı hangisidir?
 C) Kuşun sesini algılamak için kullandığımız duyu organı hangisidir?


6)

Hayvan	Zaman (dk)
At	15
Eşek	10
Köpek	12

Yukarıdaki tabloda kendi aralarında yarış yapan hayvanların yarışı bitirme süreleri verilmiştir. Tablodaki verilere göre **en** hızlı yarışmacı kimdir?



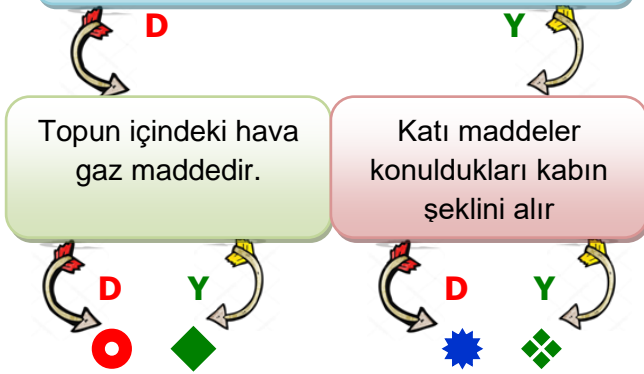
- 7) İkiz kardeşler **Ali** ve **Sinan** tahta kutuyu hareket ettirmeye çalışıyorlar.



Görsele göre **kutuyu** hareket ettirmek için kullandıkları kuvvet hangi seçenekte doğru verilmiştir?

- A) Ahmet → itme B) Ahmet → çekme
Sinan → itme Sinan → itme
- C) Ahmet → itme
Sinan → çekme

- 8) Sıvı haldeki toz şekerin tadına bakarak ne olduğunu anlayabiliriz.



Yukarıdaki ifadeler doğru (D) ya da yanlış (Y) olarak değerlendirip ilgili ok yönünde gidilirse hangi şekle ulaşırız?

- A) ● B) ◆ C) ★

1	2	3
ay	güneş	mum

4	5	6
El feneri	yıldırım	ayna

9 ve 10. Soruları aşağıdaki tabloya göre cevaplayın

- 9) Yukarıdaki tabloda verilen **ışık** kaynaklarından hangileri doğal ışık kaynağı değildir?

- A) ay - mum
B) güneş - yıldırım
C) mum - El feneri

- 10) Yukarıdaki tabloya göre aşağıdaki çocukların hangisi **yanlış** bilgi vermiştir?

- A)  Ayna parlak olduğu için yapay ışık kaynağıdır.
- B)  Tabloya göre iki tane doğal ışık kaynağı vardır.
- C)  Ay Güneş'ten aldığı ışığı yansıttığı için ışık kaynağı değildir.




1)



Azra ve Mert'in severek yaptıkları bu etkinlikler göre aşağıdaki ifadelerden hangisi söylenemez?

- A)** Her insanın güçlü yönleri farklılık gösterebilir.
- B)** Azra ve Mert güçlü yönleri olan etkinlikleri yaparken mutlu oluyorlar.
- C)** Azra müzik alanında Mert ise resim alanında yeteneklidir.

2) Aşağıdaki öğrenci **ifadelerinden** hangisi **doğrudur**?

- A)**  Güçlü yönlerini bilmek, bireyin başarısını azaltır.
- B)**  Bireyler, güçlendirilmesi gereken yönlerini geliştirmesine gerek yoktur.
- C)**  Bireyin en başarılı olduğu alan onun güçlü olduğu yönüdür.

3) Arkadaşınızı seçerken aşağıdaki özelliklerden hangisi arkadaşınızda olmamasını istediğiniz bir özelliktir.

- A)** Arkadaşımın sabırlı olmasını isterim.
- B)** Arkadaşımın duyarsız olmasını isterim.
- C)** Arkadaşımın paylaşımcı olmasını isterim.

4)

Hakan, aşağıdaki tabloda **kroki** ile ilgili bilgiler verilmiştir.

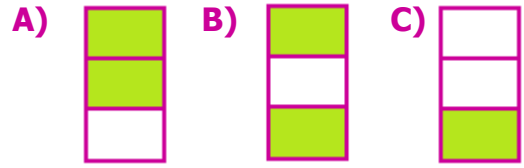
Kuş bakışı görünüm ile çizilir.

Çizimlerde uzunluk aleti kullanılmaz.

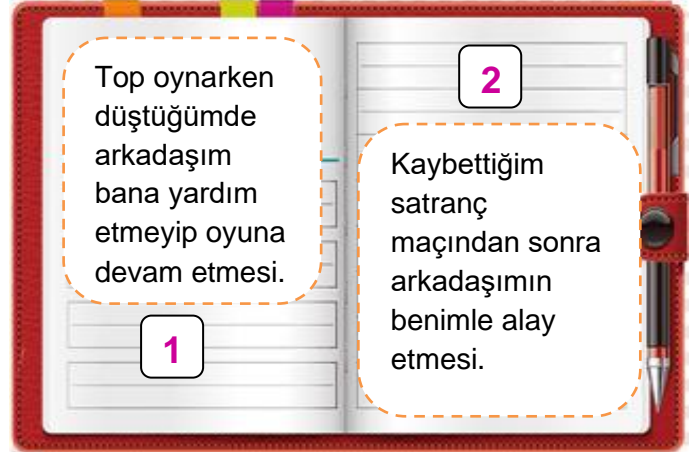
Sadece sınıfımızın krokisi çizilebilir.



Hakan'ın verdiği bilgilerden **doğru** olmayan kutucukları boyarsak tablonun son görüntüsü nasıl olur?



5)



Defterde yazılı davranışların bizlerde oluşturduğu duygular ile yüz ifadeleri eşleştirilirse hangi yüz ifadesi dışarıda kalır?



6)



Yukarıdaki resimlerden hangisi **kaynakları** tasarruflu kullanmayla ilgilidir?

- A) ❖ B) ● C) ◆

7) Aşağıda bazı mesleklerin görselleri verilmiştir.



İtfaiyeci

Mimar

Mühendis

Yukarıdaki mesleklerden hangisinin **hizmet** alanı diğerlerinden farklıdır?

- A) İtfaiyeci B) Mühendis C) Mimar

8)

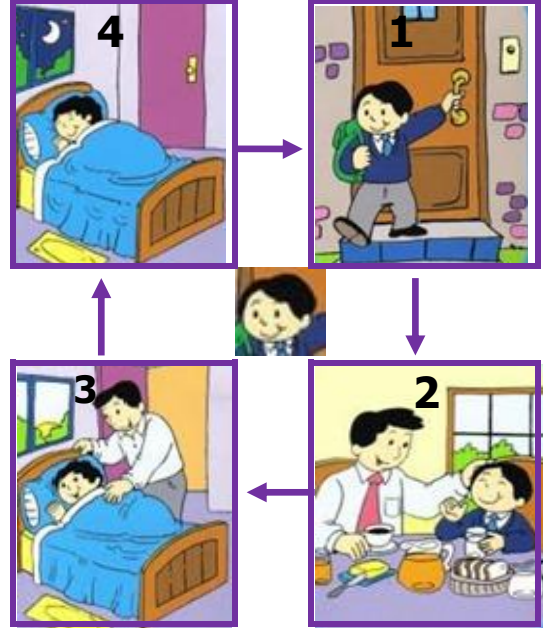


Sena, **temmuz** ayında marketten hangi meyveyi alırsa sağlıklı beslenmiş olur?

- A) Nar B) Kavun C) Mandalına

9)

Sinan bir gününün planlamasını aşağıdaki gibi yapmıştır.




Sinan bir gününü **planlarken** bir **hata** yapmıştır. Bu hatanın düzeltilmesi için hangi resimler yer değiştirilmelidir?

- A) 1 ve 2 B) 3 ve 4 C) 1 ve 3

10)

Üç arkadaş sabah kahvaltıda ne yiyeceğini hayal ediyor.



Hüseyin

Mahmut

Hasan

Hayallerine göre hangi çocuk **sağlıklı** beslenmektedir?

- A) Hüseyin B) Mahmut C) Hasan

TÜRKÇE CEVAP ANAHTARI

CEVAPLAR

1	A	B	C	11	A	B	C
2	A	B	C	12	A	B	C
3	A	B	C	13	A	B	C
4	A	B	C	14	A	B	C
5	A	B	C	15	A	B	C
6	A	B	C	16	A	B	C
7	A	B	C	17	A	B	C
8	A	B	C	18	A	B	C
9	A	B	C	19	A	B	C
10	A	B	C	20	A	B	C

MATEMATİK CEVAP ANAHTARI

CEVAPLAR

1	A	B	C	11	A	B	C
2	A	B	C	12	A	B	C
3	A	B	C	13	A	B	C
4	A	B	C	14	A	B	C
5	A	B	C	15	A	B	C
6	A	B	C	16	A	B	C
7	A	B	C	17	A	B	C
8	A	B	C	18	A	B	C
9	A	B	C	19	A	B	C
10	A	B	C	20	A	B	C

FEN BİLİMLERİ CEVAP ANAHTARI

CEVAPLAR

1	A	B	C	11	A	B	C
2	A	B	C	12	A	B	C
3	A	B	C	13	A	B	C
4	A	B	C	14	A	B	C
5	A	B	C	15	A	B	C
6	A	B	C	16	A	B	C
7	A	B	C	17	A	B	C
8	A	B	C	18	A	B	C
9	A	B	C	19	A	B	C
10	A	B	C	20	A	B	C

HAYAT BİLGİSİ CEVAP ANAHTARI

CEVAPLAR

1	A	B	C	11	A	B	C
2	A	B	C	12	A	B	C
3	A	B	C	13	A	B	C
4	A	B	C	14	A	B	C
5	A	B	C	15	A	B	C
6	A	B	C	16	A	B	C
7	A	B	C	17	A	B	C
8	A	B	C	18	A	B	C
9	A	B	C	19	A	B	C
10	A	B	C	20	A	B	C

TÜRKÇE

- 1) C
- 2) B
- 3) B
- 4) B
- 5) C
- 6) A
- 7) B
- 8) C
- 9) B
- 10) A
- 11) C
- 12) A
- 13) A
- 14) C
- 15) C

MATEMATİK

- 1) A
- 2) C
- 3) A
- 4) A
- 5) B
- 6) B
- 7) C
- 8) A
- 9) B
- 10) C
- 11) A
- 12) A
- 13) B
- 14) C
- 15) A

FEN BİLİMİ

- 1) B
- 2) A
- 3) B
- 4) A
- 5) A
- 6) A
- 7) C
- 8) B
- 9) C
- 10) A

HAYAT BİLGİSİ

- 1) C
- 2) C
- 3) B
- 4) C
- 5) B
- 6) A
- 7) A
- 8) B
- 9) C
- 10) B