



**GÖREV - 1:** Açıklamaları defterinize yazınız.

### TARTMA -2

**Not:** Bir kilogramın yarısı, yarım kilogramdır.

1 kilogram = 2 yarım kilogram

1 kg = 2 yarım kg

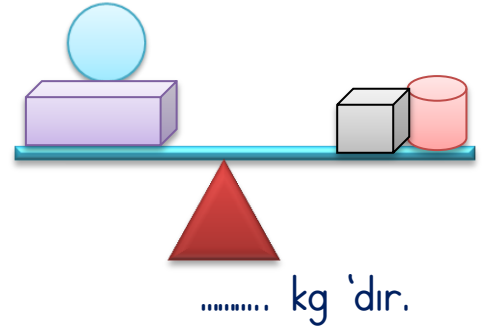
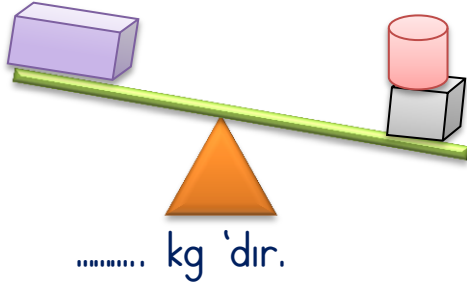
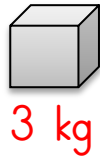
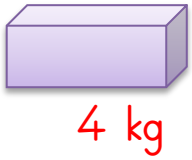
**UNUTMA:** Tartılan nesnelerin miktarını yani kütlesini **kilogram** ile gösteririz. Kilogramın kısaca "**kg**" şeklinde gösterilir.

**Örnek:** 1 kilogram = 1 kg



### TARTALIM

**GÖREV - 2:** Nesnelerin toplam kütlelerini, noktalı yerlere yazınız.



### PROBLEM ÇÖZME

MEYVELER	1 kg fiyatı
	4 TL
	10 TL
	8 TL
	3 TL

Yandaki tabloda pazardaki meyve fiyatları verilmiştir. Soruları bu göre cevaplayınız

1. Pazardan 3 kg muz, 2 kg çilek alan Tuğtekin, satıcıya ne kadar para ödemiştir?
2. Pazardan 4 kg elma, 5 kg armut alan Talha, satıcıya ne kadar para ödemiştir?
3. Pazardan her meyveden 1 kg alan Ziya, satıcıya ne kadar para ödemiştir?
4. Pazardan her meyveden 3 kg alan Hasan, satıcıya ne kadar para ödemiştir?