



## TOPLAMA İŞLEMİ PROBLEMLER


1. Uğur'un 7 tane , Seher'in 4 tane fıncığı var. İkisinin toplam kaç tane fıncığı var?



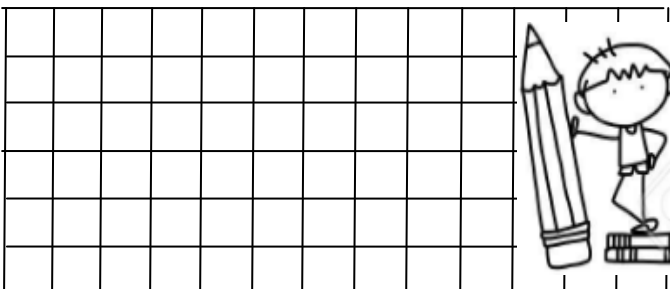
2. Kutuda 9 tane mavi boncuk var. Mavi boncuklardan 5 tane fazla yeşil boncuk var. Kutuda kaç tane yeşil boncuk var?




3. Melih 10 yaşındadır. Ablası ise Melih'ten 3 yaş büyüktür. Melih'in ablası kaç yaşındadır?




4. Babam 8 kilogram patates, 4 kilogram soğan aldı. Babamın aldıkları toplam kaç kilogramdır?




5. Salih 10 lira , Meral 6 lira harcamış. Salih ve Meral toplam kaç lira harcamış?



6. Bahçede 11 çocuk oyun oynarken, 4 çocuk daha oyuna katılıyor. Oyun oynayan toplam kaç çocuk olmuştur ?



7. Çınar tabaktaki fıncıkların 8 tanesini yiyince tabakta 10 tane fıncık kalmış. Çınar fıncıkları yemeden önce tabakta kaç tane fıncık vardı ?



8. Otobüsteki yolculardan 6 tanesi inince geriye 9 yolcu kalmış. Yolcular inmeden önce otobüste kaç yolcu vardı ?

