


SADECE 8 TL


BÜYÜK BOY

FUFUK İLE OKUDUĞUMU ANLIYORUM



2.SINIF
UFUK KOCA

www.ufukkoca.com



FUFUK İLE OKUDUĞUMU ANLIYORUM

www.ufukkoca.com

SİPARİŞ

0 552 252 83 85

Dolu Dolu

64 SAYFA

METİN İLE İLGİLİ
5 N 1 K
DOĞRU YANLIŞ
TEST
SORULARI

TOPLAM
345 soru

EĞLENCELİ
OKUMA ANLAMA
ETKİNLİKLERİ

Fiyat : 8 TL

Tamamı Renkli Sayfalar


20 Adet ve üzeri alımlarda

KARGO ÜCRETSİZ.

20 Adet altında alımlarda

kargo ücreti sadece 3 TL.

Sipariş Whatsap : 0 552 252 83 85



SORU

12 - 15 - 18 - 21

Yukarıda verilen sayı örüntüsünün kuralını yazınız.

Cevap :

1

SORU

14 - 20 - 8 - 15

Yukarıda verilen doğal sayıları büyükten küçüğe sıralayınız.

Cevap :

5

SORU

30 - 26 - 22 - 18

Yukarıda verilen sayı örüntüsünün kuralını yazınız.

Cevap :

2

SORU

24 - 16 - 19 - 6

Yukarıda verilen doğal sayıları büyükten küçüğe sıralayınız.

Cevap :

6

SORU

7 - 10 - 13 - 16 - -

Yukarıda verilen sayı örüntüsünün kuralını bulup devam ettirelim.

Cevap :

3

SORU

32 - 6 - 21 - 18

Yukarıda verilen doğal sayıları küçükten büyüğe sıralayınız.

Cevap :

7

SORU

28 - 23 - 18 - 13 - -

Yukarıda verilen sayı örüntüsünün kuralını bulup devam ettirelim.

Cevap :

4

SORU

29 - 41 - 14 - 30

Yukarıda verilen doğal sayıları küçükten büyüğe sıralayınız.

Cevap :

8

1



$$25 < 23 < 18 < 10$$



$$12 < 21 < 30 < 39$$



$$30 > 22 > 16 > 15$$

Yukarıdaki çocuklardan hangisi sayıları büyükten küçüğe doğru sıralamıştır?



2



$$35 > 28 > 32 > 15$$

Fufuk'un yaptığı sıralama doğru olması için hangi sayı yerine 33 yazmalı?



3

$$52 - 49 - 46 - \dots$$

Yukarıdaki sayı örüntüsünde en sona gelecek sayıyı hangi çocuk doğru gösteriyor?



4

$$14 - 18 - \square - 26 - 30 - \square$$

Yukarıda boş bırakılan kutu içine gelecek sayılardan büyük olan hangisidir?



5


"Yirmi dört küçüktür otuzdan" Yukarıdaki ifadenin rakam ve semboller ile gösterimi hangi seçenekte doğru gösterilmiştir?



6

$$18 < 13 < 22 < 27$$

Fufuk'un yaptığı sıralama doğru olması için yukarıda verilen sayılardan hangi ikisi yer değişmesi gerekir?



Adı :

Soyadı :

Sınıfı : / No :

CEVAPLAR

