

TÜRKÇE TESTİ

Kartal süzülüp koyun sürüsüne dalmış. Bir koyunu kapıp havalanmış. Bu durumu gören karga, kartala özenmiş. "Bunu ben de yapabilirim." diye düşünmüş. Kanatlarını açmış, pençelerini germiş. Kartal gibi süzülerek bir koyunun sırtına konmuş. Koyunu kaldırmak istemiş, başaramamış. Çabaladıkça pençeleri koyunun yünlerine dolanmış. Karga ayaklarını kurtarmak istemiş, fakat kurtaramamış. Durumu gören çoban, kargayı yakalamış, ama bırakmamış. Evine götürüp kafese koymuş. Çoluk çocuğa göstermiş. Kartala özenen zavallı karga, hem özgürlüğünü yitirmiş hem de gülünecek duruma düşmüş.

1) Yukarıdaki hikayede altı çizili koyu yazılmış sözcüklerin hangisinin anlamı hikayedeki anlamına uygun verilmemiştir?

- a) dolanmak Bir şeyin çevresinde dönmek, gezmek, dolaşmak
- b) süzülmek Sessizce ve görünür bir hareket yapmadan ilerlemek
- c) pençe Yırtıcı hayvanların ön ayaklarının parmaklarıyla tırnakları



Bahar gelince köyümüzdeki çay taşar.



Dedemle birlikte çayda balık tuttum.



Akşam yemeğinden sonra içtiğim çay zihnimi açıyor.

2) Yukarıdaki öğrencilerin hangisinin cümlesinde geçen eş sesli kelime diğerlerinden farklı anlamda kullanılmıştır?



yanlış

Mehmet

Fatih'in

anlıyor

sözlerini

3) Yukarıda verilen kelimelerle anlamlı ve kurallı bir cümle oluşturulduğunda 2. sırada hangi kelime olur?

a) Mehmet

b) Fatih'in

c) sözlerini




4) Aşağıdaki cümlelerin hangisinde çoğul isim kullanılmamıştır?

a) Gizem'in bebekleri çok güzeldir.

b) İzciler fularlarını bağladılar.

c) Annemle kileri temizledik.

5) Aşağıdaki akıllı işaretlerden hangisini gördüğümüzde ailemizle birlikte televizyon izleyebiliriz?



İsmim Hasan. İhtiyar, nur yüzlü, beyaz bıyıklı birisiyim. Genç iken uzun boyluydum ama yaşım ilerledikçe kamburlaştım.

6) Yukarıdaki Hasan Dede ile ilgili verilen bilgilere göre aşağıdakilerden hangisi söylenebilir?

a) Hasan Dede'nin duygusal özellikleri belirtilmiştir.

b) Hasan Dede'nin fiziksel özellikleri belirtilmiştir.

c) Hasan Dede'nin evinin özellikleri belirtilmiştir.



-lar, -ler eki almadığı halde bir çokluk bildiren kelimelere topluluk ismi denir.

7) Yukarıdaki öğrencinin açıklamasına göre aşağıdaki cümlelerin hangisinde topluluk ismi vardır?

a) Ağaçtaki sincaplar çok şirindi.

b) Tezgahtaki erikler sıcaktan çürümüş.

c) Çomar sürünün bekçiliğini yapıyordu.



Cümlelerin anlamları ile ilgili çalışma yapan öğrenciler kendi aralarında bir oyun oynuyorlar. Öğrenciler kendilerine ait simgelerin arka yüzlerine tablodaki cümleleri yazıyorlar.

	<i>Konuşmacıyı dikkatli dinlemedim.</i>
	<i>Öğretmenine soru sordun mu?</i>
	<i>Yemekten önce ellerimi yıkadım.</i>

8) Yukarıda verilenlere göre öğrenciler cümleleri "olumlu - olumsuz - soru" olacak şekilde sıraladıklarında sıralama nasıl olur?

- a) b)
- c)

Aslan, soğuk bir kış günü ormanda dolaşıyormuş. Bir ağacın dibinde uyuyan tavşana rastlamış. Yavaşça yaklaşmış. Onu yiyeceği sırada bir geyik görmüş. Tavşanı bırakıp geyiğin arkasından gitmiş. Ama geyiği yakalamak ne mümkün. Aslan gelinceye kadar geyik oradan kaçmış. "Bari gidip tavşanı yiyeyim." demiş. Ama tavşan ortalarda yokmuş. Bunun üzerine kendi kendine, "Aç gözlülük yaparsan, işte böyle aç kalırsın." demiş.

9) Yukarıda verilen metnin ana düşüncesi aşağıdakilerden hangisidir?

- a) Aç gözlülük yapmamalı elimizdekilerin kıymetini bilmeliyiz.
b) Aç gözlü olursak zararımız olmaz.
c) Aç gözlü olursak her istediğimizi elde ederiz.

10) Aşağıdaki cümlelerin hangisinin sonuna ünlem işareti (!) konulmalıdır?

- a) Gemi ile seyahat ettin mi
b) Pazardan kiraz ve çilek aldık
c) Ooo, muhteşem bir manzara

11) Aşağıdaki cümlelerin hangisinde yazım yanlışı yapılmamıştır?

- a) Atatürk, samsun'a 19 Mayıs 1919 tarihinde ulaşmıştır.
b) Benimle yarın parka geliyormusunuz?
c) Okul müdürümüz, Cumhuriyet Bayramında konuşma yaptı.

12) Aşağıdaki cümlelerin hangisinde sebep - sonuç ilişkisi yoktur?

- a) Düzenli ders çalıştığım için başarılıyım.
b) Bilgisayarda oyun oynamayı pek sevmem.
c) Futbol maçına bilet bulamadığım için maçı izleyemedim.

Ah ne güzel kumbara!
İçi dolu çil para.
Kumbarası olanın,
Başı gelmez hiç dara.

13) Yukarıda verilen dördlüğün konusu aşağıdakilerden hangisidir?

- a) tutumluluk b) sevgi c) dürüstlük



Karınca gibi
öğrenciler ödevlerini hemen bitirirler.

14) Hacivat'ın cümlesindeki noktalı yere hangi kelime gelirse öğrencilerin özelliği belirtilmiş olur?


- a) dikkatli b) saygılı
c) çalışkan

15) Yanda verilen resimdeki kişilerin söylediği cümlelerden hangisi soru cümlesidir?

- a) **Baba:** Güzel havanın tadını çıkarmaya ne dersiniz
b) **Anne:** Pikniğe gitsek iyi olur diye düşünüyorum
c) **Çocuk:** Parka gitmek istediğimi söylemiştim



MATEMATİK TESTİ






Efe Ali Veli Ela Ece

1) Yukarıda bazı öğrenciler okullarında sergilenecek olan tiyatro gösterisi için bilet kuyruğuna girmişlerdir. Buna göre bilet sırasında baştan 4. kişi kimdir?

- a) Ela b) Ali c) Ece



2) Sıvıları ölçmek için kova, bardak, sürahi gibi standart olmayan araçları kullanabiliriz. Yukarıda verilen kovayı aşağıdaki hangi bardak ile daha hızlı doldurabiliriz?

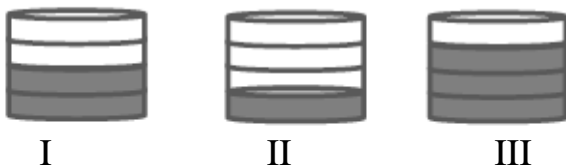
- a)  b)  c) 



Ali tek başına tartıya çıktığında 21 kilogram ağırlığında olduğunu görmüştür. Ali, Fatma ile birlikte tartıldığında tartı 40 kilogramı göstermiştir.

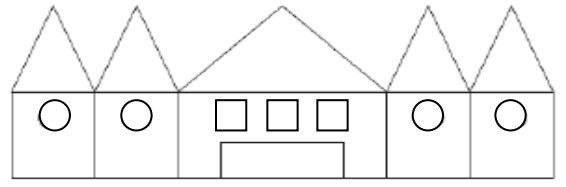
3) Yukarıda verilen bilgilere göre Fatma tek başına tartılırsa kaç kilogram olur?

- a) 19 kg b) 61 kg c) 21 kg



4) Mehmet'in annesi çeyrek bardak vişne suyu istedi. Buna göre Mehmet annesine kaç numaralı bardağı götürmüştür?

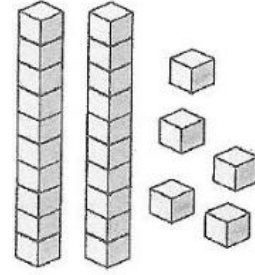
- a) I b) II c) III



Yusuf, Emrah ve Serhat şekilde yer alan üçgen, kare ve çemberleri sayıyorlar ve defterlerine yazıyorlar.

5) Yukarıdaki öğrenciler arasından sadece Yusuf, şekilleri doğru sayıp yazdığına göre, aşağıdakilerden hangisini Yusuf yazmıştır?

	<i>üçgen</i>	<i>kare</i>	<i>çember</i>
a) 5		5	4
b) 4		9	2
c) 5		7	4



6) Yukarıda verilen onluk bloklara göre aşağıdaki basamak tablosundan hangisi doğru doldurulmuştur?

a)	5 onluk	2 birlik	b)	2 onluk	5 birlik
	50	2		20	5
	elli	iki		yirmi	beş
	52			25	
	elli iki			yirmi beş	
c)	2 onluk	4 birlik			
	20	4			
	yirmi	dört			
	24				
	yirmi dört				



1 TL	1 TL 50 Kr	50 Kr
------	---------------	-------

7) İlker, kırtasiyeden birer tane silgi, defter ve kalem alıyor. İlker kırtasiyeciyeye toplam kaç lira vermelidir?

- a) 2 TL 50 Kr b) 3 TL c) 6 TL



Küp şeklindeki ilaç kutusunun her yüzüne farklı renkte elışı kağıdı yapıştırarak kumbara yaptım.

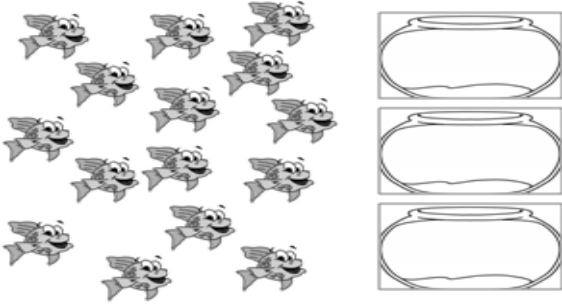
8) Abdullah, kumbara yapmak için kaç farklı renkte elışı kağıdı kullanmıştır?

- a) 6 b) 5 c) 12



9) Yukarıda verilen yumurtaların sayısını çarpma işlemi ile yapmak isteyen Selin, işlemi defterine nasıl yazmalıdır?

- a) 8×3 b) 3×8 c) $8 + 3$



10) Yukarıda verilen balıkların eşit bir şekilde akvaryumlara dağıtılmasını ifade eden bölme işlemi hangisidir?

- a) $12 \overline{) 3}$ b) $15 \overline{) 5}$ c) $15 \overline{) 3}$



Bir market 2 dondurma alana 1 dondurma bedava vermektedir.

11) Murat Bey, yukarıda verilen dondurmaların tamamını alırsa toplam kaç tane dondurması olur?

- a) 9 b) 18 c) 27



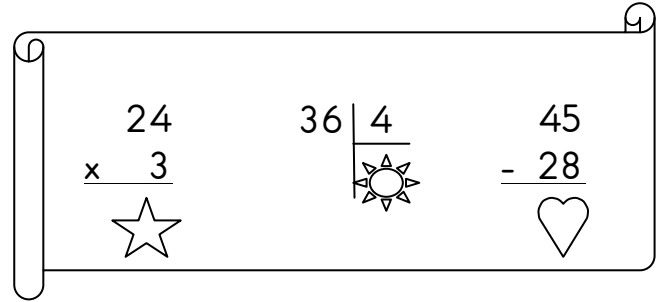
Tayfun ve arkadaşları hafta sonu sinemaya gitmişlerdir. Film, öğleden sonra duvardaki saate göre başlamıştır ve 3 saat sürmüştür.

12) Buna göre Tayfun ve arkadaşları saat kaçta sinemadan çıkarlar.

- a) 15.30 b) 06.30 c) 18.30

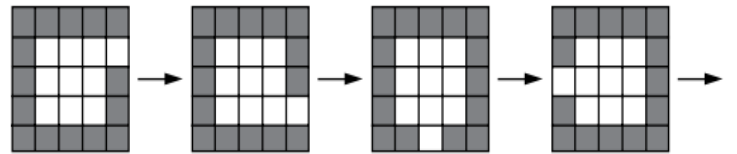
13) Bir manav 12 ve 25 kilogramlık iki kasa mandalina alıyor. Bu mandalinalardan 16 kilogramını satıyor. Geriye kaç kilogram mandalina kalır?

- a) 37 b) 21 c) 17



14) Semih, öğretmenin tahtaya yazdığı işlemlerin sonuçlarını bulup, sonuçları küçükten büyüğe doğru sıralamak istiyor. Buna göre doğru sıralamayı nasıl yapmalıdır?

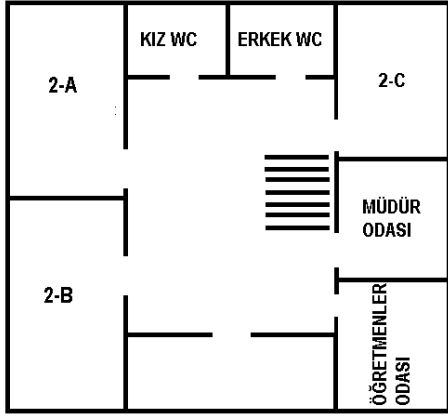
- a) b)
c)



15) Yukarıda verilen şekiller arasındaki ilişkiye göre, bir sonraki şekil hangisi olmalıdır?

- a) b) c)

HAYAT BİLGİSİ TESTİ



1) Yukarıda Atatürk İlkokulu'nun 2.katının planı verilmiştir. Bu plana göre 2-A sınıfı için aşağıdakilerden hangisi söylenebilir?

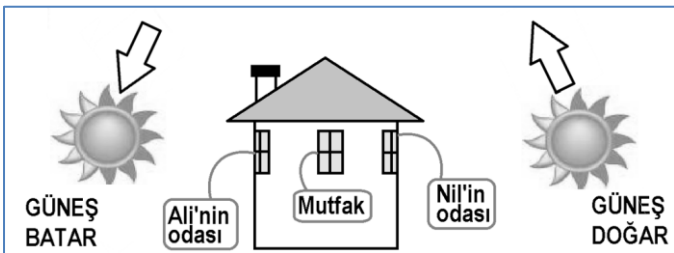
- 2-B sınıfının karşısında, öğretmenler odasının yanındadır.
- 2-B sınıfının yanında, 2-C sınıfının karşısındadır.
- Erkekler tuvaletinin karşısında, müdür odasının yanındadır.

Salı
Hayat Bilgisi
Matematik
Türkçe
Türkçe
Oyun ve Fiziki Etkinlikler
Oyun ve Fiziki Etkinlikler

Aslı, haftalık ders programını göre her akşam çantasını düzenleyen bir öğrencidir. Yukarıda haftalık ders programına göre salı gününün dersleri verilmiştir.

2) Buna göre Aslı'nın hangi eşyayı çantasına koymasına gerek yoktur?

-
-
-



3) Yukarıda verilen şekle göre hangi odanın penceresi batı yönüne bakmaktadır?

- Nil'in odası
- mutfak
- Ali'nin odası



Geçen sene olduğu gibi bu sene de sınıfımızın başkanlık seçimi vardı. Mehmet, Onur, Başak ve Filiz sınıf başkanlığı için aday oldular. Aday olan arkadaşlarımız seçimden önce yapacakları hizmetleri anlattılar. Bizlerde oylama yaparak sınıf başkanı olmasını istediğimiz arkadaşımızı seçtik.

4) Yukarıda verilen açıklamalara göre aşağıdakilerden hangisi söylenebilir?

- Sınıf başkanı olmak isteyen öğrenciler, diğer öğrencileri kendilerine oy vermeleri için zorlamışlardır.
- Demokratik bir sınıf ortamı vardır.
- Sınıf öğretmeni kendi istediği bir öğrenciyi sınıf başkanı yapmıştır.



Hafta sonu ağabeyim beni iş yerine götürdü. Yangın haberi aldıklarında nasıl hazırlandıklarını, yangını söndürürken nelere dikkat etmeleri gerektiğini uzun uzun bana anlattı.

5) Yukarıda verilen açıklamalara göre çocuğun ağabeyinin mesleği aşağıdakilerden hangisidir?

-
-
-

I. Sevdiğimiz yiyeceklerden istediğimiz kadar yemeliyiz.

II. Sabah kahvaltısıyla öğüne başlayıp, öğlen ve akşam yemeklerini aksatmamalıyız.

III. Yiyecekler arasında ayırım yapmadan, her besinden yeteri kadar yemeliyiz.

6) Sağlıklı büyümek ve gelişmek için yukarıdakilerden hangisini ya da hangilerini yapmalıyız?

- I ve III
- I ve II
- II ve III

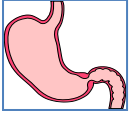


Anıl

Okul dönüşü yanımdan geçen tanımadığım bir adam babamın arkadaşı olduğunu ve babama ulaşmak için telefon numarasını söylememi istedi.

7) Yukarıdaki açıklamalara göre Anıl'ın vereceği en uygun yanıt aşağıdakilerden hangisidir?

- a) Sizi tanımadığım için söyleyemem.
- b) Düşünmem lazım.
- c) Hemen ajandamdan bakıp söyleyeceğim.



Suluk alıp vermemizi sağlar.



Yediğimiz besinleri sindirmemizi sağlar.



Kanın vücudumuzdaki dolaşımını sağlar.

8) Yukarıda verilen organlar görevleri ile eşleştirildiğinde aşağıdaki hangi eşleştirme görünümü olur?

- a)
- b)
- c)



Küçük Mustafa, babasının ölümünden sonra annesiyle birlikte dayısının çiftliğine taşındılar. Mustafa, çiftlikteki işlerde dayısına yardımcı oldu. Bir süre burada yaşadılar.

9) Yukarıda hangi devlet büyüğünün çocukluğundan bahsedilmektedir?

- a) Atatürk
- b) Fatih Sultan Mehmet
- c) Kanuni Sultan Süleyman



10) Yukarıda verilen görsel Atatürk'ün yaptığı hangi yenilik ile ilgilidir?

- a) Soyadı Kanunu
- b) Harf İnkılabı
- c) Seçme ve seçilme hakkı



Liderler, topluma yön veren ve yol gösteren kişilerdir. Kimi liderler fikirleriyle, kimi liderler eserleriyle, kimi liderler de yaptığı yeniliklerle ve buluşlarla toplum hayatını yönlendirirler.

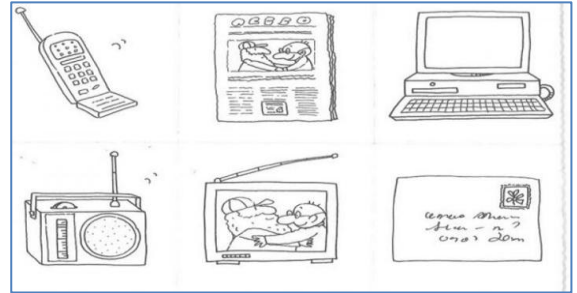
11) Cami, saray, köprü, medrese gibi eserleriyle toplumun farklı ihtiyaçlarını karşılamış kişi aşağıdakilerden hangisi olabilir?

- a) Aleksander Graham Bell
- b) Yunus Emre
- c) Mimar Sinan



12) Aşağıdaki ifadelerden hangisi çocuk hakları pankartına yazılabilir?

- a) Çocuklar eğlenmekte özgür değildir.
- b) Her çocuğun bu yaşama hakkı vardır.
- c) Bazı öğrencilerin eğitim - öğrenim görme hakkı yoktur.



13) Yukarıda verilen görsel insanların hangi hak ve özgürlükleri ile ilgilidir?

- a) seyahat etme özgürlüğü
- b) sağlık hakkı
- c) haberleşme özgürlüğü

14) Aşağıda verilen ifadelerden hangisi doğal afetler ile ilgili bir durum değildir?

- a) Geçtiğimiz gün bir anda odamdaki lambanın sallandığını gördüm. Sanırım deprem oluyordu.
- b) Trafik kazalarının olmasının en büyük sebebi trafik kurallarına uymamaktır.
- c) Selden zarar gören insanlara Türk Kızılay'ı yardım etti.

15) Ülkemiz ile ilgili bilgilerden hangisi yanlıştır?

- a) Dört tarafı denizler ile çevrili, Trakya ve Anadolu adalarından oluşur.
- b) Ülkemiz bizim en büyük yuvamızdır.
- c) Ülkemiz doğal ve tarihi güzellikleri ile eşi benzeri yoktur.