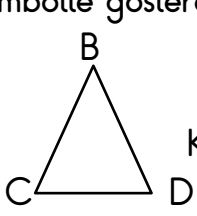


Adı soyadı:

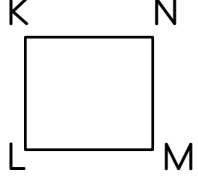
4. Sınıf Günlük Çalışmalar

Aşağıdaki geometrik şekillerin kenar uzunluklarını sembolle gösterelim.



BCD üçgeni


Kenar uzunlukları :



KLMN karesi

Kenar uzunlukları

.....



ABCD dikdörtgeni

Kenar uzunlukları

.....

1 Kağan'ın 135 TL si vardı. Parasının $\frac{2}{5}$ si ile kitap aldı. Kağan'ın kaç lirası kaldı?

2 $\frac{7}{6}$ i kesrini sayı doğrusunda gösterelim.

3 Yaren 16 Haziran 2017 tarihinde spor salonuna 6 haftalık üyelik yaptırdı. Buna göre Yaren'in üyeliği hangi tarihte biter?(Bir ay= 4 haftadır)

4 Bir musluk 20 dakikada 30 L su akıtıyor. Üç saatte kaç litre su akıtır?

1.Aşağıda verilenlerden hangisi deyimlere örnek değildir?

- A) Sırtından geçinmek
- B) Acı patlıcanı kırağı çalmaz.
- C) Hazıra konmak
- D) Ciğeri yanmak

2. Aşağıda verilenlerden hangisi atasözlerine örnek değildir?

- A) Dağ delisiz ,yol çalisiz olmaz.
- B) Açığa vurmak
- C) Davulun sesi uzaktan hoş gelir.
- D) İnsan ,dilin altında gizlidir.

3.Aşağıdakilerden hangisinde yazım yanlışı vardır?

- A) Üç haftadır ortalıklarda yoksun.
- B) Hasta olduğu için gelmedi.
- C) beni düşünmen mutluluk verdi.
- D) Bana muz getirmiş.

4. Aşağıda verilenlerden hangisi zıt anlamlı sözcüklere örnektir?

- A) tanık -şahit
- B) kaba- nazik
- C) baş -kafa
- D) al -kırmızı

5. Aşağıdaki cümlelerin hangisinde 'de ' nin yazımı yanlıştır?

- A) Abim de markete geldi mi ?
- B) Dükkkanda her renk kalem vardı.
- C) Sen de mi geleceksin?
- D) Oyunumuza sende katıl.

6. Aşağıdaki cümlelerden hangisinde karşılaştırma yapılmıştır?

- A) Kağan ' Hava güzel' dedi.
- B) Benim amcam doktordur.
- C) Yiğit , Alperen'den kısadır.
- D) Soğuk çayı severim.

7.Aşağıdaki cümlelerin hangisinde ki 'nin yazımı yanlıştır?

- A) Dolaptaki kıyafetleri çıkar.
- B) Eve gel ki ben de çıkabileyim.
- C) Benim kalemim senin ki kadar güzel değil.
- D) Çok ders çalış ki sınıfı geçesin.

1. Kar yağışının çok olduğu dağlık bir alanda hangi ekonomik faaliyetin daha çok gelişmesi beklenir?

- A) hayvancılığın B) tarımın
C) kış turizminin D) sanayinin

2. Üretilen mal ve hizmetlerin müşteriler tarafından satın alınmasınadenir Boşluğa hangi sözcük gelmelidir?

- A) Üretim B) tüketim C) dağıtım D) sermaye

3. Bilinçli tüketici ile ilgili,

- I. Reklamlarda gördüğü bütün ürünleri satın alır.
II. Alışveriş yaptıktan sonra mutlaka fiş alır.
III. Alışverişte en ucuz ürünleri satın almayı tercih eder.

Hangileri söylenebilir?

- A) II B) I ve III C) II ve III D) I, II ve III

4. Bütçemizi oluştururken

- I. Gelirlerimizi tasarruflu kullanmalıyız.
II. Gerekli durumlarda isteklerimizi ertelemeliyiz.
III. İhtiyaçlarımızı öncelik sırasına koymalıyız.

verilenlerden hangilerini yapmalıyız?

- A) I-II B) I-III C) II-III D) hepsi

5. Yeni bir buzdolabı almak isteyen Yaren ;

- I. Son kullanma tarihine bakmak.
II. TSE ve garanti belgesi olup olmadığına bakmak.
III. Aynı kalite buzdolabın , farklı satış yerlerdeki fiyatlarını araştırmak.

Yaren'in, hangilerini yapması gerekiyor.

- A) I B) III C) I-II D) II-III


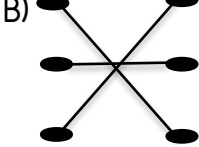
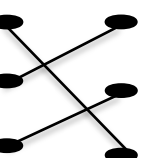
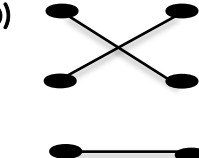
- I. Cumhuriyet'in ilanı II. Atatürk'ün Samsun'a çıkması
III. TBMM açılması IV. Erzurum Kongresi'nin yapılması

6. Olayların kronolojik sıralaması hangisidir?

- A) I -II -III -IV B) II-IV -III-I C) II-III-IV-I D) III-I-IV-II

- Doğu Cephesi ● ● Yunanlar savaşıldı
Batı Cephesi ● ● Ermenilerle savaşıldı.
Güney Cephesi ● ● Fransızlar savaşıldı.

7. Cephele ve kimlerle savaşıldığını eşleştiresek hangi şekil oluşur?

- A)  B) 
- C)  D) 

1. Isı alınca;

I. su donar II. buz erir III. tereyağı erir
Eşleştirmelerin sonucunda hangi cümleler doğru olur?

- A) I- II B) I -III C) hepsi D) II -III

2. Bir maddeyi ısıttığımızda hangi kaba koyarsak onun şeklini aldığı görmekteyiz.

Bu madde ısıtılmadan önce hangi haldedir?

- A) Sıvı B) katı C) gaz D) kütle

3. Demir tozu -talaş ve kum karışımını ayırmak için hangi yöntemler sırasıyla kullanmak gerekiyor?

- A.) Mıknatıs -süzme B) Mıknatıs -mıknatıs
C) mıknatıs- yüzdürme D) süzme -eleme

4. Cisimler doğal maddelerin işlenmesiyle elde edilir. Buna göre madde- cisim ikilisi hangi seçenekte yanlış verilmiştir?

- A) toprak -çömlek B) ağaç -tahta
C) demir -tencere D) petrol -ağaç

5. Aşağıda verilen ifadelerden hangisi yanlıştır?

- A) Gazlar buldukları ortamda yayılırlar.
B) Küçük taneli katılar buldukları kabın şeklini alır.
C) Sıvı maddeler ve taneli yapıda bulunan katılar akışkandır.
D) Gaz ve katı maddeler sıkıştırılabilir.

- I. rüzgar II. sel III. buzlanma

6. Hangileri madde üzerinde etkili olan doğa olaylarındandır?

- A) I -II B) II - III C) I -III D) hepsi

★ Şekerli su

★ Pirinç -un karışımı

★ Tuzlu su

★ Talaş -çakıl karışımı

Karışımlardan hangisini eleme yöntemi ile ayırabiliriz?

- A) Şekerli su
B) Tuzlu su
C) Pirinç-un karışımı
D) Talaş -çakıl karışımı