





















\div	3	4	8
24			
56			
72		π	Δ
96			



Arkadaşlar, sembollerin değerlerini kim bulacak.
Yukarıdaki **bölme işlemlerini** doğru yaparsan bulabilirsin.

								π	Δ			
Bölüm												



Acaba **şifre** ne !! Yukarıdaki **bölümlerden** olanları **aşağıda** bulup **boyayın** o zaman.

13	13	13	13	13	13	13	13	13	13	13	13	13	13	13	13	13	13	13	13
12	12	25	14	14	14	25	24	24	11	11	24	25	9	9	9	9	25	15	15
12	11	25	14	11	11	25	24	11	24	11	24	25	9	11	11	9	25	15	15
12	12	25	14	14	14	25	24	11	11	24	24	25	9	9	9	9	25	15	15
11	12	25	14	11	11	25	24	11	11	11	24	25	9	11	11	9	25	15	15
12	12	25	14	14	14	25	24	11	11	11	24	25	9	11	11	9	25	15	15
17	17	25	17	17	17	25	17	17	17	17	17	25	17	17	17	17	25	17	17
21	21	21	21	21	21	21	21	21	21	21	21	21	21	21	21	21	21	21	21