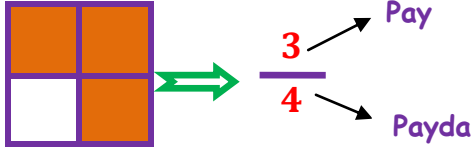




# BASİT KESİRLER 1



**Kesir**, bir bütünün kaç **eş parçaya** bölündüğünü ve eş parçalardan kaç **tanenin** alındığını gösterir.  
**Pay**, bir bütünün eş parçalarından kaç tanesinin alındığını, boyandığını gösterir.  
**Payda**, bir bütünün kaç eş parçaya bölündüğünü gösterir.



Yandaki şekilde bir bütün 4 eş parçaya bölünmüş ve bu eş parçalardan 3 tanesi boyanmıştır.

**BASİT KESİR:** Payı paydasından küçük olan kesirlere **basit kesir** denir. Basit kesir her zaman bir bütünden daha küçüktür.

$$\frac{2}{5}$$

PAY  
PAYDA

**PAY < PAYDA**

Okunuşu: Beşte iki veya iki bölü beş

• Aşağıda verilen basit kesirlerin okunuşlarını örnekteki gibi yazınız.

$$\frac{1}{3} \Rightarrow \text{Üçte bir veya bir bölü üç}$$

$$\frac{2}{4} \Rightarrow$$

$$\frac{4}{7} \Rightarrow$$

$$\frac{8}{12} \Rightarrow$$

$$\frac{12}{15} \Rightarrow$$

$$\frac{9}{24} \Rightarrow$$

$$\frac{8}{10} \Rightarrow$$

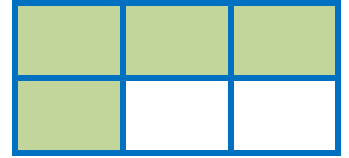
$$\frac{17}{30} \Rightarrow$$

İskender07

• Aşağıda modelle gösterilen kesirleri kesir çizgisi kullanarak yazınız.




Kesir: \_\_\_\_\_



Kesir: \_\_\_\_\_




Kesir: \_\_\_\_\_




Kesir: \_\_\_\_\_




Kesir: \_\_\_\_\_



Kesir: \_\_\_\_\_



Kesir: \_\_\_\_\_



Kesir: \_\_\_\_\_

İskender07