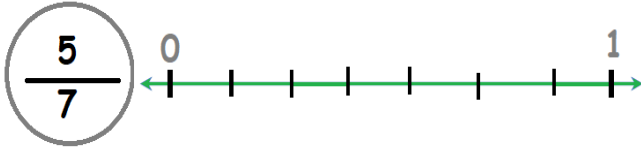
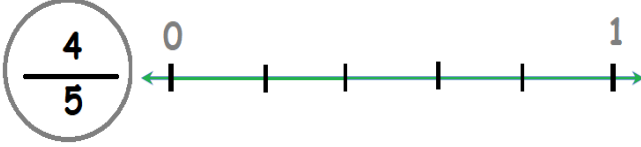
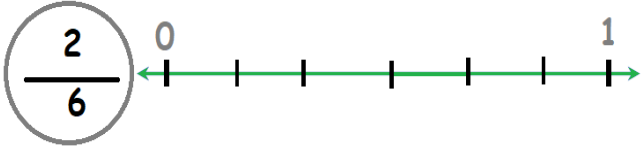


ADI SOYADI:

Verilen kesirleri sayı doğrusu üzerinde işaretleyelim.



Verilen miktarların kaç yarım ve çeyreğe eşit olduğunu yazalım.

2 bütün ..... yarıma eşittir.

4 bütün ..... yarıma eşittir.

3 bütün ..... yarıma eşittir.

5 bütün ..... yarıma eşittir.


6 bütün ..... çeyreğe eşittir.

2 bütün ..... çeyreğe eşittir.

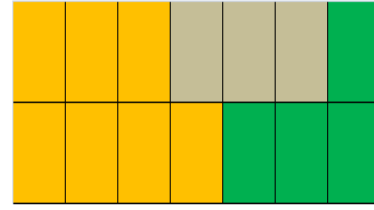
1 bütün ..... çeyreğe eşittir.




4 bütün ..... çeyreğe eşittir.

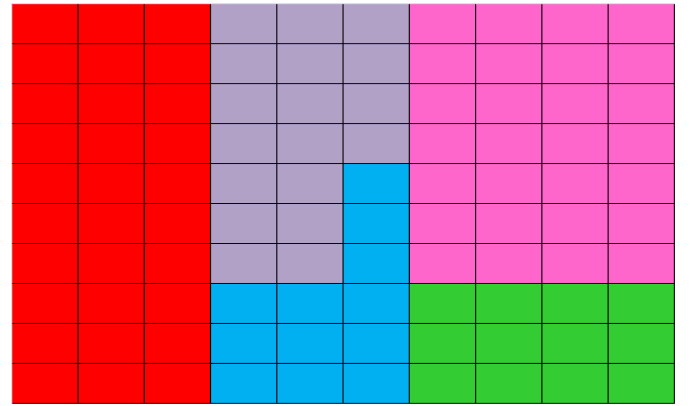
Verilen renklerin kesir miktarlarını yazalım.



 =  $\frac{6}{9}$        = \_\_\_\_\_




 = \_\_\_\_\_       = \_\_\_\_\_       = \_\_\_\_\_



 = \_\_\_\_\_       = \_\_\_\_\_

 = \_\_\_\_\_       = \_\_\_\_\_

 = \_\_\_\_\_

$$\frac{4}{10}$$

$$\frac{23}{100}$$

$$\frac{3}{10}$$

$$\frac{17}{100}$$

Verilen soruların cevaplarını yazalım.

16 sayısının dörtte biri kaçtır?

35 çileğin 1 bölü 5 'i kaçtır?

18 kitabın 6 da 1 kaçtır?

5 kalemin 5 da 2 si kaçtır?

Verilen çoklukların kesir kadarını bulalım.

**4 Mısırın**

Tamamı

Yarısı

Çeyreği

**80 Çileğin**

Tamamı

Yarısı

Çeyreği

**32 Defterin**

Tamamı

Yarısı

Çeyreği

**12 Elmanın**

Tamamı

Yarısı

Çeyreği

**36 Ekmeğin**

Tamamı

Yarısı

Çeyreği

**8 Fındığın**

Tamamı

Yarısı

Çeyreği