



SAYI ÖRÜNTÜLERİ 1



Aşağıda verilen sayı örüntülerinin kuralını yazınız. Sayı örüntüsüne uygun sayıyı yazınız.



Örüntünün Kuralı:



Örüntünün Kuralı:



Örüntünün Kuralı:



Örüntünün Kuralı:



Örüntünün Kuralı:



Örüntünün Kuralı:



Örüntünün Kuralı:



Örüntünün Kuralı:



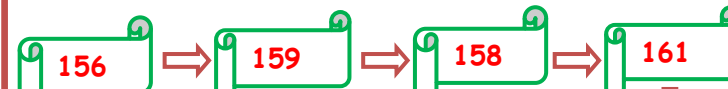
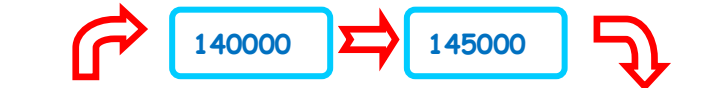
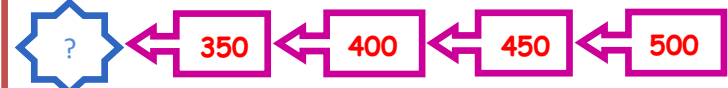

Örüntünün Kuralı:



Örüntünün Kuralı:

İskender07

Aşağıda verilen sayı örüntülerinin kuralına göre uygun sayıları yazınız.



Facebook grup = İskender07 (ilköğül etkinlik)