





Grafik: Çiftlikte bulunan hayvanlar.

Hayvanlar	Hayvan Sayısı
Koç	
Keçi	
İnek	
Hindi	

Not: Her şekil 10 hayvanı göstermektedir.

İlk 5 soruyu yukarıdaki grafiğe göre cevaplayınız.

1. Çiftlikte kaç keçi vardır?
A) 5 B) 50 C) 65

2. Çiftlikteki en çok ve en az hayvan sayıları arasındaki fark kaçtır?
A) 40 B) 60 C) 80

3. Çiftlikteki koç ve hindi sayıları toplamı kaçtır?
A) 10 B) 140 C) 100

4. Bu çiftlikte kaç tane hayvan vardır?
A) 180 B) 200 C) 230

5. Çiftliğe kaç keçi daha gelirse, çiftlikteki keçi sayısı hindi sayısına eşit olur?
A) 30 B) 40 C) 50

ilkokulsoru.com

ÇETELE TABLOSU: ULAŞIM ARAÇLARI

ULAŞIM ARAÇLARI	KİŞİ SAYISI
Otomobil	
Uçak	
Gemi	
Tren	
Vapur	

Aşağıdaki 6, 7 ve 8. soruları yukarıdaki tabloya göre cevaplayınız.

6. Gemi kullanan kişi sayısı kaçtır?
A) 11 B) 12 C) 13

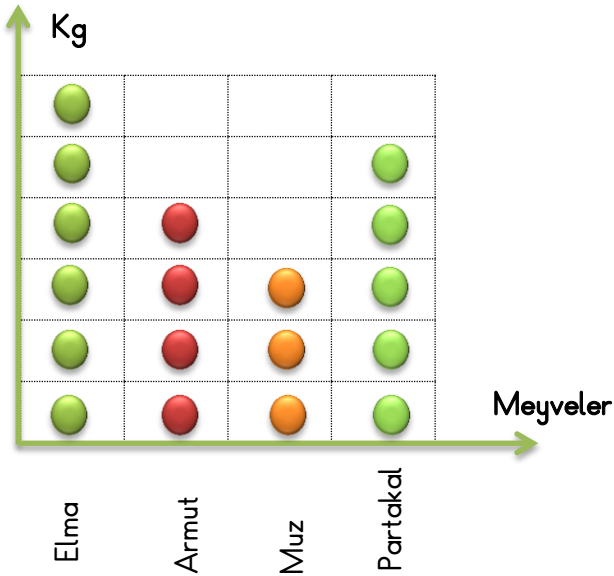
7. Ulaşım araçlarından otomobil ve vapur kullananların toplam sayısı kaçtır?

- A) 15 B) 18 C) 20

8. Uçak kullanan kişi sayısı tren kullanan kişi sayısından ne kadar fazladır?

- A) 3 B) 4 C) 5

Grafik: Manavda bir günde satılan meyveler.



Not: Her şekil 4 kg meyveyi göstermektedir.

Aşağıdaki 9- 13. soruları grafiğe göre cevaplayınız.

9. En çok satılan meyve hangisidir?

- A) Armut B) Portakal C) Elma

10. En az satılan meyve hangisidir?

- A) Armut B) Muz C) Elma

11. Bir günde kaç kg portakal satılmıştır?

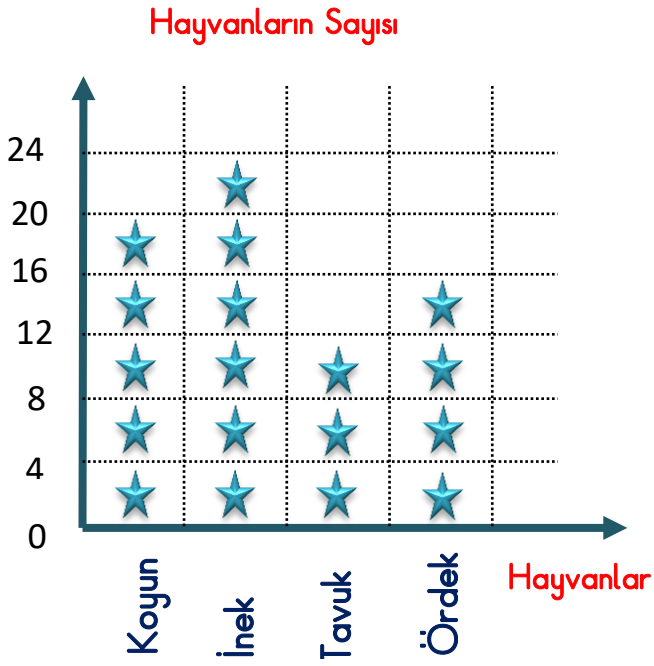
- A) 20 B) 10 C) 5

12. Bir günde toplam kaç kg elma ve armut satılmıştır?

- A) 30 B) 40 C) 50

13. Bir günde satılan muz miktarının, satılan portakal miktarına eşit olması için kaç kg muz satılmalıdır?

- A) 2 B) 4 C) 8



Her ★ 4 hayvanı göstermektedir.

Aşağıdaki 14 - 19. soruları grafiğe göre cevaplayınız.

14. Çiftlikte kaç tane ördek vardır?
A) 4 B) 16 C) 24
15. Çiftlikteki ineklerin sayısı ördeklerin sayısından ne kadar fazladır?
A) 2 B) 16 C) 8

16. Çiftlikte yer alan tavuk ve koyunların toplam sayısı kaçtır?

A) 32 B) 36 C) 40

17. Çiftlikte toplam kaç hayvan vardır?

A) 68 B) 72 C) 80

18. Çiftliğe kaç tane daha tavuk gelirse tavukların sayısı ineklerin sayısına eşit olur?

A) 12 B) 10 C) 8

19. Grafiğe "Çiftlikte 28 kaz vardır." verisi eklenecektir.

Buna göre kaz için kaç şekil eklenecektir?

A) 28 B) 8 C) 7