

TÜRKÇE TESTİ

1) Yanda verilen görseldeki hayvanın ismindeki ünlü ve ünsüz harf sayısı hangi seçenekte doğru olarak verilmiştir?



	Ünlü	Ünsüz
a)	3	4
b)	4	3
c)	1	4



Emre



Emine



Emrah



Emir

Öğretmen, "Sözlük sırasına göre ismi en son yazılan öğrenci hikayeyi okuyacak." diyerek derse başladı.

2) Yukarıda verilen bilgilere göre hikayeyi hangi öğrenci okuyacaktır?

- a) Emir b) Emre c) Emrah



Hafta sonu ailem ile birlikte dedemin köyüne gideceğim. Meyve bahçelerini gezip, koyunları ve keçileri seveceğim. Bağlardan salkım salkım üzüm toplayacağım.

3) Zeynep'in sözlerinde geçen "bağ" kelimesinin anlamı, aşağıdaki cümlelerin hangisinde aynı anlamda kullanılmıştır?

- a) Ayakkabılarımı bağcıkları ince olduğu için bir türlü bağlayamıyorum.
b) Aile bağlarının güçlü olmasına önem veren bir toplumuz.
c) Şu dağın eteğindeki bağda yetişen üzümler çok ekşi oluyor.

4) Yanda bir mesleğin görseli verilmiştir. Bu görseldeki mesleğin tanımı hangi seçenekte doğru verilmiştir?



- a) Bir yerden başka bir yere çok fazla yolcu taşıyan, kanatları yardımı ile yükselip havada ilerleyebilen taşıtı kullanan kişi.
b) Uzayın bilinmeyen yönlerini araştıran ve bunun için uzaya gönderilen uzay mekiklerini kullanan kişi.
c) Asfalt veya engebeli toprak yollarda yapılan otomobil yarışlarında otomobili kullanan kişi.



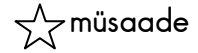
hızlı



izin



yoksul



müsaade

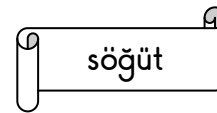


yavaş



fakir

5) Yukarıda, semboller ile gösterilen kelimeler eşleştirildiğinde hangi iki sembolle gösterilen kelimeler zıt (karşıt) anlamlı olur?

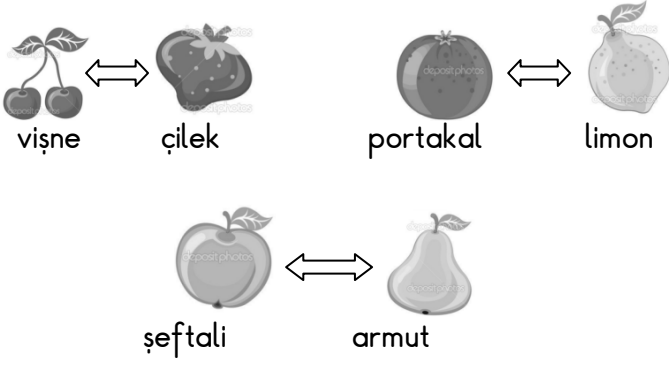


6) Yukarıda karışık olarak verilen kelimelerden anlamlı ve kurallı bir cümle oluşturulmak isteniyor. Buna göre oluşturulan cümlede hangi kelime kullanılmaz?

a) ektik


b) diktik

c) söğüt



7) Aşağıda verilen cümlelerin hangisinde yukarıda verilen görsellere uygun karşılaştırma yapılmamıştır?

- a) Şeftali vücudumuzu hastalıklardan korurken, armut ise farklı olarak kas ve sinir sistemimizi güçlendirir.
- b) Çilek, vişneye göre daha tatlı olan bir meyvedir.
- c) Portakal ve limonda vücudumuz için gerekli olan C vitamini vardır.



Kitap okumayı çok seviyorum çünkü

.....

8) Yukarıda Gamze'nin kitap okuma ile ilgili düşüncesi yarım bırakılmıştır. Gamze'nin cümlesi aşağıdakilerden hangisi ile tamamlanırsa anlamlı ve doğru olur?

- a) yapacak başka işim gücüm yok.
- b) büyüdüğüm zaman yazar olmak istiyorum.
- c) oyun oynayacak oyuncuğım kırıldı.



1. Sulu boya kutusunun kapağı açılır.
2. Fırça önce boyaya, sonra kağıda sürülür.
3. Fırça alınır ve ıslatılır.

Karagöz, sulu boya kullanarak resim yapmak istiyor fakat sulu boyayı nasıl kullanacağını bilmiyor.

9) Yukarıda Karagöz'ün sulu boya ile resim yapma aşamaları karışık olarak verilmiştir. Buna göre doğru sıralama nasıl olmalıdır?

- a) 3 - 2 - 1
- b) 2 - 3 - 1
- c) 1 - 3 - 2

Eski zamanlarda memleketimizde bayramlar daha bir neşeye ve sevinçle kutlanırdı. İnsanlar bir araya gelir, büyüklerin elleri öpülürdü. Aile fertleri birbirleri ile bayramlaşarak aralarındaki samimiyet güçlenirdi. Ama günümüzde herkes kendi evine çekilerek sessizce hayatını devam ettiriyor.



10) Yukarıda Anıl'ın düşüncelerini içeren bir paragraf verilmiştir. Paragrafta altı çizili kelime paragrafta nasıl bir anlam katmıştır?

- a) Bayramlarda yapılanların iyiden kötüye doğru gittiğini ifade etmiştir.
- b) Bayramların günümüzde daha iyi kutlandığını ifade etmiştir.
- c) Bayramların hiç değişmediğini ifade etmiştir.



Dün oyun oynarken düşüp dizimi yere vurmuştum. Dün dizim çok acıyordu ancak bugün çok iyiyim.



Geçen hafta hava soğuktu. Çok kar da yağmıştı. Ancak bu hafta hava daha da soğuk olacakmış. Yetkililer don olaylarına karşı insanları uyardı.



Kış mevsiminde Karasu çok can sıkıcıdır. Kimsecikler yoktur. Ancak yaz mevsimi gelip havalar ısınmaya başladığında buralar bir başka güzel oluyor.

11) "Ancak" kelimesi hangi öğrencinin cümlesinde anlatılan durumun daha da artacağını ifade etmek için kullanılmıştır?

a)



b)



c)





Benim ismim Ayhan. Dün kütüphaneden aldığım kitabı çok beyendim.



Benim ismim Asuman. Sınıfımızdaki kitaplıktan aldığım şiir kitabı çok güzeldi.



Benim ismim Aslı. Kitap okumak, bir konu hakkında farklı düşünmemizi sağlar.

12) Yukarıda verilen öğrencilerden hangisinin söylediği cümlede yazım yanlışı yapılmamıştır?

- a) Aslı b) Asuman c) Ayhan



LEYLEK İLE TILKI

Bir gün tilki ile leylek arkadaş olmaya karar vermişler. Tilki, leyleği evine misafir olarak davet etmiş. Evine gelen leyleğe geniş bir tabakta yemek ikram etmiş. Kendisi tabaktan yemeği kolayca yerken leylek ise aç kalmış.

Başka bir gün ise leylek, tilkiyi evine davet etmiş. Leyleğin amacı, tilkiye güzel bir ders vermiş. İnce uzun bir kap içinde tilkiye yemek ikram etmiş. Leyleğin kendisi kolayca yemeğini yemiş. Tilkinin ağız, dar kaba sığmadığı için bu sefer tilki aç kalmış.

Tilki, yaptığı hatanın farkına varmış. Bir daha evine davet ettiği misafire böyle davranmaması gerektiğini anlamış. Artık davet ettiği misafirlere, onların rahat yiyebileceği kaplarla yemek ikram etmiş.

13) Yukarıda verilen hikaye üç paragraftan oluşmaktadır. Hikayede hangi paragrafı anlatan bir görsel verilmemiştir?

- a) 1.paragraf b) 2.paragraf c) 3.paragraf

Yaşlı bir adamın yedi tane güçlü oğlu varmış. Bunları doyurmak için bir tarlaya ihtiyaçları olmuş. Ancak bir tarafları deniz, bir tarafları dağmış. Ekip biçecek toprakları yokmuş. Küçük oğlan ağabeylerine bir fikir vermiş. Hep birden el ele vererek dağı denize itmişler. Açılan düzlüğü tarla yapmışlar. Tarlaya buğday ekmiş, bol yiyeceğe kavuşmuşlar.

14) Yukarıda verilen hikayede asıl anlatılmak istenen düşünce aşağıdakilerden hangisidir?

- a) Tarlayı bulduğumuz zaman hemen buğday ekmeliyiz.
b) İnsanların birbirlerine yardım etmesine gerek yoktur.
c) İnsanlar el ele verirlerse ve birbirlerine yardım ederlerse yenemeyecekleri zorluk yoktur.

Aslanın biri uyuyormuş. Bir fare gelip vücudunun üzerinde dolaşmaya başlamış. Aslan uyanmış, fareyi yakalamış. Ama fare başlamış yalvarmaya:

- Bırak beni, gün olur, benim de sana bir iyiliğim dokunur, demiş.

Aslan gülmüş bu söze. Gene de bırakmış fareyi. Aradan zaman geçmiş. Bir gün aslan, avcılarının kurduğu tuzağa düşmüş. Gelmişler, onu bir ağaca sımsıkı bağlamışlar.

Fare, aslanın inlemelerini duymuş, koşarak gelmiş. İpleri kemirip aslanı kurtarmış. Bunun üzerine de:

- Vaktiyle sen bana gülmüştün. Benden bir hayır beklemiyordun. Ama gördün ya, fareler de iyilik bilir. Onların da bir yardımı dokunabilir. demis.

15) Yukarıda verilen hikayede asıl anlatılmak istenen düşünce aşağıdakilerden hangisidir?

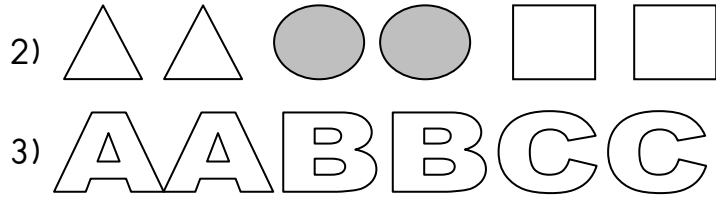

- a) Fareler, iyiliği unutmayan hayvanlardır.
b) Gün gelir, en güçlüler bile güçsüzlere muhtaç olur.
c) Başkalarını rahatsız etmek doğru değildir.

MATEMATİK TESTİ

1) Yanda verilen pencerenin camları yenileri ile değiştirilmek isteniyor. Buna göre hangi geometrik şekilden kaç tane cama ihtiyaç vardır?

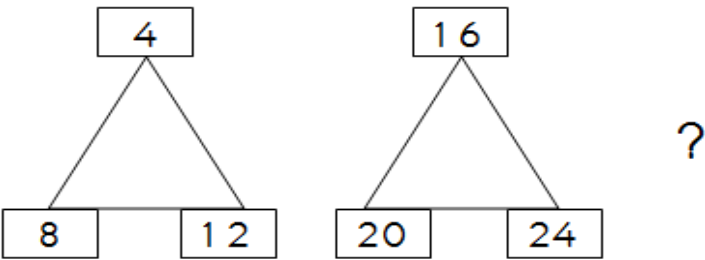


- a) Üçgensel bölge şeklinde 4 tane cama ihtiyaç vardır.
b) Karesel bölge şeklinde 4 tane cama ihtiyaç vardır.
c) Dikdörtgensel bölge şeklinde 2 tane cama ihtiyaç vardır.

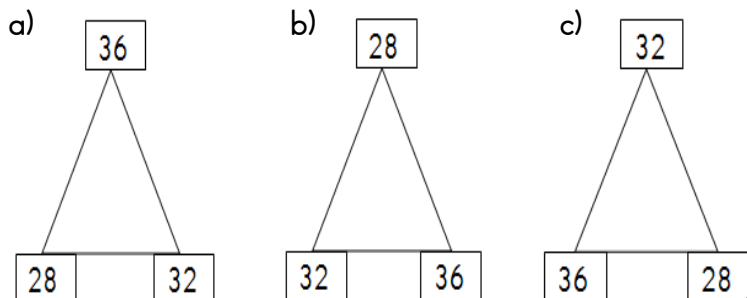


2) Yukarıda verilen varlık ve şekiller belli bir kurala göre dizilerek örüntü oluşturmuşlardır. Buna göre hangi örüntülerin kuralı birbiri ile aynıdır?

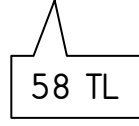
- a) 1 ve 2 b) 1 ve 3 c) 2 ve 3



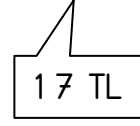
3) Yukarıda verilen örüntüde üçüncü adım ile gösterilen " ? " olan yere aşağıdakilerden hangisi yer almaktadır?



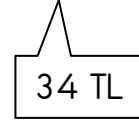
çanta



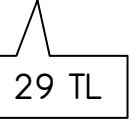
kalem



kitap



defter



4) Yukarıda bir öğrencinin kullanacağı ders araç gereçleri ve bunların fiyatlarını gösteren etiketler verilmiştir. Buna göre aşağıda verilen ifadelerden hangisi yanlıştır?

- a) Bir adet kalem ve iki adet kitap alan Hasan, toplam 85 TL öder.
b) Bir adet kitap ve bir adet defterin toplam fiyatı, bir adet çantanın fiyatından daha ucuzdur.
c) Ders araç gereçlerin her birinden birer tane alan Esra, tahminen 140 TL öder.



Ahmet
82 cm



Semra
79 cm



Akif
97 cm



Onur
80 cm


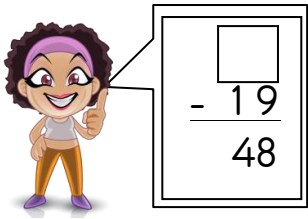
5) Yukarıdaki çocuklar boy uzunluklarına göre en kısıdan en uzuna doğru sıralanmak istiyorlar. Buna göre doğru sıralama nasıl olmalıdır?

- a) Ahmet – Semra – Akif – Onur
b) Akif – Semra – Ahmet – Onur
c) Semra – Onur – Ahmet – Akif

$$\begin{array}{r} 23 \\ \times 2 \\ \hline \dots \end{array} \quad \begin{array}{r} \dots \\ + 15 \\ \hline \dots \end{array} \quad \begin{array}{r} \dots \\ - 29 \\ \hline \dots \end{array} \quad \begin{array}{r} \dots \\ \times 3 \\ \hline \dots \end{array} \quad \text{A}$$

6) Yukarıda verilen işlemler ok yönünde yapılırsa "A" yerine hangi sayı yazılmalıdır?

- a) 76 b) 96 c) 144



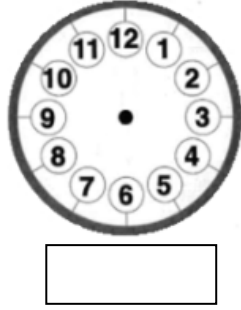
7) Yukarıda, Hatice ve Hüseyin'in yaptığı işlemlerde verilmeyen terimler vardır. Hatice ve Hüseyin'in yaptığı işlemlerden yola çıkarak;

$$\square + \triangle = ?$$

işleminin sonucu kaçtır?

- a) 133 b) 138 c) 143

"Saatin akrebi 6 ile 7 arasında, yelkovanı ise 6'nın üzerindedir. Önce akrep ve yelkovanı çiziniz. Sonra saatin kaç olduğunu altına yazınız. Unutmadan! Zaman öğleden sonradır."





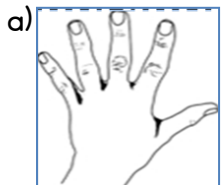
8) Yukarıdaki ifadeleri dikkate alarak saat etkinliğini yapan Zeynep, aşağıdaki sonuçlardan hangisini bulur?

- a) 18.30 b) 06.30 c) 18.00

Abdullah, iş yerinin koridorunun uzunluğunu ölçmek istiyor. Fakat yanında metre getirmediği için standart olmayan ölçme birimleri ile ölçüm yapmak istiyor.



9) Yukarıda verilen ifadelere göre Abdullah'ın, koridorun uzunluğunu ölçmesi için standart olmayan hangi ölçme birimini kullanması doğru olur?



35 litre



14 litre

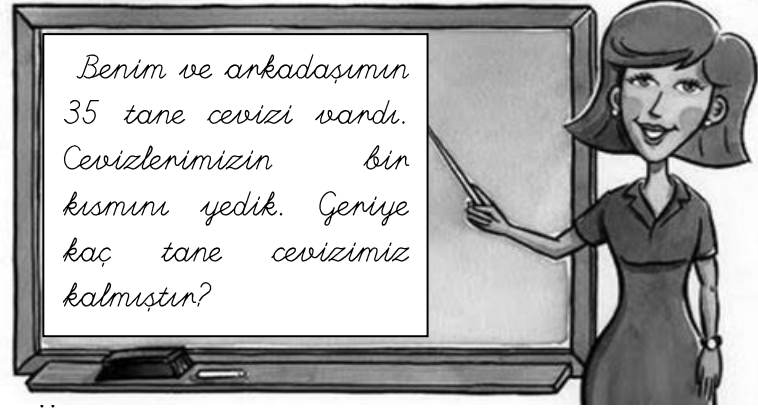


10 litre

Çiftçi Mehmet Bey'in çiftliğindeki her bir inek, koyun ve keçinin günde verdikleri süt miktarları yukarıdaki gibidir.

10) Verilen bilgilere göre bir koyun ve bir keçinin verdiği toplam süt miktarı, bir ineğin verdiği süt miktarından kaç litre azdır?

- a) 11 litre b) 59 litre c) 24 litre



Benim ve arkadaşımın 35 tane cevizi vardı. Cevizlerimizin bir kısmını yedik. Geriye kaç tane cevizimiz kalmıştır?

Öğretmenin tahtaya yazdığı problemi sınıftaki hiçbir öğrenci çözememiştir. Öğrenciler, problemde eksik bilgi verildiğini düşünüyorlardı.

11) Yukarıda verilen ifadelere göre tahtada yazan problemde eksik olan bilgi hangisidir?

- a) Arkadaşında kaç tane ceviz olduğu
b) Yedikleri cevizlerin sayısı
c) Kendinde kaç tane ceviz olduğu



12) Öğleden önce yukarıda gösterilen saatte otobüse binen Emirhan, 7 saat yolculuktan sonra memleketi Artvin'e varmıştır. Buna göre Artvin'e saat kaçta varmıştır?

- a) 15.00 b) 16.00 c) 04.00




13) Yukarıda dikdörtgen şeklindeki bir arsaya kurulmuş çiftlik verilmiştir. Dikdörtgen şeklindeki arsanın kısa kenarı 20 m, uzun kenarı 25 m'dir. Çiftliğin sahibi arsanın etrafına 3 sıra dikenli tel çekmek istiyor. Buna göre kaç m dikenli tele ihtiyacı vardır?

- a) 270 m b) 160 m c) 200 m





14) Rapunzel, 88 cm uzunluğundaki saçlarını düzenli olarak her gün 3 cm kesiyor. Buna göre iki hafta sonunda Rapunzel'in saçları kaç cm olur?


- a) 44 b) 45 c) 46



15) Öğretmen, tahtaya yazdığı çözüme göre problem yazılmasını istiyor. Buna göre aşağıdaki öğrencilerden hangisi bu çözüme uygun problem yazmıştır?

a)  Her birinde 13 kalem olan iki kutu kalem aldım. Arkadaşım da doğum günümde bir deste kalem hediye etti. Toplam kaç kalemim oldu?

b)  13'ün 2 katının 14 eksiği kaçtır?

c)  2 düğmeli 13 paltonun her birine ikişer düğme daha diktik. Paltolardaki toplam düğme sayısı kaç oldu?

HAYAT BİLGİSİ TESTİ



Ders esnasında canım sıkıldığında yanımdaki arkadaşım ile sohbet ederim.




Teneffüslerde arkadaşlarımla oyun oynarken ders zilini duymam. Oyun oynamaya devam ederim.



Yere atılan çöpleri gördüğümde rahatsız olurum. Her zaman kendi çöpümü çöp kutusuna atarım, atmayanları mutlaka uyarırım.

1) Yukarıda verilen öğrencilerin ifadelerine göre hangisi öğrenci okul kurallarına uygun davranışlar göstermektedir?



Ben, Sağlıklı Beslenme Kulübü öğrencisi olarak "Dengeli ve düzenli beslen!" adlı bir proje çalışması yapmaya karar verdim. Amacım; vücudumuz için gerekli ve faydalı besinleri okulumuzdaki öğrencilere tanıtmaktır.

2) Kulüpteki diğer öğrenciler bu proje kapsamında aşağıda verilen çalışmalardan hangisini yapabilirler?

a) Sağlıklı beslenme konusu ailelerin ilgilenmesi gereken bir konu olduğu için projeyi önemsememelidirler

b) Bu proje çalışmasını değerlendirip uygulamak için kimlerden yardım alabileceklerini konuşmalıdırlar.

c) Projeyi uygulamak için okuldaki bütün öğrencilerden para toplamalıdırlar.



3) Yukarıdaki görselde ülkemizin haritası ve üzerine bayrağımızdaki simgeler çizilerek verilmiştir. Buna göre aşağıda verilen bilgilerden hangisi yanlıştır?

- a) Haritayı boyamak isteyen Anıl, hilal ve yıldızı beyaz bırakıp kalan yerleri kırmızıya boyamalıdır.
b) Bayrağımız, vatanımızın ve milletimizin bağımsızlık sembolüdür.
c) Ülkemizin üç tarafı denizlerle çevrili olduğu için hilal ve yıldızı maviye boyamamız gerekir.



12.00
kahvaltı



18.00
akşam yemeği

4) Fatma'nın kahvaltı ve akşam yemeği saatleri yukarıda verilmiştir. Fatma'nın beslenme vakitleri dikkate alınarak aşağıdaki ifadelerden hangisi söylenebilir?

- a) Vücudu için gerekli olan besinleri tükettiği için dengeli beslenir.
b) Öğün atlayarak ve zamana uygun olarak beslenmediği için düzensiz beslenir.
c) 12.00'dan önce spor yaptığı için vücudu sağlıklı ve kuvvetlidir.

Oyun derslerinde oynamak için okula getirdiğim topumu arkadaşlarım benden izinsiz olarak teneffüslerde sürekli oynuyorlar. Onlara, teneffüste değil oyun dersinde oynamamız gerektiğini defalarca söylememe rağmen beni dinlemiyorlar. En sonunda topumun patladığını öğrendiğimde çok sinirlenmişim.



5) Ertuğrul'un bu durumda aşağıdakilerden hangisini yapması doğru olacaktır?

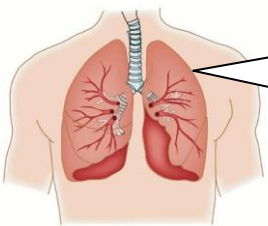
- a) Topunu patlatan arkadaşlarıyla kavga edip sinirinin geçmesini sağlamalıdır.
- b) Topu patladığı için bir köşeye geçip ağlamalıdır.
- c) Yüzünü yıkamalı ve bir yere oturarak sakinleşmeli, ne yapması gerektiğini düşünmelidir.



Öğretmenimiz ailemizden çalışan bir kişinin mesleği hakkında bilgi toplamamızı istedi. Ben de annem ile mesleği hakkında bir görüşme yaptım. Annem çocukluğunda elektronik eşyalara ilgi duyar, matematik dersini de çok severmiş. Televizyon ve radyo gibi aletlerin nasıl çalıştığı ile ilgili araştırmalar yaparmış.

6) Erol'un yaptığı görüşmeye göre annesinin mesleği aşağıdakilerden hangisi olabilir?

- a) bilgisayar mühendisi
- b) ressam
- c) öğretmen



Kalbin bize pompaladığı kirli kanı temizler, nefes almanızı sağlarız.

7) Yukarıda kendisini tanıtan organın ismi hangisidir?

- a) kalp
- b) bağırsaklar
- c) akciğerler

Orhan, derslerindeki başarıyı yükseltmek için kendisine haftalık plan yapmak istiyor.



8) Orhan, haftalık plan yaparken aşağıdakilerden hangisine dikkat etmelidir?

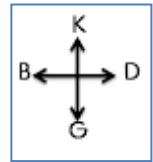
- a) Her sabah erken kalkmaya ve oyun saatlerinin çok olmasına
- b) Kardeşinin uyku saatine
- c) Ders çalışma, dinlenme, yemek saatlerinin dengeli olmasına

Küçüklüğümden beri işitme engelli insanların duyması ve konuşması için çalışmalar yapmayı çok istedim. Bunu başaramamış olabilirdim fakat icat ettiğim telefon sayesinde birbirinden çok uzakta olan insanların iletişim kurmasını sağladım.



9) Yukarıda verilen ifadelerle göre telefonu icat ederek topluma fayda sağlayan bilim adamı kimdir?

- a) Thomas Edison
- b) Louis Pasteur
- c) Alexander Graham Bell



10) Yukarıda Murat'ın evinin planı verilmiştir. Bu plana göre aşağıdakilerden hangisi söylenebilir?

- a) Murat'ın odası ve yatak odası doğuda, salon kuzeydedir.
- b) Mutfak ve Murat'ın odası kuzeyde, yatak odası ve banyo güneydedir.
- c) Salon ve banyo kuzeyde, Murat'ın odası ve yatak odası doğudadır.



İzzet

Serkan, bugün okula gitmeyelim. Bildiğim çok güzel bir oyun salonu var. Okul zamanında kalabalık olmadığı için rahat rahat oyun oynarız. Gelmezsen seninle konuşmam.

İzzet, ben seni severim. Benim dostumsun fakat seninle küsmek istemem.



Serkan

11) İzzet ve Serkan arasında verilen konuşmaya göre bu durumda Serkan nasıl davranmalıdır?

- Arkadaşının kendisine küsmemesi için öneriyi kabul etmelidir.
- Böyle bir öneri karşısında arkadaşıyla bir daha konuşmamalıdır.
- Nazikçe arkadaşının önerisini reddetmeli, ona bu davranışın yanlış olduğunu söylemelidir.



Benim ismin Mahmut. Geçen gün öğretmenimizin verdiği ödevi hasta olduğum için yapamamıştım. Öğretmenime ödevimi neden yapmadığımı açıkladım.




Benim ismin Semih. İlçe kütüphanesinden aldığım kitabı okumadığım için zamanında teslim etmedim.



Benim ismin Ozan. Dün akşam ailem ile birlikte misafirlğe gittiğim için geç yattım. Öğretmenime okula neden geç kaldığımı açıkladım.


12) Yukarıda verilen öğrencilerin ifadelerine göre hangi öğrencinin davranışı güven kaybettirir?

- Mahmut
- Semih
- Ozan



Güneş'in battığı yön

1:



Güneş'in doğduğu yön

2:

13) Yukarıda verilen 1 ve 2 numaralı noktalı yerlere hangi ifadeler yazılmalıdır?

- | | 1 | 2 |
|----|------|-------|
| a) | batı | doğu |
| b) | batı | kuzey |
| c) | doğu | batı |



Babam telefonla konuşuyordu. "Üzülme! Daha sonraki sınavlarında düzenli ve planlı çalışırsan başarılı olursun." dedi.

14) Menekşe'nin babası, ablasını görmediği halde onun üzüldüğünü hangi duyu organı ile anlamıştır?

-
-
-

Yıl içinde kutladığımız milli ve dini bayramlarımız vardır. Ramazan Bayramı ve Kurban Bayramı dini bayramlarımızdır. Dini bayramlarımız;

- Sevgi, saygı ve dayanışma içinde kutlanır.
- İnsanlar arasında yarışa sebep olur.
- Tüm müslümanların kutladığı bayramlardır.

15) Yukarıda dini bayramlarımız ile ilgili verilen numaralandırılmış bilgilerden hangileri doğrudur?

- 1 ve 2
- 2 ve 3
- 1 ve 3