






## Okulda Ne Kadar Para Harcıyorum?

Pazartesi	
Salı	
Çarşamba	
Perşembe	
Cuma	

1. Yukarıdaki tabloda en çok para harcanan gün hangisidir?

.....

2. Yukarıdaki tabloda en az para harcanan gün hangisidir?

.....

3. Yukarıdaki tabloda Cuma günü toplam ne kadar para harcanmıştır?

.....

4. Yukarıdaki tabloda Salı günü toplam ne kadar para harcanmıştır?

.....

5. Yukarıdaki tabloda Perşembe günü toplam ne kadar para harcanmıştır?

.....

6. Pazartesi ile Perşembe günü toplamı ne kadar para harcanmıştır?

.....

7. Salı günü, Perşembe gününden ne kadar fazla para harcanmıştır?

.....