

1. Aşağıda verilen bilgilerden hangisi yanlıştır?
- A) Bisiklet kullanırken kask ve dizlik takmalıyız.
B) Oyun parkları güvenli oyun alanlarıdır.
C) Sokaklarda oyun oynayabiliriz.

2. 9 yaşındaki Yusuf'un 3 günlük öğle yemeği listesi aşağıda verilmiştir.

Pazartesi	Salı	Çarşamba
Mercimek çorbası Balık Salata	Makarna Patates cipsi Ekmek	Kuru fasulye Pilav Elma

Buna göre Yusuf hangi gün ya da günlerde dengeli beslenmiştir?

- A) Pazartesi B) Salı
C) Pazartesi ve çarşamba



3. Aşağıdakilerden hangisi yukarıda verilen kavramı olumsuz etkiler?
- A) Evde klima çalışırken camları açmak.
B) Oturmadiğimiz odaların ışıklarını kapatırım.
C) Bozuk olan musluğu yaptırmak.

4.



Ramazan yolda yürürken resimdeki olaya tanık oluyor.

Ramazan'ın aşağıda verilen acil durum numaralarından hangisini aramasına gerek yoktur?

- A) 112 B) 155 C) 122

Toplu taşıma araçlarına önden binip arkadan inmeliyiz.
Yakın bir yere giderken emniyet kemeri takmamıza gerek yoktur.
Çocuklar araçta ön koltuğa oturmamalıdır.
Toplu taşıma araçlarının durduğundan emin olduktan sonra binmeliyiz.

5.

Yukarıdaki tabloda doğru olanlara "D" yanlış olanlara "Y" yazarsak tablonun görünümü nasıl olur?

A) <table border="1"><tr><td>D</td></tr><tr><td>Y</td></tr><tr><td>D</td></tr><tr><td>D</td></tr></table>	D	Y	D	D	B) <table border="1"><tr><td>D</td></tr><tr><td>D</td></tr><tr><td>Y</td></tr><tr><td>D</td></tr></table>	D	D	Y	D	C) <table border="1"><tr><td>Y</td></tr><tr><td>D</td></tr><tr><td>Y</td></tr><tr><td>D</td></tr></table>	Y	D	Y	D
D														
Y														
D														
D														
D														
D														
Y														
D														
Y														
D														
Y														
D														

Islak elle prize dokunulmayacak.

Yatmadan önce kömürlü sobalar kapatılacak.

Ocaktaki yemeğe dikkat edilecek.

Yanma

Elektrik çarpması

Zehirlenme

6.

Yukarıda ev kazalarını önleme kuralları ve uyulmazsa oluşabilecek sonuçlar yer almaktadır.

Buna göre kural - sonuç eşleşmesi aşağıdakilerin hangisinde doğru olarak verilmiştir?

A)	B)	C)
----	----	----

Uzayan tırnaklarımı keserim	Grip olmuş arkadaşşıma sarılıp onu öperim.
Hastalandığımda evdeki ilaçlardan kullanabilirim.	Mevsimine uygun beslenirim.

7.

Yukarıdakilerden kaç tanesi sağlığını olumsuz etkiler?

- A) 1 B) 2 C) 3

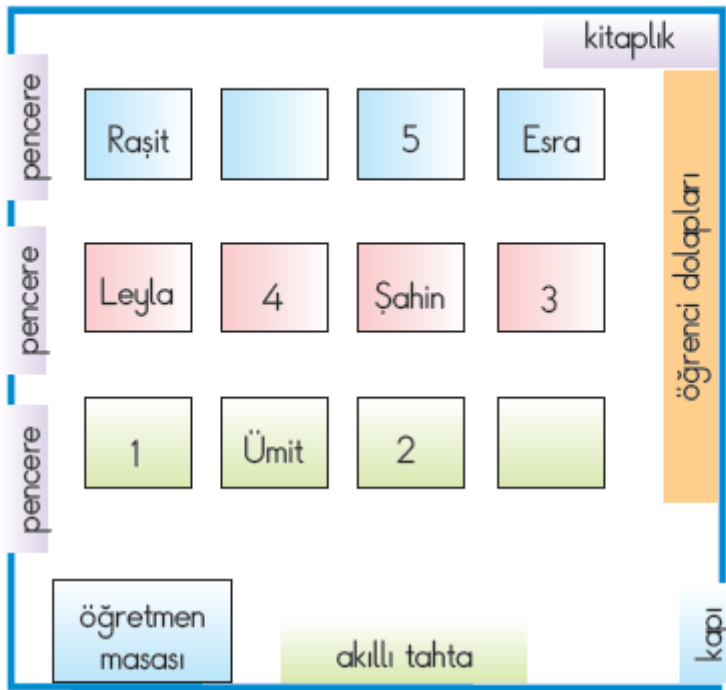
8. **Şahan** Acil durumlarda yardım isteyebileceğimiz telefon numaralarını gereksiz yere aramamalıyız.

Mehmet Acil durumlarda ailemize ulaşmak için sadece babamızın telefon numarasını ezberlemeliyiz.

Sezer Karşılaştığımız acil durumlarda sessizce olayı izlemeliyiz ya da saklanmalıyız.

Yukarıdaki çocuklardan hangisinin söylediği doğrudur?

- A) Şahan B) Mehmet C) Sezer



9. Yukarıda 2/ E sınıfına ait kroki verilmiştir.

İsmail, kapıdan girişteki ilk sıranın arkasındaki sırada oturmaktadır. Buna göre İsmail kaç numaralı sırada oturuyordur?

- A) 3 B) 2 C) 1

Sağlığımızı korumak için;

1. Evimizi temiz tutmalı.
2. Çöpleri yere atma
3. Oyun alanlarını temiz tutmalı.
4. Atıkları denize atmalı.

ifadelerinden hangileri doğru **değildir**?

- A) 2 ve 4 B) 1 ve 3 C) 2, 3 ve 4

11. Toplu taşıma araçlarıyla ilgili verilen bilgilerden hangisi **yanlıştır**?

- A) Ön kapıdan inilip arka kapıdan binmeliyiz.
B) Aracın durduğundan emin olduktan sonra binmeliyiz.
C) Yaşlı, hasta ve hamilelere yer vermeliyiz.

12.

Toplu taşıma araçlarında uymamız gereken kurallar nelerdir?

Öğretmenin sorduğu soruya hangi öğrenci **yanlıs** cevap vermiştir?

- A) **Leyla**: Arkadan binip, önden inmeliyiz.
B) **Ahmet**: Aracın durduğundan emin olduktan sonra inmeli ve binmeliyiz.
C) **Asmin**: Toplu taşıma araçlarını temiz bırakmalıyız.

13.

- Haftaya pazar günü bir akrabamızın düğününe gideceğiz.
Kuzenim Menasa'nın doğum günü için hediye alacağım.
Dün akşam, ninemi hastaneye ziyarete gittik.

Yardımlaşma ve dayanışmayı ifade eden cümlelere ait semboller aşağıdakilerden hangisidir?

- A) B) C)

14.



Krokiye göre aşağıdakilerden hangisi **yanlıştır**?

- A) Zafer Caddesi üzerinde hastane vardır.
B) Müze ve park Zafer Caddesi üzerindedir.
C) Banka ile okul karşılıklıdır.

15.

Bak şu kız sınıfımıza yeni geldi, adı Ezgi. Yüzü çillerle kaplı, ürkütücü görünüyor ama çalışkan ve iyi bir kız. Onu çok sevdim. Ben-
ce dış görünüşü önemli değil.



Yukarıdaki konuşmayla ilgili aşağıdaki ifadelerden hangisi **doğrudur**?

- A) Ezgi'nin diğer öğrencilerden farklı bir görünüşü yoktur.
B) Ezgi'yi sınıftan dışlayıp alay etmişlerdir.
C) Ezgi'nin farklılığının doğal olduğunu kabul etmişlerdir.

İHTİYAÇLARIMIZ	İSTEKLERİMİZ
 1	 6
 2	 7
 3	 8
 4	 9
 5	 10

16. Yukarıdaki tabloda istek ve ihtiyaç resimlerinden hangileri yanlış yerleştirilmiştir?

- A) 1 3 6 7 8
B) 2 4 5 7 8
C) 1 3 8 9 10

17.

Yazın sağlıklı sebze ve meyve tüketmek isteyen İbrahim hangi seçenektekileri tüketmelidir?

- A) karpuz - domates
B) armut - brokoli
C) pırasa - üzüm

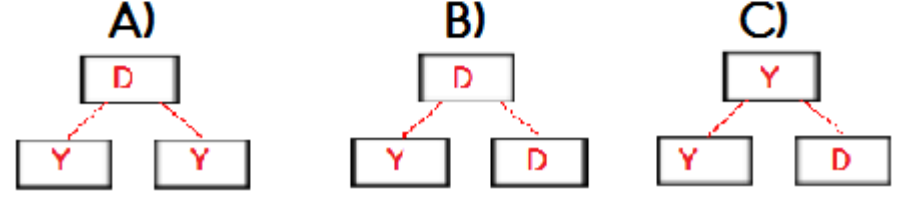
18.

Zamanımızı planlarsak sorumluluklarımızı zamanında yaparız.

Zamanımızı planlarsak oyun oynamak için daha çok vaktimiz olur.

Zamanını planlayan çocuk geç yatıp geç kalkar.

Yukarıdaki şemada doğru olanlara "D" yanlış olanlara "Y" yazarsak tablonun görünümü nasıl olur?



19.




- * Tuvaletten çıkınca ellerimi yıkarım.
- * Meyve ve sebzeleri yıkamadan yemem.
- * Günde iki kez dişlerimi fırçalarım.

Asmin bir konu hakkında yukarıdaki konuşmaları yapmıştır. Buna göre Asmin hangi konu hakkında konuşma yapmıştır?

- A) Dengeli beslenme
B) Sağlıklı yaşam
C) Büyüme ve gelişme

20.

Aşağıdaki çocuklardan hangisinin sağlıklı beslendiği söylenebilir?



A) Açıkta satılan yiyeceklerden tüketmem.



B) Geç yatıp geç kalkarım.



C) Sevdiğim yiyecekleri daha çok tüketirim.

21.

Aşağıda verilen bilgilerden hangisi **yanlıştır**?

- A) Babam, amcam ve halam kardeşlerdir.
B) Annem, teyzem ve dayım kardeşlerdir.
C) Dayım, amcam ve teyzem kardeşlerdir.

22. Aşağıdakilerden hangisi hastanede gerçekleşmez?

- A) Muayene olmak
- B) Röntgen çektirmek
- C) İlaçları satın almak

Adres bilgilerimizi verirken aşağıdakilerden hangisini söylememize gerek yoktur?

- A) Ev telefonu
- B) Mahalle adı
- C) Kapı numarası

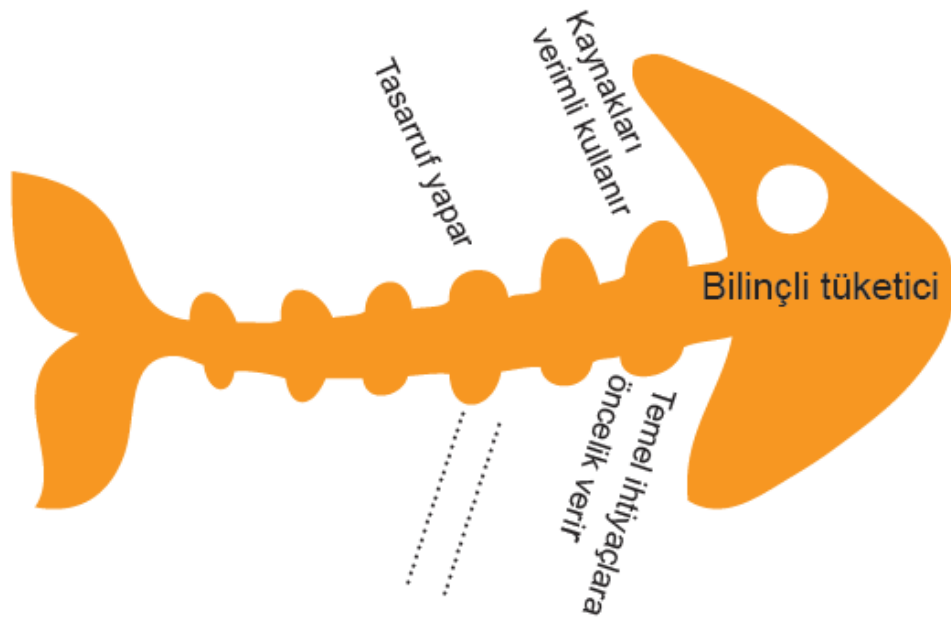
23. Aşağıdaki bilgilerden hangisi yanlıştır?

- A) Mevsimine uygun sebze ve meyve tüketmeliyiz.
- B) Çilek her mevsim tüketilmelidir.
- C) Meyve ve sebzeleri yemeden önce yıkamalıyız.

24. Birgül'ün yaşadığı mahallede onarım ve bakım çalışmaları yapılacağı için elektriklerin iki gün kesileceği duyuruldu.

Buna bağlı olarak Birgül'ün evi ve mahallesinde aşağıdaki durumlardan hangisinin yaşanması beklenir?

- A) Okullar tatil edilir.
- B) Belediyenin otobüs seferleri iptal edilir.
- C) Buzdolabındaki yiyecekler bozulur.



25. Bilinçli bir tüketici için balık kılçığına aşağıdakilerden hangisi yazılmamalıdır?

- A) Önce isteklerini sonra ihtiyaçlarını alır.
- B) Aile bütçesine göre alışveriş yapar.
- C) Okuldaki ve evdeki kaynakları kullanırken dikkatli ve özenli davranır.

- Su , elektrik ve doğal gaz gibi kaynakları bol bol tüketmeliyiz.
- Bireylerin boyu ,kilosu , saç ve göz rengi fiziksel özelliklerimizden bazılarıdır.
- Oyundan önce oyun kuralları belirlenmelidir.
- Bireysel farklılıklara karşı saygılı olmalıyız.

26.

Yukarıda verilen bilgilerden kaç tanesi doğrudur?

- A) 2
- B) 3
- C) 4

	Karnı aç olan sofraya önce oturup yemeğe başlayabilir.
	Yemeği hızlı hızlı yemeliyiz.
	Yemekten önce ve sonra ellerimizi yıkamalıyız.
	Tabağımıza yiyebileceğimiz kadar yemek koymalıyız.

27.

Yukarıdaki tabloda doğru olanlara " D " yanlış olanlara " Y " yazarsak görünüm nasıl olur?

- A)

Y
Y
D
D

 B)

Y
D
D
Y

 C)

D
Y
D
D

28.

Aşağıdakilerden hangisi grup çalışmalarının yararlarından değildir?

- A) Sorumluluk duygusunu geliştirir.
- B) Yeteneklerimizi geliştirir.
- C) Bencillik duygumuzu geliştirir.

29.

- Senin olsun
- Lütfen
- Kolay gelsin
- Geçmiş olsun
- Git başımdan

Yukarıdaki ifadelerden kaç tanesi nezaket ifadesidir?

- A) 2
- B) 3
- C) 4