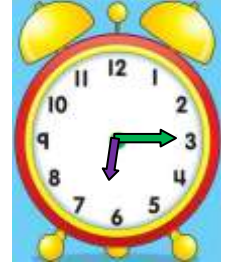
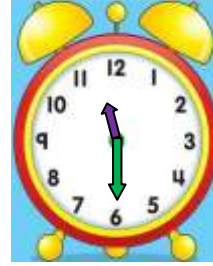
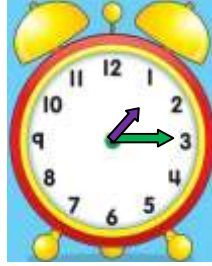
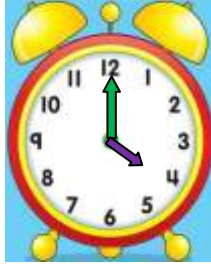
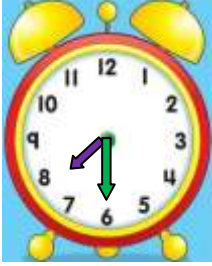


TAM - YARIM - ÇEYREK SAATLERİN OKUNUŞU VE GÖSTERİLİŞİ 3

- Aşağıda okunuşları verilen ifadeleri uygun saat modelleriyle eşleştiriniz.



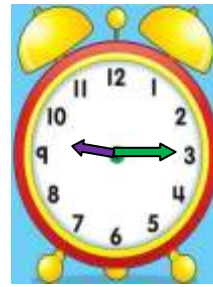
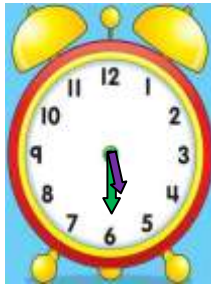
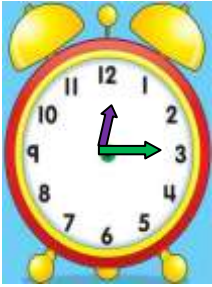
On bir buçuk

Altıyı çeyrek geçiyor

Biri çeyrek geçiyor

Yedi buçuk

Saat dört



Dokuzu çeyrek geçiyor

Saat bir

On ikiyi çeyrek geçiyor

Altı buçuk

Beş buçuk

İskender07

- Aşağıda verilen dijital saatleri, analog saatlere akrep ve yelkovan kullanarak çiziniz.



02.30

11.15

08.00

10.30

07.15

İskender TAŞ