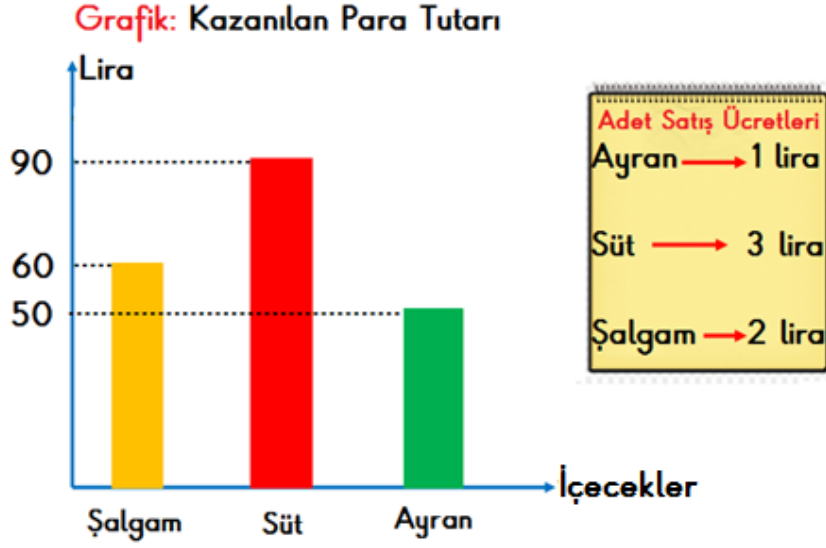


Aşağıda verilen grafikte okul kantininde salı günü satılan içeceklerden kazanılan para tutarları verilmiştir.



1.ve 2.soruları yukarıdaki grafiğe göre cevaplayınız.


1. Salı günü kantinde toplam kaç tane içecek satılmıştır?

- A) 200      B) 120      C) 110

2. Grafikle ilgili aşağıdaki bilgilerden hangisi yanlıştır?

- A) Satılan şalgam sayısı ile süt sayısı eşittir.  
B) En fazla satılan içecek ayrandır.  
C) İçecekler onarlı paketlenmek istenirse toplam 10 adet pakete ihtiyaç vardır.

3.




Annem bana ördüğü kazağın her gün  $\frac{3}{18}$ 'ünü bitiriyor.

Annem kazağı cumartesi günü örmeye başladığına göre , kazağı hangi gün bitirmiştir?

- A) Çarşamba      B) Perşembe      C) Cuma

4.



Yukarıda verilen şekil birim karelerden oluşmuştur.

Leyla şeklin bir kısmını maviye boyamıştır. Leyla şeklin kaçta kaçını daha maviye boyarsa tüm şeklin yarısını boyamış olur?

- A)  $\frac{1}{5}$       B)  $\frac{5}{20}$       C)  $\frac{5}{30}$

RECEP ALPTEKİN

5.



Yukarıda verilen musluk su deposunun altında birini yarım saatte doldurmaktadır. Recep tamamen boş olan su deposunu doldurmak için musluğu saat 9.30'da açmıştır. Su deposu saat kaçta dolmuştur?  
A) 12:00      B) 12:30      C) 13:00

6.



Dün gece Mersin'den 22:30 'da otobüse bindim. Altı buçuk saat sonra Ankara'ya vardım.

Emre saat kaçta Ankara'ya varmıştır?

A)

B)

C)

5:00

5:30

4:30



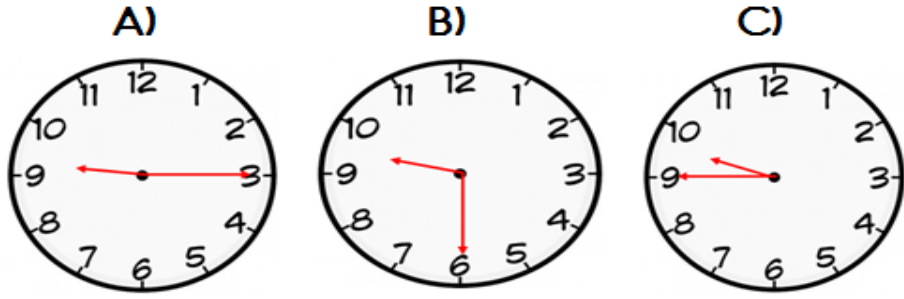
7.

Bir futbol maçı 90 dakika oynanmaktadır. Maç arasında 15 dakika mola verilmektedir.



Fenerbahçe- Beşiktaş maçı yirmiye çeyrek kala başladı.

Yukarıda verilen bilgilere göre maç saat kaçta bitmiştir?



8.

Hasan'ın kullandığı cep telefonu operatörünün aylık konuşma ücreti aşağıdaki gibidir;

İlk 500 dakikalık konuşma için ödenecek ücret	500 dakikalık konuşmadan sonra ödenecek ücret
30 lira	Her 5 dakika için 2 lira ödenecek.

Hasan, mart ayında 560 dakika konuştuğuna göre kaç lira fatura öder?

- A) 44      B) 54      C) 64

9.



Pastayı abimle 2 eşit parçaya bölüp kendi payıma düşen pastayı 4 eşit parçaya bölüp 1 tanesini yedim.



Gamze

Gamze'nin yediği pasta tüm pastanın kaçta kaçtır?

- A)  $\frac{1}{4}$       B)  $\frac{1}{6}$       C)  $\frac{1}{8}$

10.



Hatice Hanım, pişirdiği yemeği fırından yukarıda verilen saatte çıkarmıştır.

Hatice Hanım; 30 dakika hazırlama ve 45 dakika pişirme işlemi yaptığina göre yemeği yapmaya saat kaçta başlamıştır?

- A) 13:30      B) 13:45      C) 13:50

11.

$$\begin{array}{r} 71 \\ 9 \overline{) 71} \end{array}$$

Yandaki bölme işleminin terimleri ile ilgili aşağıdakilerden hangisi doğrudur?

- A) Bölünen > Bölüm > Bölen > Kalan  
B) Bölüm < Kalan < Bölen < Bölünen  
C) Kalan < Bölüm < Bölen < Bölünen

RECEP ALPTEKİN

12.

Mayıs ayı ilkbahar mevsiminin aylarından biridir.
3 dakika 20 saniye, 190 saniye yapar.
6 hafta 3 gün, 44 gün yapar.
Bir günün 12 saat 15 dakikası gündüz ise 11 saat 45 dakikası gecedir.

Tabloda yer alan ifadelerden doğru olanlara " D " yanlış olanlara " Y " yazılırsa hangi seçenek doğru olur?

- A) 

D
Y
Y
D


      B) 

D
Y
D
Y

      C) 

Y
D
Y
D

13.



Yukarıda verilen sayı doğrusu ile ilgili verilen bilgilerden hangisi yanlıştır?

- A) Birim kesiri " birde dokuzdur"  
B) Sayı doğrusunda ok ile gösterilen kesir " dokuzda yedidir"  
C) Sayı doğrusu dokuz tane birim kesirden oluşmuştur.

