

## MATEMATİK TEKRAR ÇALIŞMASI 1



$31$	$4$	$75$	....	$18$	$94$
$- \dots$	$+ 58$	$- 19$	$- 44$	$- 4$	$- \dots$
$26$	....	....	$20$	....	$44$
$10$	....	....	$45$	$34$	....
$+ 76$	$- 6$	$- 32$	$+ \dots$	$+ 49$	$+ 47$
....	$83$	$56$	$83$	....	$82$

En yakın onlukları boyayın.

44	75	84	96				
40	50	70	80	80	90	90	100

"<",">","=" işaretlerinden uygun olanı yazın.

$51 \dots 87$	$9 \dots 9$	$42 \dots 90$
$68 \dots 68$	$93 \dots 93$	$77 \dots 12$

Sayıları büyükten küçüğe sıralayın. (Sembolle)

92, 65, 73, 23, 99

16 Basamak Adı Basamak Değeri

$\rightarrow$	.....	.....
$\rightarrow$	.....	.....

$$\dots - 4 = 12 - 1$$

$$7 + 13 = \dots + 6$$

$$1 + 5 = 12 - \dots$$

$$\dots + 8 = 5 + 5$$

Gerçek Sonuç	Tahmin	Fark
$26 + 43 = \dots$		
$18 + 54 = \dots$		

Gerçek Sonuç	Tahmin	Fark
$56 - 47 = \dots$		
$94 - 46 = \dots$		

1) Yunus'un 93 tane kalemtraşları vardır. Şükriye'nin kalemtraşlarının sayısı Yunus'un kalemtraşlarının sayısından 6 eksiktir. Buna göre Şükriye'nin kaç tane kalemtraşları vardır?

.....

2) Deniz, Ayşenaz ve Ömer'in toplam 91 silgisi var. Deniz'in 30, Ayşenaz'ın 51 silgisi olduğuna göre Ömer'in kaç silgisi vardır? .....

## MATEMATİK TEKRAR ÇALIŞMASI 2

Verilen sayıların okunuşlarını yazınız.

Verilen sayıları rakamlarla yazınız.

53.....

otuz yedi.....

16.....

altmış beş.....

62.....




yetmiş bir.....



Aşağıdaki toplama ve çıkarma işlemlerini zihinden yapınız.

$19 + 12 = \dots$	$15 + 26 = \dots$	$70 - 30 = \dots$	$22 + 13 = \dots$
$30 - 10 = \dots$	$30 - 20 = \dots$	$32 + 14 = \dots$	$60 - 30 = \dots$

Kutuların altına bilyelerin kaç onluk ve kaç birlikten oluştuğunu yazınız.



..... onluk + ..... birlik

..... onluk + ..... birlik

..... onluk + ..... birlik

Dörder ritmik sayarken 10. söylediğimiz sayı kaçtır? .....

Beşer ritmik sayarken 3. söylediğimiz sayı kaçtır? .....

Dörder ritmik sayarken 9. söylediğimiz sayı kaçtır? .....

Üçer ritmik sayarken 8. söylediğimiz sayı kaçtır? .....

53, 57, 61, 65, 69, ..... örüntüsünü devam ettirdiğinizde hangi sayıya ulaşırsınız?

4, 7, 10, 13, 16, 20 örüntüsünü bozan sayıyı bulun.

58, 56, 54, 52, 51, 48 örüntüsünü bozan sayı hangisidir?

