

MEB KAZANIM DEĞERLENDİRME SINAVI

1. Para, ihtiyaçlarımızı karşılamak için kullandığımız bir araçtır. Paramızı harcarken her zaman olmalıyız.

Yukarıdaki cümlede boş bırakılan yere aşağıdakilerden hangisi yazılmaz?

- A) Neşeli B) Dikkatli
C) Bilinçli D) Tutumlu

2.

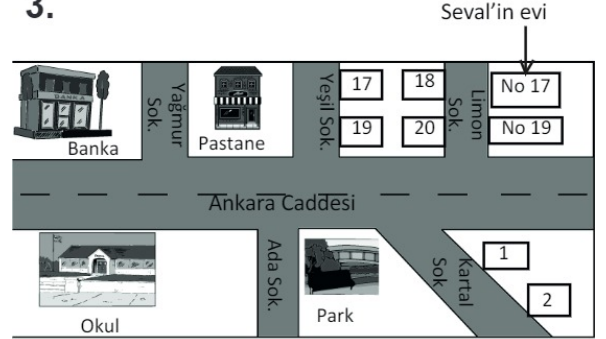


Yukarıdaki resimleri inceleyen Serap, resimlerdeki çocukları eleştirmiştir.

Buna göre, Serap ne söylemiş olabilir?

- A) Kaynaklarımızı tutumlu kullanmalıyız.
B) Sağlıklı yaşamak için su gereklidir.
C) Kişisel bakımımızı her gün yapmalıyız.
D) Akşam derse zaman ayırmalıyız.

3. 3.



Yukarıdaki krokiye göre Seval'in evinin tam adresi aşağıdakilerden hangisidir?

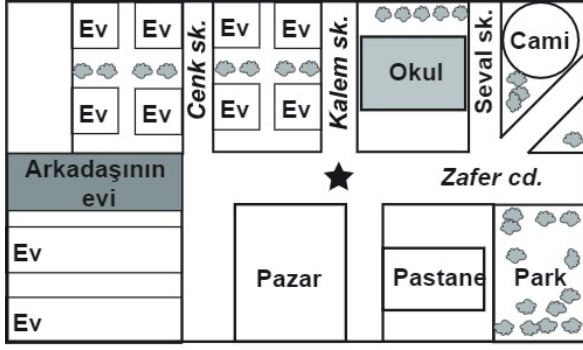
- A) Ankara Cad. Limon Sok. No:17
B) Ankara Cad. No:17
C) Ankara Cad. Yeşil Sok. No: 17
D) Ankara Cad. Limon Sok. No: 19

4. Pınar, evin elektrik düğmelerini ve musluklarını sürekli kontrol ediyor. Gereksiz durumlarda bunları kapatıyor.

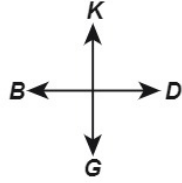
Bu durum Pınar'ın hangi özelliğine örnek olur?

- A) Cesaretli olma
B) Duygusal olma
C) Çalışkan olma
D) Tutumlu olma

5.

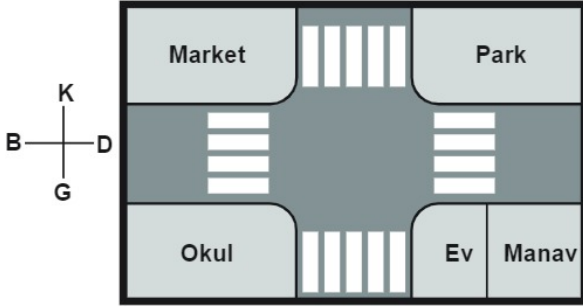


★ ile gösterilen yerde bulunan Birol, arkadaşının evine en kısa yoldan gitmek için hangi yönde hareket etmelidir?



- A) Kuzey B) Güney
C) Doğu D) Batı

6. Verilen plana göre aşağıdaki ifadelerden hangisi yanlıştır?



- A) Okul, marketin güneyindedir.
B) Park, evin kuzeyindedir.
C) Okul, evin batısındadır.
D) Market, parkın doğusundadır.

7. Şekildeki resim nasıl davranmamız gerektiğini anlatıyor?



- A) Savurgan olmamızı
B) Tutumlu olmamızı
C) Para harcamamızı
D) Yüzümüzü yıkamamızı

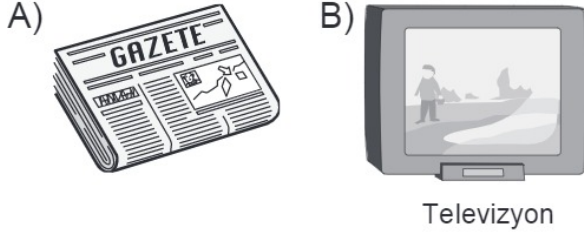
8. Odasında top oynayan Mehmet'i alt kat komşusu uyardı ve gürültü yapmamasını istedi.

Bu durumda Mehmet'in sorumlu bir insan olarak aşağıdaki davranışlardan hangisini göstermesi beklenir?

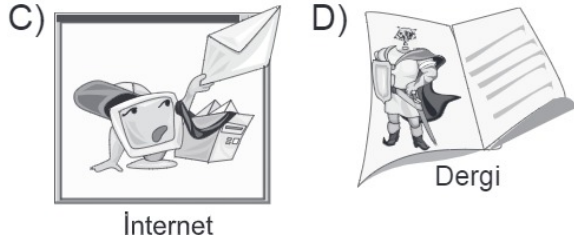
- A) Odamda oynuyorum kimse karışmaz.
B) Rahatsızlık verdiğim için özür dileirim.
C) Maçım var hazırlanmam gerekiyor.
D) Beni rahat bırakın.

9. Süha, yaz tatilinde köye gitmişti. Orada kendisiyle aynı yaşta olan Ege ile tanıştı, oyunlar oynadı. Tatil bittiğinde Ege ile sık sık haberleşmek istediğini söyledi.

Buna göre Süha, Ege ile haberleşmek için aşağıdaki iletişim araçlarından hangisini kullanabilir?



Televizyon



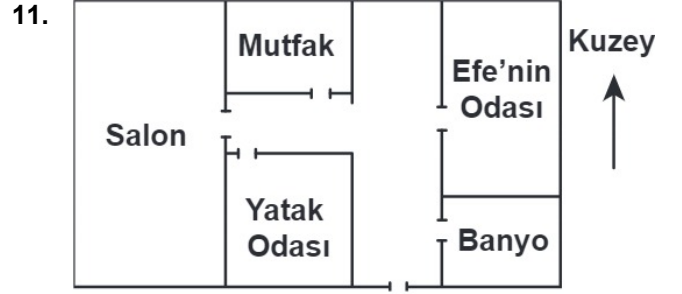
İnternet

Dergi

10. Aylin markette gezerken, gördüğü bir ürünü çok beğenir.

Aylin'in bu ürünü alırken aşağıdakilerden hangisine öncelik vermesi gerekir?

- A) Fiyatına
B) İhtiyacına
C) TSE belgesine
D) Üretim tarihine



Yukarıda verilen krokide Efe'nin odası mutfağa göre hangi yödedir?

- A) Doğu
B) Batı
C) Kuzey
D) Güney

12. Öğretmen, sınıftaki öğrencilere tasarruf konulu bir değerlendirme formu dağıttı.

DEĞERLENDİRME FORMU

	EVET	HAYIR
1. Dişlerimi fırçalarken musluğu açık bırakırım.		
2. Gerektiğinde açık lambaları kapatırım.		
3. İzlemesem bile televizyonu açık bırakırım.		
4. Isı kaybını önlemek için evime yalıtım yaptırım.		

Oğuzcan, tutumlu bir öğrenci olduğuna göre, öğretmenin dağıttığı değerlendirme formunu nasıl doldurmalıdır?

A)

	EVET	HAYIR
1		X
2		X
3	X	
4		X

B)

	EVET	HAYIR
1	X	
2		X
3	X	
4		X

C)

	EVET	HAYIR
1		X
2	X	
3		X
4	X	

D)

	EVET	HAYIR
1	X	
2	X	
3		X
4		X

13.




Televizyonda tanıtılan bu ürün, 12 yaşındaki Burak'ı etkiler.

Bilinçli bir tüketici olarak bu ürünü almaya karar veren Burak'ın ilk önceliği, aşağıdakilerden hangisi olmalıdır?

- A) Marka
B) Kalite
C) İhtiyaç
D) Fiyat

14. 14. Evdeki kaynakları bilinçsiz kullanmamız, geleceğimizi olumsuz etkilemektedir.



Yukarıda, bir odayı gösteren resimde hangi kaynak bilinçsiz olarak kullanılmaktadır?

- A) Isı
B) Elektrik
C) Su
D) Güneş

15. Ben Eren, proje çalışması için teknolojik bir ürün tasarlayacaktım. Hemen planımı yaptım. Ev işleri daha çabuk bitsin ve evde temizlik işlerine yardım etsin diye bir robot yapmayı tasarladım. Adına da "Hamarat" dedim.

Yukarıdaki parçada Eren'in tasarladığı robot gibi teknolojik ürünlere neden ihtiyaç duyarız?

- A) Kullanılması çok zevkli olduğu için,
B) Hayatımızı kolaylaştırdığı için,
C) Bize para kazandırdığı için,
D) Gereksiz işleri yaptığı için,

16. Aşağıdaki cümlelerin hangisinde sorumluluk ifadesi yoktur?

- A) Her sabah yatağımı toplarım.
- B) Yatmadan önce mutlaka müzik dinlerim.
- C) Alışveriş yaparken anneme yardım ederim.
- D) Babamla birlikte ayakkabılarımı boyarım.

17. Aşağıdakilerden hangisi bilinçli tüketicinin göstermesi gereken bir davranıştır?

- A) Ellerimizi yıkarken bizden sonraki arkadaşımızın kullanabilmesi için musluğu açık bırakmak
- B) Atık kâğıt kutusunda daha fazla kâğıt toplanması için gereksiz kâğıt kullanmak
- C) İstenilen bilgisayar oyununun alınması için harçlıktan para biriktirmek
- D) Son kullanım tarihi sadece bir gün geçmiş sütü indirimde olduğu için almak

18. Evimiz bizi kötü hava koşullarından, tehlikeli hayvan ve insanlardan korur. Dinlenip güven içinde uyuduğumuz yerdir.

Metne göre evimiz hangi temel ihtiyacımızı karşılamaktadır?

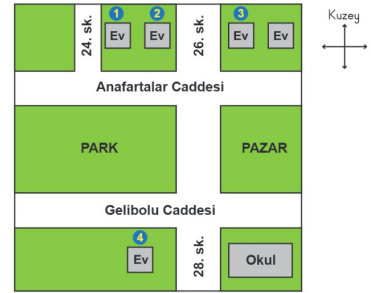
- A) Barınma
- B) Seyahat etme
- C) Seçme seçilme
- D) Beslenme

19. Aşağıdakilerden hangisi evimizde enerji tasarrufu yapmamıza katkı sağlar?

- A) Bulaşık makinesinin tam dolu olarak çalıştırılması
- B) Giysilerimizin kirlenmeden sık sık makinede yıkanması
- C) Evimizin odalarında gereğinden fazla lamba kullanılması
- D) Kış aylarında oda sıcaklığı artınca pencerelerin açılması

20.

22 ve 23. soruları aşağıdaki krokiye göre cevaplayınız.



20. Anafartalar Caddesi 24. sokak adresindeki ev krokide kaç numara ile gösterilmektedir?

- A) 1
- B) 2
- C) 3
- D) 4

21. Krokiye göre park, pazarın hangi yönünde yer almaktadır?

- A) Doğu
- B) Batı
- C) Kuzey
- D) Güney

22.



Yukarıdaki krokiye göre Ali'nin evinin batısında ne vardır?

- A) Manav
B) Market
C) Okul
D) Çocuk parkı

23.



Su damlası

Beni evlerinizde bazı yöntemler deneyerek verimli kullanabilirsiniz. Bu sayede tasarruf yapabilir, faturanızın daha az gelmesini sağlayabilirsiniz.

Aşağıdakilerden hangisi bu yöntemlerden biri olamaz?

- A) Su damlatan bozuk muslukları tamir etmek
B) Dişlerimizi fırçalarken musluğu açık bırakmak
C) Sebzeleri yıkadığımız atık suyla çiçekleri sulamak
D) Bulaşık makinesini tam dolu olduğunda çalıştırmak

24. Aşağıdakilerden hangisi ev işlerinde kullanılan alet veya teknolojik ürünlerden biri değildir?

A)



B)



C)



D)



25. 25.



Ozan

Sizler de bayat ekmekleri, yemek ve tatlı yapımında kullanabilirsiniz.

Ozan'ın önerisindeki amaç aşağıdakilerden hangisidir?

- A) Paylaşmanın önemini anlatmak
- B) Komşuluk ilişkilerini geliştirmek
- C) İsrافی önlemek
- D) Temizliğe dikkat etmek

26. Aşağıda Banu'nun derslerindeki bir konu ile ilgili yazdığı metin verilmiştir.

Hayatımı düzene koymak için gün içerisinde yapacağım iş ve etkinlikleri önem sırasına koydum. Daha sonra bunlara ne kadar vakit ayırmam gerektiğine karar verdim. Bu sayede derslerimde daha başarılı oldum. Ayrıca beslenme ve uyku saatlerime de dikkat ettiğim için oldukça sağlıklıyım.

Bu metne getirilebilecek en uygun başlık aşağıdakilerden hangisidir?

- A) Tasarruflu Olmak
- B) Sağlıklı Beslenme
- C) Planlı Yaşam
- D) Görev Dağılımı

27. Aşağıdaki davranışlardan hangisi komşularımızla iyi ilişkiler kurmamızı sağlar?

- A) Bayramlarda onları ziyaret etmek
- B) Evde yüksek sesle müzik dinlemek
- C) Çöpleri ağız açık şekilde kapıya bırakmak
- D) Zor günlerinde onları yalnız bırakmak

28. Bora, anneannesiyle bir röportaj yapmıştır. Anneannesi ona şunları söylemiştir: "Benim çocukluğumda cep telefonu yoktu. Uzaktaki bir yakınımızla konuşabilmek için postaneye giderdik. Jeton kullanarak telefon ederdik. Şimdi cep telefonu sayesinde herkes istediği yerde istediği kişiyle kolaylıkla konuşabiliyor."

Bora, anneannesiyle hangi konu hakkında röportaj yapmış olabilir?

- A) Büyüklerimizin zamanı ile benim zamanım
- B) Farklı meslekleri tanıma
- C) Büyüklerimize saygılı olmanın önemi
- D) Planlı olmanın faydaları

29. Derya Öğretmen öğrencilerine “Evdeki kaynakları verimli kullanmak için neler yapıyorsunuz?” sorusunu sorar.

Buna göre hangi öğrenci bu soruyla ilgisi olmayan bir cevap vermiştir?




- A) Ahmet : Biz tasarruflu ampul kullanıyoruz.
 B) Deniz : Dişimi fırçalarken gerektiği kadar su kullanıyorum.
 C) Yiğit : Evimizin dış cephesine ısı yalıtımı yaptırдық.
 D) Burak : Ev işlerinde anneme mutlaka yardım ediyorum.




30. Emir, okuldan gelince yemeğini yedi. Ödevleri olmasına rağmen dışarıda arkadaşlarıyla oyun oynamayı tercih etti. Eve dönünce kendini yorgun hisseden Emir, televizyon karşısında uyuya kaldı. Bu yüzden ödevini yapmaya zamanı kalmadı.




Buna göre Emir, zamanını etkili kullanabilmek için aşağıdakilerden hangisini yapmalıdır?




- A) Sağlıklı beslenmelidir.
 B) Planlı olmalıdır.
 C) Kitap okumalıdır.
 D) Oyun oynamalıdır.

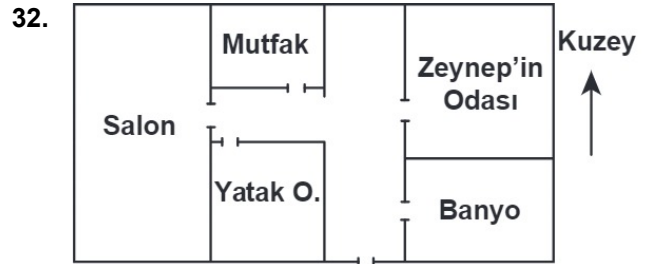
31. Ahmet, temel ihtiyaçlar tablosunu doğru oluşturmak için aşağıdaki görsellerden hangilerini kullanmalıdır?

A)   

B)   

C)   

D)   



Yukarıda verilen krokide mutfak, Zeynep'in odasına göre hangi yöndedir?


- A) Doğu
 B) Batı
 C) Kuzey
 D) Güney

33. Boşa yanan kömürün,
Ocak ile fırının,
Dumanını yel alır,
Parasını el alır.
Benzin, mazot, gaz yağı,
Şimdi tasarruf çağı.
Savurganca harcama,
Ellere muhtaç olma.
Çok üretip az harca,
Rastgele lamba açma,
Suyu boşa akıtma,
Geleceğini unutma.
(Yılmaz Özdemir)

Yukarıdaki verilen şiire göre, nasıl davranmalıyız?

- A) Savurgan olmalıyız.
B) Tutumlu olmalıyız.
C) Para harcamalıyız.
D) Ellerimizi yıkamalıyız.
34. Sabah 06.30'da uyanan Ceren'in
07.00'de okul servisi geliyor.
**Buna göre, Ceren'in yarım saatlik
bu sürede aşağıdakilerden hangi-
sini yapması doğru değildir?**
- A) Kahvaltısını yapması
B) Okul kıyafetlerini giymesi
C) Türkçe proje ödevini tamamlaması
D) Çantasını ve ders kitaplarını kontrol
etmesi

35.



**Öğretmenin bu sorusuna, yukarı-
daki öğrencilerden hangisi yanlış
cevap vermiştir?**

- A) Mert
B) Berk
C) Betül
D) Buse

36. **Okul içinde ve dışında başarılı ol-
manın ilk koşulu, aşağıdakilerden
hangisidir?**

- A) Çok ders çalışmak
B) Düzenli spor yapmak
C) Sürekli kitap okumak
D) Zamanı planlı kullanmak