

TÜRKİYE'NİN HER YERİNE KARGO ÜCRETSİZ GÖNDERİYORUZ.

FUFUK İLE DEYİM VE ATASÖZÜ BOYUYORUM



5 KİTAP

18 TL

Her kitaba özel Değerlendirme Kitapçığı


1.Sınıf 2.Sınıf
3.Sınıf 4.Sınıf

WhatsApp Sipariş
0 552 252 83 85

Fiyatlar Toplu Alım İçin Geçerlidir.

KARGO BEDAVA


**Kitap
Tanıtımı
İzlemek
için
TIKLA**



DEYİM

Ağızyla kuş tutmak

Deyimin Anlamı

Çok becerikli olmak.

Örnek Cümle

Fufuk, arkadaşı ile başmak istiyor ama arkadaşı ağızla kuş tutsan başmam diyordu.

Örnek Cümlem

www.ufukkoca.com 4 FUFUK Yayınları



DEYİM

Etekleri zil çalmak

Deyimin Anlamı

Çok sevinmek.

Örnek Cümle

Fufuk, sınavdan 100 aldığı öğrenince etekleri zil çaldı.

Örnek Cümlem

www.ufukkoca.com 6 FUFUK Yayınları

Tekli Alım Fiyatımız = **25 TL** Kargo ücretsiz.

Toplu Alım Fiyatımız = **18 TL** Kargo ücretsiz.

Toplu alım için **en az 20** set olması gerekir.


Whatsapp Sipariş : **0 552 252 83 85**




1 Aşağıda verilen görselleri kullanarak hikâye yazalım.



Hikâyenin başlığı nedir




Hikâyenin yazarı kimdir



Hikâyede kullandığın en belirgin 3 karakterin isimleri ve özellikleri nelendir yazalım.

Karakterler	Özellikleri
1	
2	
3	

Hikâyenin kahramanı seçerken hangi özelliklere dikkat ettin?



.....

.....

Yazdığın hikâyeyi beğendin mi

Hayır Biraz Çok



Hikâyeyi arkadaşına okumak ister misin

Hayır Belki Evet



Hikâyede olay ne

.....

.....

Hikâyede olay nerede geçiyor

.....

.....

Hikâyede olay ne zaman geçiyor

.....

.....

Hikâye ile ilgili bir resimde sen çiz

.....

.....

ETKİNLİK

1 Annenize akrostiş bir şiir yazar mısın?



Illustration of a mother hugging a child, with a large red area for writing an acrostic poem.

ETKİNLİK

2 Annenizin sizin için neler yaptığını maddeler halinde yazar mısın?



Vertical list of ten yellow arrows pointing right, intended for writing a list of things the mother has done for the child.

29. Hafta

Konu : Doğru, Işın ve Açılı

Ad :

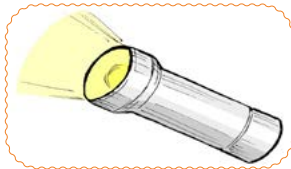
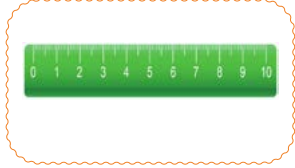
Soyad :

Matematik

FUFUK Haftalık Çalışma Kitabı

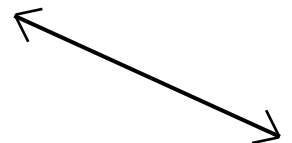
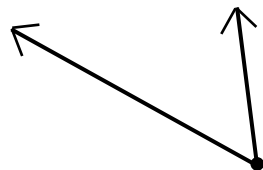
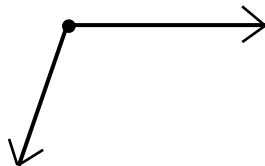
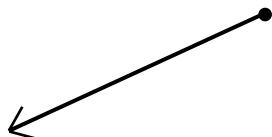


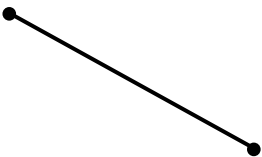
ETKİNLİK

1 Aşağıda verilen resimleri inceleyiniz. Doğru, doğru parçası, ışın ve açı kavramlarından hangisi uygunsa altına onu yazınız.



ETKİNLİK

2 Aşağıda verilen çizgi modellerin isimlerini altına yazınız.

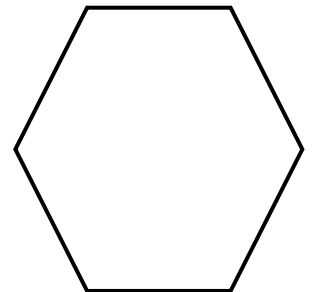
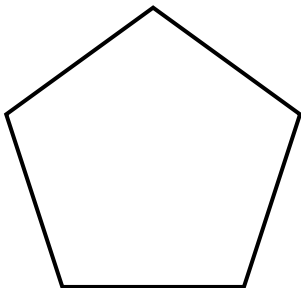

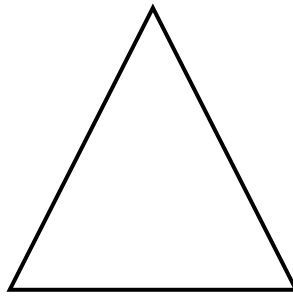
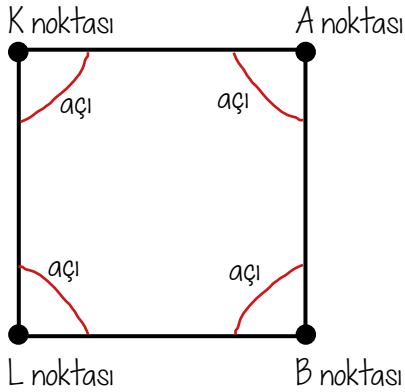


3 Aşağıda noktalı yerlere isteneni çizelim.



doğru çizelim	doğru parçası çizelim	ışın çizelim	açı çizelim
yatay doğru çizelim	eğik doğru çizelim	dikey doğru çizelim	yatay ışın çizelim
dikey ışın çizelim	eğik ışın çizelim	dikey doğru parçası çizelim	eğik doğru parçası çizelim

4 Aşağıda verilen şekillerin köşelerini bulup nokta koyarak isimlendirelim. Açı olan yerleri örnekteki gibi çizerek gösterebiliriz.



5 Aşağıda verilen bilgilerden doğru olanların başına "D" harfi, yanlış olanların başına "Y" harfi yazınız.

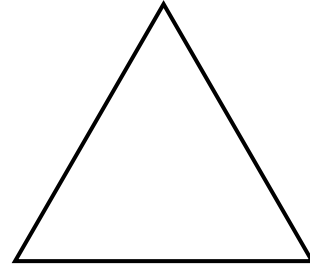


- Pipet doğru modeldir. Uzayan saç ışına örnektir.
- İğne ışına örnektir. Çubuk makarna doğruya örnektir.
- Yol ortasında bulunan beyaz kesik çizgiler doğru parçasıdır. Açık olması için en az 2 doğruya ihtiyaç vardır.

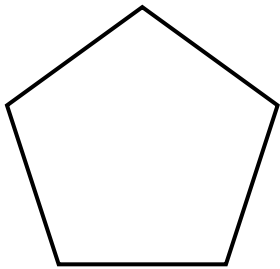
6 Aşağıda verilen harfleri ve şekilleri inceleyiniz. Kaç tane dikey, kaç tane yatay ve kaç tane eğik doğru parçası olduğunu yazınız.



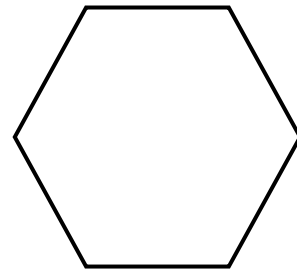
..... yatay
..... dikey
..... eğik




..... yatay
..... dikey
..... eğik




..... yatay
..... dikey
..... eğik




..... yatay
..... dikey
..... eğik



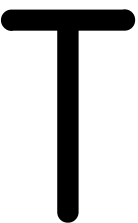
..... yatay
..... dikey
..... eğik



..... yatay
..... dikey
..... eğik



..... yatay
..... dikey
..... eğik



..... yatay
..... dikey
..... eğik



..... yatay
..... dikey
..... eğik



..... yatay
..... dikey
..... eğik



FUFUK YENİ NESİL SORU



FUFUK

Fufuk, adında bulunan ünsüz harfleri incelemek istedi. Kaç tane yatay, kaç tane dikey ve kaç tane eğik doğru parçası olduğunu buldu. Bunların toplam sayısını babasına söyledi. Babası ise bazı geometrik şekiller çizerek ona cevap verdi. "Bak Fufuk, benim çizdiğim geometrik şekillerde bulunan eğik, yatay ve dikey doğru parçalarının toplam sayısı senin söylediğin sayı ile aynı." dedi.

Yukarıdaki metin ve resim ile ilgili aşağıdaki bilgiler verilmiştir.

- ➔ Babası 2 tane geometrik şekil çizdi.
- ➔ Babasının çizdiği geometrik şekillerde toplam 6 tane eğik doğru parçası vardır.

Buna göre babasının çizdiği geometrik şekillerden biri hangisidir?

A kare

B beşgen

C altıgen

1 Aşağıdaki araç gereçleri inceleyiniz. Hangi tür araç gereç olduğunu yanındaki kutucuğu işaretleyerek gösteriniz.



ev
Isınma
aydınlatma



ev
Isınma
aydınlatma



ev
Isınma
aydınlatma



ev
Isınma
aydınlatma



ev
Isınma
aydınlatma



ev
Isınma
aydınlatma



ev
Isınma
aydınlatma



ev
Isınma
aydınlatma



ev
Isınma
aydınlatma



ev
Isınma
aydınlatma



ev
Isınma
aydınlatma



ev
Isınma
aydınlatma



ev
Isınma
aydınlatma



ev
Isınma
aydınlatma



ev
Isınma
aydınlatma



ev
Isınma
aydınlatma



ev
Isınma
aydınlatma



ev
Isınma
aydınlatma

2 Aşağıda verilen ifadelerden doğru olanların başındaki kutucuğa "D" yanlış olanların başındaki kutucuğa "Y" harfi yazalım.



- | | | | |
|--------------------------|--|--------------------------|---|
| <input type="checkbox"/> | Kombi ısınma amacıyla kullanılan elektrikli bir araçtır. | <input type="checkbox"/> | Bulaşık makinesi elektrik ile çalışır. |
| <input type="checkbox"/> | Buzdolabı aydınlatma amacıyla kullanılan elektrikli bir araçtır. | <input type="checkbox"/> | Saç kurutma makinesi ısınma amacı ile kullanılır. |
| <input type="checkbox"/> | Elektriği tasarruflu kullanmak bizime bağlıdır. | <input type="checkbox"/> | Isınma amacıyla kullandığımız tüm eşyalar elektrikle çalışır. |

3 Aşağıda verilen bulmacada ısınma araçlarını mavi, aydınlatma araçlarını kırmızı, ev eşyalarını ise sarı renge boyayınız.



Tüm kelimeleri bulup boyamanız bitince oluşan ara renklerdeki harfleri dilediğiniz kadar kullanarak cümle yazınız.

NOT : Ara renklerdeki harflerin hepsi kullanılacak.

A	K	T	M	Ü	N	R	A	O	C	A	K	A	R	A
E	L	E	K	T	R	İ	K	L	İ	S	O	B	A	T
L	İ	O	F	Ü	L	T	E	A	N	A	M	E	M	Ş
E	M	E	L	F	R	O	F	L	A	M	B	A	P	O
K	A	L	O	R	İ	F	E	R	İ	F	İ	M	U	F
E	T	E	R	İ	M	E	N	A	T	A	N	R	L	B
T	A	R	E	T	E	L	E	V	İ	Z	Y	O	N	E
A	B	A	S	E	F	İ	R	İ	N	T	E	N	İ	N
Ç	A	M	A	Ş	İ	R	M	A	K	İ	N	E	S	İ
O	K	U	N	A	B	U	Z	D	O	L	A	B	İ	N

CÜMLEM →

1 Atatürk'ün sahip olduğu kişilik özelliklerini işaretleyelim.



ileri görüşlü

zeki

fedâkar

kibirli

bencil

güvenilir

utangaç

cesur

vatansever

kararsız

saygılı

karamsar

çalışkan

lider

azimli

disiplinli

2 Aşağıdaki cümlelerde boş bırakılan yerlere uygun ifadeleri yazarak cümleyi tamamlayalım.



vatanını

bilime

akıl

iş birliği

Atatürk, olayların sonucunu yürüterek tespit edendi.

Atatürk, Anadoludaki komutanlarla yaparak Milli Mücadele'de başarılı olmuştur.

Atatürk çok sevdi.

Atatürk çok önem verdi.

3 Aşağıda verilen ifadelerden doğru olanların başındaki kutucuğa "D" yanlış olanların başındaki kutucuğa "Y" harfi yazalım.



Atatürk başarılı bir askeri.

Atatürk vatani için fedâkarlıklar yapmıştır.

Atatürk sorumluluklarını yerine getirdi.

Atatürk tüm kararları tek başına aldı.

Atatürk her zaman plansız hareket eddi.

Atatürk başkalarının da fikirlerine önem verdi.

1 Rakamları (1, 2, 3, 4, 5, 6) kullanarak sudokuyu yapalım.
Her satır ve sütunda farklı rakamlar olmasına dikkat edelim.

2					1
3	1	5	2	4	
6	5				
1			6	2	5
	2			1	3
	3	1		6	



	3		5	4	
5	4	2			
			2		
2		5	4		3
6	5			2	4
3			6	5	1

5	2		1		6
		4	5		2
6			3		
2	1		4		3
4	3			1	5



2	6		3	5	4
3		4			
	1	5	6	3	
					5
				2	3
		2			6

6		1	2	4	
	4		6		1
5			1		
	6		5	2	
					6
3	1			5	2



3					6
5			3	1	
4	3	5	2		1
	1	6			
	4		6		
	5				4

Atasözü

Köpek suya düşmeyince yüzmeyi öğrenmez.

Anlamı

Kişi, bir tehlike karşısında her yerden umudu kesip kendine güvenmekten başka çare kalmadığını anlamadıkça kurtuluş yolunu bulamaz.

Resim

Kısa Hikâye

.....

.....

.....

.....

.....

.....

Deyim

Kafa tutmak

Resim

Anlamı

Karşı gelmek.

Örnek

Fufuk yeni girdiği işte patronuna kafa tutunca işten atıldı.

Örnek Cümlem

Arda okulların açıldığını duyunca koşarak babasına sarıldı. Çantasını özenle hazırladı ve yatağına yattı. Ama bir türlü uyuyamadı. Çünkü çok heyecanlıydı. Sabah uyanır uyanmaz hemen elini yüzünü yıkadı. Daha sonra kahvaltısını yaptı. Ütülü kıyafetlerini giydi. Aynaya bakarak saçını taredi. Çantasını alıp okula gitti. Okulda arkadaşlarının gelmesini bekledi. Her gelen arkadaşına evde neler yaptığını sordu. Herkesin farklı şeyler yapmasına çok şaşırıldı.



Arda çantasını **nasıl** hazırladı?

Arda **ne zaman** babasına sarıldı?

Arda **neden** bir türlü uyuyamadı?

Arda, arkadaşlarına **ne** sordu?

Sabah ilk **ne** yaptı?

Metinde **kaç** kelime vardır?

Arkadaşlarını **nerede** bekledi?

Metinde **kaç** cümle vardır?

Zebralar, yaşamlarını sürdürürebilmek için su ve ot ile beslenirler. Bazen yiyecek bulmak için 50 km yürürler, sonrasında yaşadıkları ortama geri dönerler. Tüm zebraların çizgilerinin yapısı ve sayısı birbirinden farklıdır.

Zebralar ne ile beslenirler?

Aslanlar, kaplandan sonra dünyanın yaşayan en büyük ikinci kedisidir. Erkek aslan ortalama 250 kg'dır. En ağır aslan 1970 yılında İngiltere'de bulunan hayvanat bahçesindeki Simba adlı aslandır. Ağırlığı 435 kg'dır. Dişi aslan ise 150 kg ağırlığında olabilirler.

En ağır aslanın adı nedir?

Zebraların nesi birbirinden farklıdır? En ağır aslanın ağırlığı kaç kg'dır?

Aşağıda verilen iki resim arasındaki 10 farkı bulunuz.



29.**Hafta****Konu : Dikkat Çalışması**

Ad :

Soyad :



Kodlama

**FUFUK** Haftalık Çalışma Kitabı**ETKİNLİK**

1 Aşağıda verilen isimleri tabloda kodlarına uygun yerlere yazınız. Tabloda boş kalan kutucuğa kendi adınızı yazıp yan tarafa da kodla birlikte adınızı yazın.



	1	2	3
A			
B			
C			
D			

D2 Aslı **C1** Ahmet
A1 Arda **B3** Burak
C3 Oya **C2** Fatma
B2 Ela **D1** Onur
D3 Elif **B1** Mert
A3 Ufuk

	1	2	3
A			
B			
C			
D			

C3 kalp **C1** böbrek
B1 mide **A2** apandisit
A1 akciğer **D2** gırtlak
D3 karaciğer **A3** kemik
C2 bağırsak **B2** iskelet
B3 beyin

	1	2	3
A			
B			
C			
D			

A3 halı **C2** televizyon
B2 pencere **B1** perde
D1 koltuk **A2** duvar
B3 lamba **C1** kalorifer
A1 masa **D2** kalem
D3 telefon