

**08 MAYIS 2020**

**ÖĞRENCİ  
GÖREVLERİ**

😊Sizin Başarınız Benim Mutluluğumdur😊



nihalkaralikorkmaz

# HAYAT BİLGİSİ ÇALIŞMAMIZ

Aşağıdaki bilgileri hayat bilgisi defterinize en güzel ve özenli yazınızla yazın.  
Bol bol okuyun.

## Hayvanlar

- Tüm hayvanlar yaşamlarını sürdürmek için **hava, su ve besine** ihtiyaç duyarlar. Hayvanların ihtiyaçları uygun şekilde karşılanmazsa yaşamları tehlikeye girer.

- Bu ihtiyaçlarının dışında hayvanların **barınma ihtiyaçları** da vardır. Her hayvanın bir yuvası vardır.

- Bazıları karada, bazıları suda ve bazıları ise hem karada hem suda yaşar.

- Hayvanlar besinlerini kendileri yapamaz.

- Beslenme şekilleri birbirinden farklıdır. Beslenme şekillerine göre hayvanlar üçe ayrılır;

1 ) Otlarla beslenenler ( otçül ) : At, koyun, geyik, tavşan, fil gibi...

2 ) Etlerle beslenenler ( etçil ) : Aslan, kurt, kartal, yılan gibi...

3 ) Hem etle hem otla beslenenler ( hepçil ) : Karga, ayı gibi...

Verilen kelimeleri uygun boşluklara yazarak cümleleri tamamlayın.

su

evcil

hava

yaşam alanlarını

bitkilerden

ot

1 Hayvanların ..... korumalıyız.

2 Hayvanlar besinlerini ..... ve diğer hayvanlardan sağlar.

3 Evde besleyebildiğimiz hayvanlara ..... hayvan denir.

4 Hayvanlar besin, ..... ve ..... olmadan yaşayamaz.

5 Tilki, yılan, karga gibi hayvanlar hem et hem ..... ile beslenirler.


# MATEMATİK TEKRAR ÇALIŞMAMIZ

Aşağıdaki cümlelerde boş bırakılan yerleri tamamlayınız.

- 1- 1 bütün domates ..... yarım, ..... çeyrek domates eder.
- 2- 6 bütün karpuz ..... yarım karpuz eder.
- 3- 4 bütün elma ..... çeyrek elma eder.
- 4- 3 yarım kivi ..... çeyrek kivi eder.
- 5- 5 bütün limon ..... çeyrek limon eder.
- 6- 12 yarım portakal ..... bütün portakal eder.
- 7- 20 çeyrek simit ..... bütün simit eder.
- 8- 14 çeyrek kayısı ..... yarım kayısı eder.
- 9- 18 çeyrek limon; ..... bütün ..... yarım limon eder.
- 10- 8 çeyrek şeftali, 8 yarım şeftali ..... bütün şeftali eder.

Aşağıdaki saatlerin öğleden önce ve öğleden sonra kaç gösterdiğini dijital saatlere yazın. Saatlerin okunuşunu yazın.

1




Öğleden önce

Öğleden sonra

Saat .....

2




Öğleden önce

Öğleden sonra

Saat .....

3




Öğleden önce

Öğleden sonra

Saat .....

4




Öğleden önce

Öğleden sonra

Saat .....

✓ Aşağıdaki paraları karşılaştıralım.  
Noktalı yerleri örnekteki gibi dolduralım.



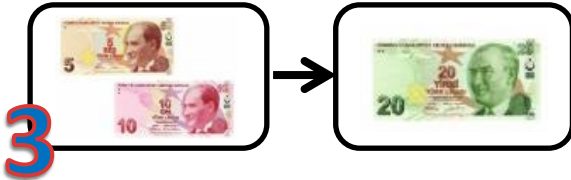
20 kuruş , 15 kuruştan fazladır.



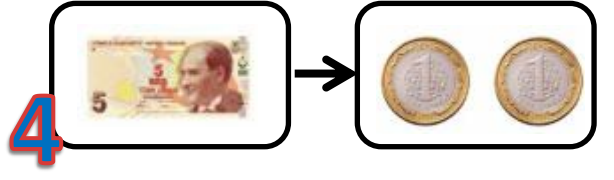
..... kuruş , ..... kuruştan .....



..... kuruş , ..... kuruştan.....



..... TL , ..... TL'den .....



..... TL , ..... TL'den .....

✓ Aşağıdaki soruları cevaplayın.

- 1-Bir günün yarısı kaç saattir? .....
- 2-Günde 2 saat oyun oynayan Esmâ,haftada kaç saat oyun oynar? .....
- 3-Haftanın 4.günü hangi gündür? .....
- 4-Üç tane çeyrek saat, kaç dakika eder? .....
- 5-Mart, Nisan, Mayıs hangi mevsimin aylarıdır? .....

✓ Aşağıdaki problemleri cevaplayın.

- 1 Cebimde 15 TL para vardı. Tanesi 50 kuruş olan kivilerden 4 tane aldım. Kaç liram kaldı?
- 2 Babam haftanın 4 günü 17:00 ile 19:00 arasında spor yapmaktadır. Babam haftada kaç saat spor yapar?
- 3 24 cevizin çeyreğinin, 3 katı kaç ceviz eder?