


ADI SOYADI:

Verilen çoklukların kesir kadarını bulup yazalım.

32 cevizin  $\frac{1}{4}$  ' i kaç ceviz eder?

.....	.....	
-	.....	
.....		


63 misketin  $\frac{1}{7}$  ' i kaç misket eder?

.....	.....	
-	.....	
.....		


48 sayısının  $\frac{1}{8}$  ' i kaçtır?


.....	.....	
-	.....	
.....		


40 kitabın  $\frac{1}{10}$  ' i kaç kitap eder?


.....	.....	
-	.....	
.....		


Verilen varlıkların kesir miktarlarını yazalım.






$\frac{4}{6}$



_____






_____


_____



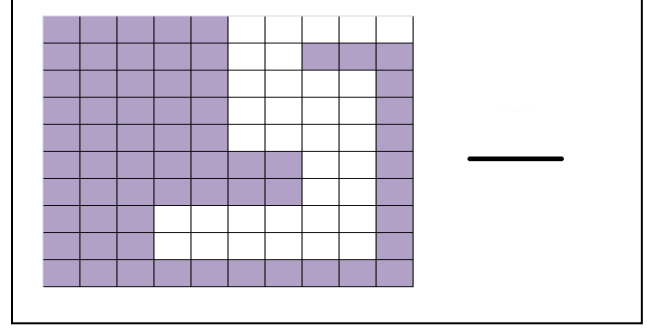
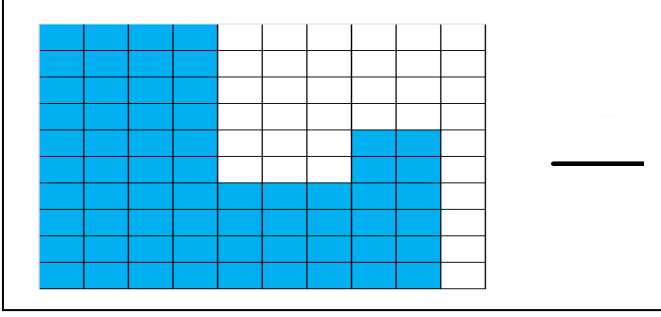

_____


_____


_____

Boyalı alanların kesirle gösterimini yazalım .

3. SINIF MATEMATİK 27



K	E	S	İ	R	L	E	R	R	K
L	K	E	S	İ	R	L	E	R	K
K	E	S	İ	R	L	E	R	R	K
E	L	K	E	S	İ	R	L	E	R
K	E	S	İ	R	L	E	R	R	S
S	K	E	S	İ	R	L	E	R	S
K	K	K	E	S	İ	R	L	E	R
İ	K	K	E	S	İ	R	L	E	R
K	E	S	İ	R	L	E	R	L	S
İ	İ	İ	E	E	E	L	L	L	S

K = \_\_\_\_\_

İ = \_\_\_\_\_

E = \_\_\_\_\_

R = \_\_\_\_\_

S = \_\_\_\_\_

L = \_\_\_\_\_

Sayı doğrusunda harflere karşılık gelen kesirleri yazalım.

