




YERLİ MALI YURDUN MALI

12 Aralık tarihini kapsayan hafta ülkemizde Tutum, Yatırım ve Türk Malları Haftası olarak kutlanır. Bu haftanın diğer adı Yerli Malları Haftasıdır. Okullarda öğrenciler yerli üretim meyve, sebze ve yiyecekler getirip tüketir. Ancak bu haftanın anlamlı olabilmesi için sadece yiyeceklerde değil, giyimden, elektronik eşyalara kadar her alanda yerli üretim malları kullanmalıyız. Okulda, evde kaynaklarımızı tasarruflu kullanmalı, bir kumbara edininip para biriktirmeliyiz. Bu konuda büyüklerimize de çok görev düşüyor. Onlar da yerli malı cep telefonlar, bilgisayarlar, arabalar, programlar, uygulamalar gibi aklımıza gelen her alanda Türk Malı ürünler üretmeliler.

1. ve 2. soruyu yukarıdaki metne göre cevaplamalısın.

- 1 Yerli Malı Haftasında okullarda ne yapılmış?
 A) Öğrenciler araştırmalar yapmış.
 B) Öğrenciler yerli üretim meyve, sebze ve yiyecekler getirip tüketmiş.
 C) Öğrenciler bilimsel icatlar yapmış.

- 2 Yerli malları konusunda büyüklere hangi görev düşüyormuş?
 A) Çocuklara örnek olmalılar.
 B) Çocuklara kumbara alıp vermeliler.
 C) Akla gelen her alanda Türk Malı ürünler üretmeliler.

- 3  Aşağıdaki cümlelerden hangisinin yazımında yanlışlık vardır?


- A) Adem'in evi şuradamı?
 B) Muzaffer saçlarını taramamış mı?
 C) Lütfen buraya gelir misin?


- 4

Deneyim	Yel
Tümce	Tecrübe
Sorun	Cümle
Kelime	Mesele
Rüzgar	

- Yukarıdaki eş anlamlı kelimeleri eşleştirdiğinde hangisi açıkta kalır?
 A) Tümce
 B) Kelime
 C) Deneyim

- Çocuklar, Nasreddin Hoca'nın etrafını sarmış ()
 Nasrettin Hoca sadece parayı veren çocuğun düdüğünü vermiş () Diğerleri sormuş :
 () Hocam bizim istediklerimiz nerede ()
 Nasrettin Hoca şöyle cevap vermiş :
 () Parayı veren, düdüğü çalar.

- 5  Yukarıdaki fıkramda parantez içlerine sırayla hangi noktalama işaretleri konmalıdır?
 A) (.) (.) (-) (?) (-)
 B) (.) (.) (,) (.) (-)
 C) (?) (.) (-) (?) (-)

- 6  Karagöz'e sordum bilemedi. Aşağıdaki cümlelerin hangisinde "hatırlamak" sözcüğünün zıt anlamlısı vardır?
 A) Karagöz, dün akşam söylediklerimi anlamadı.
 B) Karagöz, yemekte ne yediğini hatırlamadı.
 C) Karagöz, sakladığı altınların yerini unutmuş.

- 7 Ah bu Hacivat ah. . .
 Hacivat satır sonuna sığmayan kelimelerden hangisini yanlış bölmüş?
 A) davulcu-
ların B) mek-
teplerde C) taleb-
elerin

8




Ben, Çanakkale Savaşı kahramanı Koca Seyit. Aşağıda kelimeleri karışık olarak verilmiş cümleyi anlamlı ve kurallı hale getirirsen hangi şık doğru olur?


sayesinde - Milli - kazandık - Mücadele'yi - Atatürk

- A) Atatürk sayesinde kazandık Milli Mücadele'yi.
B) Milli Mücadele'yi Atatürk sayesinde kazandık.
C) Kazandık Milli Mücadele'yi Atatürk sayesinde.


9 Hayvanların gösterdiği kelimelerden hangisi sözlükte daha sonra yer alır?



A)



B)



C)

10



Merhaba ben Kemal Sunal. Aşağıdaki cümlelerden hangisinin sonuna ünlem işareti gelmelidir?

- A) Dikkat, kamyon çıkabilir ()
B) Kızım, çiçekleri suladın mı ()
C) Bugün hava güneşli ()

11

- Çadıra eşyalarımızı yerleştirdik.
 Çadırımızı kurduk.
 Gece çadırda uyuduk.
 Ormana gittik.

Yukarıdaki cümleleri olayların oluş sırasına göre sıralarsak şekiller nasıl sıralanır?

- A) B)
C)

12



Koyun verdi, kuzu verdi, süt verdi.
Yemek verdi, ekme verdi, et verdi.
Kazma ile kazmayınca az verdi.
Benim sâdik yârım kara topraktır.

Ünlü ozanımız Aşık Veysel'in bu şiirinin konusu nedir?


- A) Hava B) Su C) Toprak

13

Harflerim sırayla alfabemizin 22. harfi , alfabemizin ilk harfi ve son harfidir. Ben hangi sözcüğüm?



A)



B)



C)

14

Resimler ve anlamlarını eşleştirirsek hangi kelime açıkta kalır?



Konak : Büyük ve gösterişli ev.

Palto : Kışın giyilen uzun giysi

Üst : Giyecek, giysi

Gönder : Bayrak direği.

A) Üst

B) Palto

C) Konak

15

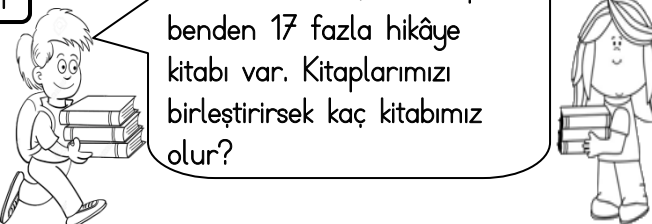


Nerde bir türkü söyleyen görürsen korkma yanına otur, çünkü kötü insanların türküleri yoktur.

Ünlü halk müziği sanatçımız Neşet Ertaş'ın bu cümlesinde kaç kelime ve kaç hece vardır?


- A) 13 kelime ve 30 hece
B) 13 kelime ve 31 hece
C) 13 kelime ve 32 hece

1 Benim 26 tane, arkadaşımın benden 17 fazla hikâye kitabı var. Kitaplarımızı birleştirirsek kaç kitabımız olur?



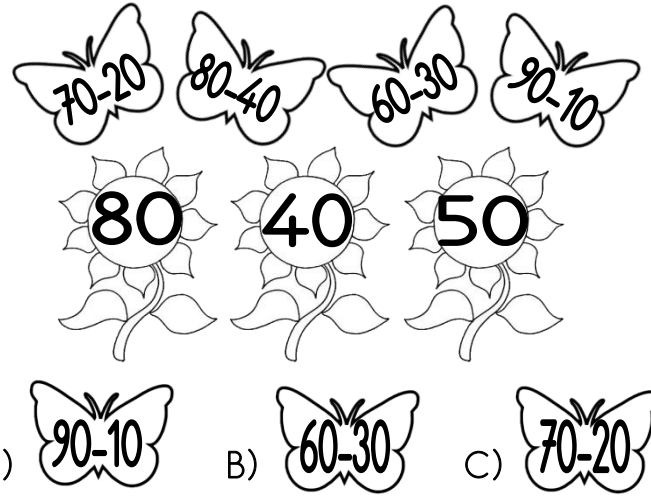
A) 43 B) 69 C) 60

4 Merhaba Dünyalı. 36 sayısına hangi sayıyı eklersem 78 sayısına ulaşırım?




A) 42 B) 52 C) 62

7 Kelebekler üzerlerindeki çıkarma işlemlerini yapıp, sonucunun bulunduğu çiçeğe konursa hangi kelebek açıkta kalır?




A) 90-10 B) 60-30 C) 70-20

2 Elimdeki balonların üzerinde yazan sayıların toplamlarını tahmin etmeye çalışıyorum. Hangisi doğru tahmin olur?




A) 70 B) 80 C) 90


5 Yandaki toplama işleminde verilmeyen toplananı hangi kuş doğru söylemiştir?



A) 8


$$\begin{array}{r} \square \\ + 38 \\ \hline 56 \end{array}$$


B) 18




C) 22

8 Gargamel'in Şiriner için yaptığı büyü'nün bozulması için bir iksir hazırladım. Doğru iksiri bulman için işlemi yaparak şifreyi bulmalısın. Doğru iksir hangisidir?




8	6		
3	3	1	4
-		-	

3 Necati dün 27 lahmacun, bugün çok acıktığı için 38 lahmacun yedi. İki günde kaç tane lahmacun yemiştir?




A) 65 B) 55 C) 75

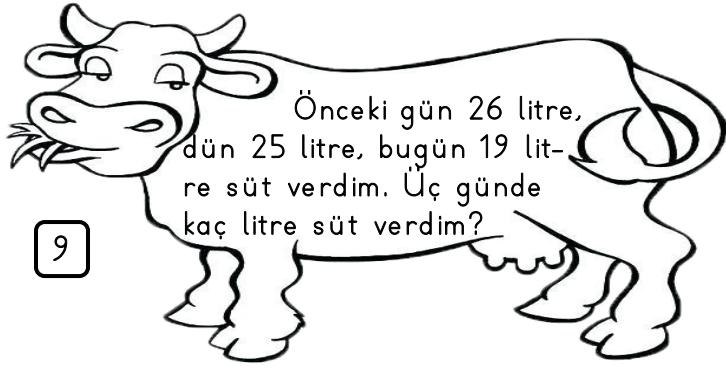
6 90'a yuvarlanabilecek en büyük sayıdan, 20'ye yuvarlanabilecek en küçük sayıyı çıkarırsam sonuç ne olur?



A) 80 B) 75 C) 79


A) 29 B) 49 C) 39





9

- A) 70 B) 71 C) 80




Ormandaki hayvanlar kendi aralarında bir yarışma düzenledi. Köpek 3. , kunduz 27. , yılan 36. ve keçi 19. oldu. Bu dört hayvanı en hızlıdan en yavaşına doğru nasıl sıralarız?

- A) Yılan - Kunduz - Keçi - Köpek
B) Köpek - Keçi - Kunduz - Yılan
C) Köpek - Kunduz - Yılan - Keçi

11


Gösterdiğim sayıyla ilgili hangisi yanlıştır?



- A) 8 birlik ve 7 onluktan oluşmaktadır.
B) Sayının okunuşu "seksen yedi" dir.
C) Onlar basamağındaki rakamın basamak değeri seksendir.

12

Kumbaramda 24 lira vardı. Pazartesi, Salı ve Çarşamba günleri kumbarama ikiye lira daha attım. Bu üç günün sonunda kumbaramda kaç lira olur?



- A) 26 B) 28 C) 30


13



Yukarıdaki her takside 4 yolcu olduğuna göre, taksilerde toplam kaç yolcu vardır?

- A) 20 B) 24 C) 28

14



Yukarıdaki her kümeşte 3 tavuk vardır. Bu çiftlikte toplam kaç tavuk vardır?

- A) 27 B) 24 C) 30

15



Bu soruyla çok kediyi kandırdım. Dikkatle oku cevabı bul. 5 birlik 2 onluktan oluşan sayı ile 3 onluk 7 birlikten oluşan sayının toplamı kaçtır?

- A) 89 B) 52 C) 62

Testi bitirdin ancak bütün soruları tekrar okuyarak cevaplarını kontrol et. Öğretmenin getirebilirsiniz diyene kadar testin sırada kalsın.

1


Merhaba ben Ali. Her sabah kalkınca yatağımı toplar, odamı düzenli bırakırım.



Ali her sabah bunları yapıyorsa hangisini söyleyebiliriz?

- A) Ali annesine yardımcı olmayan bir çocuktur.
B) Ali evdeki sorumluluklarını yerine getiren bir çocuktur.
C) Alînin bu davranışı doğru değildir.

2



Yalçın ailesi yüksek gelen faturalardan sonra tasarruf etme kararı aldı. Ercan ve Sevcan güneşli bir günde lambayı kapatıp, perdeyi açtılar. Hangi faturalarında azalma olur?

- A) Su B) Doğalgaz C) Elektrik

3

Çarşıda kaybolan Elif, polise hangi bilgiyi verirse ailesine daha çabuk ulaşır?

- A) Evinin adresini
B) Öğretmeninin adını
C) Okulunun adresini



4



Bayramda babamın erkek kardeşinin elini öptüm ve bayramını kutladım. Bu akrabam kimdir?

- A) Dedesi B) Dayısı C) Amcası

5



Sabah kahvaltı yapamadım, silgimi kaybettim ve canım çikolata istiyor.

- Aykut ilk önce hangisini almalıdır?
A) Simit B) Silgi C) Çikolata

Oyun oynarken hangisinden kaçınmalıyız?

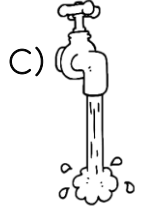
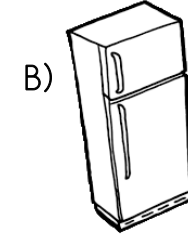
6



- A) Arkadaşlarımızla eğlenceli vakit geçirmekten.
B) Kaba davranışlarda bulunmaktan.
C) Öfkemizi kontrol etmekten.


7

Aşağıdakilerden hangisi tutumlu olmayı ve tasarrufu aklımıza getirir?



8

Senin yüzünden yenildik. Çok beceriksizsin!



Beden Eğitimi ve Oyun dersinde Buse ve Kaan'ın takımı yenildi. Buse, Kaan'a nezaket ifadelerine dikkat ederek duygu ve düşüncelerini nasıl söylemelidir?


- A) Kaan bir daha seninle aynı takımda olmak istemiyorum.
B) Üzülme arkadaşım. Bir dahaki oyunda daha dikkatli oynarsak kazanabiliriz.
C) Kaybedeceğimiz belliydi zaten, beni hiç dinlemedin.

9




**Grup çalışmalarında
nelere dikkat etmeliyiz?**

Öğretmenin tahtaya yazdığı soruyu hangi öğrenci yanlış cevaplamıştır?




A)

Farklı düşüncelere saygı göstermeliyiz.



B)

Sorumluluklarımızı yerine getirmeliyiz.



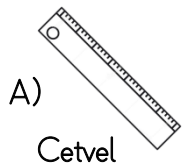
C)

Bencillik yapmalıyız.

10

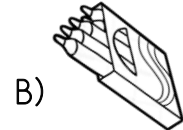
Aşağıdaki ders programına göre Ela, Cuma günü okul çantasına hangisini koymamalıdır?

CUMA
Beden Eğitimi
Türkçe
Türkçe
Matematik
Görsel San.
Serbest Etk.



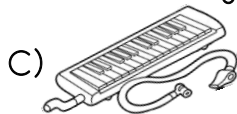
A)

Cetvel



B)

Boya kalemi



C)

Melodika

11



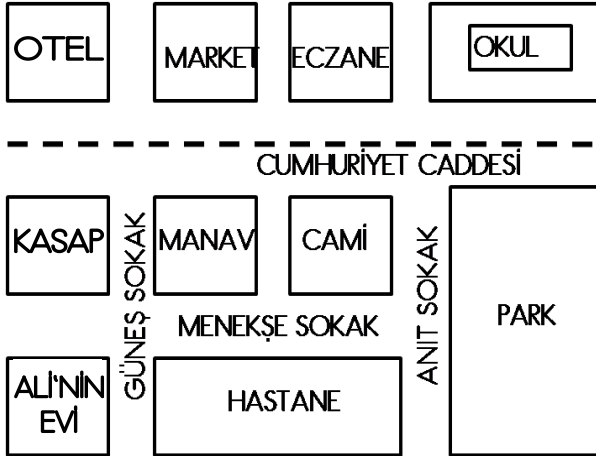
Yukarıdaki resme göre Celal hangi sınıf kuralına uymamaktadır?

A) Sınıfta gürültü yapmamalıyız.

B) Sıramızı temiz ve düzenli tutmalıyız.

C) Arkadaşımızdan bir şey aldığımızda teşekkür etmeliyiz.

12



Ali evlerine ilk defa gelen dayısına okulunun yerini nasıl tarif etmelidir?

A) Güneş Sokak boyunca ilerleyip Cumhuriyet Caddesine gelince sağa dönmeli ve yürümelisin. Okulumuz eczanenin sağındadır.

B) Menekşe Sokaktan sağa dönmelisin, okulumuz marketin tam karşısındadır.

C) Güneş Sokak boyunca ilerleyip sola dönmelisin okulumuz otelin yanındadır.

Bu sınav Giray KARAGÜN tarafından hazırlanmıştır.

13



Güzel havalarda okul bahçesine çıkmalıyız çünkü . . .

Mete yukarıdaki konuşmaya nasıl devam etmelidir?

A) Sınıfın havalandırılması gerekir.

B) Öğretmenimiz öyle söyledi.

C) Nöbetçi öğrenciler, öğretmene şikayet eder.

14

△ Müzik dinlemek

□ Televizyon izlemek

○ Çantamızı hazırlamak

Yukarıdakilerden hangileri okulla ilgili işlerden değildir?

A) △○

B) □△

C) □○

15

Güzel şarkı söylerim.



Fatma

Güzel resim yaparım.



İşıl

Çocuklar aralarındaki hangi farklılığı açıklamaktadır?

A) Fiziksel özellik

B) Duygusal özellik

C) Yetenek