


1.




Yukarıdaki **örüntüde** boş bırakılan yere aşağıdakilerden hangisi gelmelidir?



2.



Yukarıdaki **örüntünün** benzeri aşağıdakilerden hangisidir?



3. '2 şapka, 2 etek, 1 pantolon' örüntüsü aşağıdakilerden hangisidir?



4.




ile



şekilleri kullanarak

aşağıdaki **örüntülerden** hangisi oluşturulamaz?



5. Aşağıdakilerden hangisi bir **örüntü** değildir?

A)



5-10-15-20-25-30

B)



3-6-9-12-15-18

C)



4-8-12-16-20-25