

1- Aşağıda verilen sayı ikililerinden hangisinin toplamı 15 eder?

A.  $\begin{array}{|c|c|} \hline 9 & 4 \\ \hline \end{array}$

B.  $\begin{array}{|c|c|} \hline 6 & 8 \\ \hline \end{array}$


C.  $\begin{array}{|c|c|} \hline 8 & 7 \\ \hline \end{array}$

2- Aşağıda verilen sayı ikililerinden hangisinin farkı 9 eder?

A.  $\begin{array}{|c|c|} \hline 16 & 5 \\ \hline \end{array}$

B.  $\begin{array}{|c|c|} \hline 17 & 8 \\ \hline \end{array}$

C.  $\begin{array}{|c|c|} \hline 15 & 7 \\ \hline \end{array}$



3- Yukarıda kalemle modellenmiş olan toplama işlemi aşağıdakilerden hangisidir?

A.  $10 + 8$

B.  $10 + 10$

C.  $9 + 10$

▲  $9+5=14$

★  $12+7=19$

■  $8+13=20$

4- Yukarıdaki toplama işlemlerinden hangisi yanlıştır?

A. ▲

B. ★

C. ■

5- Toplama işlemlerini yapalım. Sonucu farklı olan hangisidir?

A.  $12+8$

B.  $9+8$

C.  $11+6$

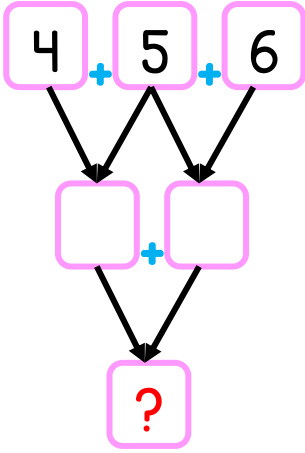
6- Aşağıdaki toplama işlemlerini yapalım. Sonucu en büyük olanı işaretleyelim.

A.  $7+8$

B.  $10+7$

C.  $9+9$





7- Yandaki toplama işleminde “?” olan yere hangi sayı gelmelidir?

A. 20

B. 19

C. 18

8- Aşağıdaki toplama işlemlerini yapalım. Sonucu en küçük olanı işaretleyelim.

A. 6+8

B. 8+7

C. 9+6

9- Serkan'ın 10 lirası vardı. Babası 8 lira, annesi 6 lira verdi. Serkan'ın kaç lirası oldu?

A. 22

B. 23

C. 24

$$\square + 7 = 19$$

10- Yukarıdaki işlem sonucunun bu şekilde çıkması için

$\square$  kaç olmalıdır?

A. 11

B. 12

C. 13



11- Yumurtalarla modellenmiş olan işlem aşağıdakilerden hangisidir?

A. 7+9

B. 16-7

C. 9-7





12-  $\boxed{19} - \boxed{7} = \boxed{?}$  işleminin sonucu kaçtır?

A. 10

B. 11

C. 12

Yirmi dört eksi yedi eşittir ..... eder.

13- Yukarıdaki ifadeye noktalı yere hangisi gelmelidir?

A. 17

B. 18

C. 19

“Otobüste 19 yolcu vardı. Durakta otobüsten 8 yolcu indi, 5 yolcu bindi.”

14- Yukarıdaki açıklamaya göre hangisi doğrudur?

A. Otobüsteki yolcu sayısı arttı.

B. Otobüsteki yolcu sayısı azaldı.

C. Otobüsteki yolcu sayısı değişmedi.

■ + 12 = 18

19 - ▲ = 12

15- Yukarıda verilen işlemlere göre ■ + ▲ işleminin sonucu kaç eder?

A. 13

B. 14

C. 15



16- Otobüsteki yolcudan 17 tanesi bayan 8 tanesi erkektir. Otobüste toplam kaç yolcu vardır?

A. 24

B. 25

C. 26



Oğlum ve kızımın yaşları toplamından 13 fazlayım.

Ben 5 yaşıdayım

Ben 8 yaşıdayım



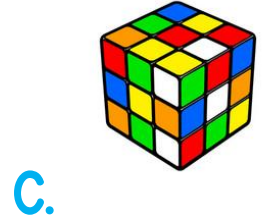
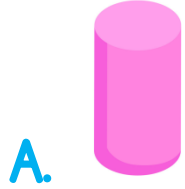
17- Buna göre baba kaç yaşıdadır?

A. 26




B. 27

C. 28

18- Aşağıdaki cisimlerden hangisinin köşesi vardır?



19- Aşağıdaki şekillerden hangisinin yarısı boyanmıştır?



20- Yukarıdaki örüntüde “?” yere hangisi gelmelidir?

A.

B.

C.



✿ 4 kenarı vardır.

✿ Karşılıklı kenar uzunlukları eşittir.

21- Yukarıda açıklaması yapılan şekil hangisidir?

A. Dikdörtgen

B. Üçgen

C. Çember





22- Çocukları uzunluklarına göre karşılaştırdığımızda hangisi yanlış olur?

A. Mert, Ali'den uzundur.

B. Ali, Kayra'dan kısadır.

C. Kayra, Mert'ten kısadır.

23- Aşağıdakilerden hangisi örüntüdür?



24- Yukarıdaki elmalar kaç yarım elma eder?

A. 8

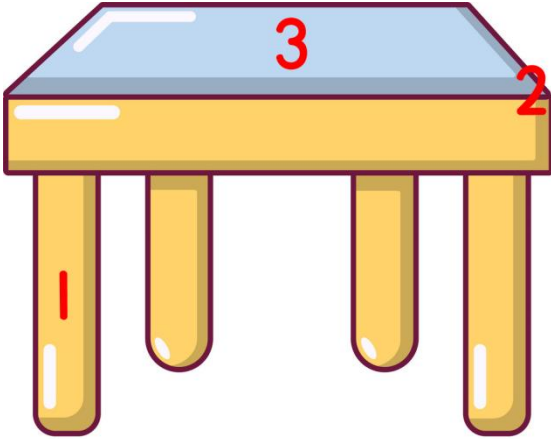
B. 16

C. 18



25- Aşağıdakilerden hangisinin kuralı “1 top, 2 saat 1 kalem” şeklindedir?

- A. 
- B. 
- C. 



26- Yandaki kaç numaralı alan masanın köşesini göstermektedir?

- A. 1  
B. 2  
C. 3

27- Aşağıdaki şekillerin hangisinde köşeli cisim kullanılmıştır?



28- Yarın Salı olduğuna göre dört gün sonrası günlerden ne olacaktır?

A. Perşembe

B. Cuma

C. Cumartesi





Ben Mart ayında doğdum. Arkadaşım Melina benden 6 ay sonra doğmuştur.

29- Buna göre Melina hangi ayda doğmuştur?

A. Ağustos

B. Eylül

C. Ekim

30- 2 birlik ve 1 onluktan oluşan sayı ile 4 birlik ve 0 onluktan oluşan sayının toplamı kaçtır?

A. 25

B. 16

C. 12



31- Nare, sabah okula geliyor. Buna göre saat aşağıdakilerden hangisi olamaz?

A.12.00

B.08.00

C.09:00

32- Bizim çiftlikte 1 inek, 3 koyun, 2 tavuk vardır.

Buna göre çiftlikte hayvanların ayak sayılarının toplamı kaç olur?

A. 18

B. 20

C.22

$$4 + 7 = 19 - ?$$

33- “?”” yere kaç yazılmalıdır?

A. 7

B. 8

C.9



# CEVAP ANAHTARI

1-C

2-A

3-B

4-C

5-A

6-C

7-A

8-A

9-C

10-B

11-B

12-C

13-A

14-B

15-A

16-B

17-A

18-C

19-C

20-C

21-A

22-C

23-B

24-B

25-C

26-B

27-C

28-B

29-B

30-B

31-A

32-B

33-A

En büyük **TEŞEKKÜR Facebook** sayfamıza arkadaşlarınızı davet etmeniz olacaktır.



[www.facebook.com/ilkokulevim](http://www.facebook.com/ilkokulevim)