


MATEMATİK DEVAM. AFERİN ÇOCUKLAR...




Unutma: Soruları dikkatlice okuyup, defterimize yazıp - çözelim.

GÖREV- 1: Şekilleri defterine çiz ve açıklamaları defterine yaz.


KESİRLER-1



BÜTÜN



YARIM



ÇEYREK

BÜTÜN: Bölünmemiş, parçalanmamış bir varlığın tamamına **BÜTÜN** denir.

YARIM: Bir bütünün iki eş parçasından her birisine **YARIM** denir.

ÇEYREK: Bir bütünün dört eş parçasından her birine **ÇEYREK** denir.

Dört İşlem Problemleri

GÖREV - 2: Soruları oku ve anla

GÖREV - 3: Soruları defterine yaz ve çöz.

- 1) Talha, onlar basamağı 4 ve birler basamağı 5 olan bir sayıyı 5 ile bölerse, bölüm kaç olur?

Çözüm:

- 2) Bir çiftlikte 7 inek var, ineklerin 4 katı kadar koyun vardır. Çiftlikteki inek ve koyunların toplamı kaçtır?

Çözüm:

- 3) 4 sayısının 9 katının 27 eksiği kaçtır?

Çözüm:

- 4) Bir otobüste 7 kadın yolcu, kadın yolcuların 3 katı kadar erkek yolcu vardır. Bu otobüste 5 tane de çocuk yolcu olduğuna göre, otobüste kaç yolcu vardır?

Çözüm:

- 5) Hasan'ın yaptığı bölme işleminde bölünen 36, bölen ise 4 ' dür. Acaba bölüm kaçtır?

Çözüm:

