




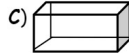





GENEL TEKRAR DENEME SINAVI 2

1. 1. "a, ı, o, u" harfleri kalın ünlüdür. "e, i, ö, ü" harfleri ince ünlüdür. Verilen bilgiye göre aşağıdaki kelimelerden hangisindeki tüm ünlü harfler incedir?
A) taşıt B) taksi C) gemi
2. 2. "Alfabemizde harf vardır." cümlesinde boş bırakılan yere aşağıdakilerden hangisi yazılmalıdır?
A) yirmi dokuz B) on iki C) sekiz
3. 3. "Türkçe'de sözcüklerin başında harfi bulunmaz." cümlesinde boş bırakılan yere hangisi yazılmalıdır?
A) z B) ğ C) j
4. 4. Hangi kelimenin hecelenişi doğrudur?
A) kuv-vet-li B) pır-a-sa C) t-ren-ler
5. 5. "Benim yüzüğüm üç giram geliyor." cümlesinde baştan kaçınıcı kelime yanlış yazılmıştır?
A) dördüncü B) üçüncü C) ikinci
6. 6. Aşağıdaki kelimelerden hangisi eş anlamlı değildir?
A) konuk - misafir B) vatan - yurt C) öfkeli - neşeli
7. 7. Hangi cümlede kesme işareti (') yanlış kullanılmıştır?
A) Türkiye'yi çok seviyorum.
B) Yarın Samsu'na gideceğiz.
C) Rabi'a'nın, oyuncak bebeği kaybolmuş.
8. 8. "A - O - D - L - P - T " harfleri ile hangi kelime yazılamaz?
A) Palto B) Topuk C) Polat
9. 9. "Havalar soğuduğu için kazakları dolaptan çıkardık." cümlesinde hangi sorunun cevabı yoktur?
A) kim B) niçin C) nereden
10. 10. "ben" kelimesi hangi cümlede yücutta bulunan kahverengi noktalar anlamında kullanılmıştır?
A) Ben, anneme her zaman yardım ederim.
B) Ablam ve ben markete gideceğiz.
C) Yüzümdeki ben biraz küçülmüş.

11. 11. Aşağıdaki kelimelerden hangisi bir hayvana verilen özel bir isimdir?
A) Minnoş B) kuş C) balık

12. 12. Aşağıdaki cisimlerden hangisi **koniye** benzer?
A)  B)  C) 

13. 13. Hangi geometrik cismin ayrıtları daha **azdır**?
A)  B)  C) 

14. 14. Hangi seçenekteki geometrik cisim modelinde, **köşe vardır**?
A)  B)  C) 

15. 15. Sevgi'nin 5 tokası vardı. Tokalarının **bir düzine** olması için kaç tane daha toka almalıdır?
A) 5 B) 6 C) 7

16. 16. Her gün 2 TL harcayan bir çocuk **1 haftada** kaç lira harcar?
A) 7 TL B) 14 TL C) 9 TL

17. 17. Annem 1 **düzine** yumurta, babam ise 1 **deste** yumurta aldı. Evimizde toplam kaç yumurta oldu?
A) 12 B) 20 C) 22

18. 18. 74 sayısında, onlar basamağındaki sayının **basamak değeri** kaçtır?
A) 70 B) 40 C) 7

19. 19.  
Yukarıda onluk ve birlikleri gösterilen sayı hangisidir?
A) 26 B) 29 C) 39

20. 20. "altmış yedi" sayısında kaç onluk ve kaç birlik vardır?
A) 7 onluk, 6 birlik B) 6 onluk, 7 birlik C) 3 onluk, 7 birlik

21. 21. 50 Kr'un içinde kaç tane 10 Kr vardır?
A) 5 tane B) 4 tane C) 2 tane

22. 22. Karenin kaç köşesi vardır?
A) 2 köşesi B) 3 köşesi C) 4 köşesi
23. 23. Nur, arkadaşı Şeyma'ya "Nasılsın?" dedi. Şeyma'nın cevabı ne olmalıdır?
A) İyiyim, sen nasılsın? B) Sana ne! C) Fena sayılmaz.
24. 24. Hangisi okulda uymamız gereken kurallardandır?
A) sınıfa koşarak girmek
B) derste söz alarak konuşmak
C) okulda ellerimizi yıkamamak
25. 25. Aşağıdakilerden hangisi günlük işlerini sıraya koyar ve zamanında yapar?
A) yaramaz çocuk B) plânlı çocuk C) tembel çocuk
26. 26. Hangi taşıtla caddelerde karşılaşmayız?
A) otomobil B) motosiklet C) feribot
27. 27. Aşağıdakilerden hangisi trafikteki yanlış bir davranıştır?
A) Yeşil ışıkta karşıya geçmek.
B) Her yerde bisiklete binmek.
C) Yaya kaldırımından yürümek.
28. 28. Aşağıdaki taşıtlardan hangisi insan taşımak için kullanılır?
A) minibüs B) traktör C) kamyonet
29. 29. Bize yardımcı olan birine ne demeliyiz?
A) iyi günler B) günaydın C) teşekkür ederim
30. 30. Hangisi kişisel bakım için gereklidir?
A) kalem B) şampuan C) tebeşir
31. 31. Cumhuriyetten önce yurdumuzu kim yönetiyordu?
A) başbakan B) cumhurbaşkanı C) padişah
32. 32. Hangisi vücudumuzun bölümleri arasında yer almaz?
A) tırnak B) baş C) gövde

33. 33. Aşağıdakilerden hangisinde her sabah yapılan kişisel bakım sırası doğrudur?
- A) tarama - diş fırçalama - el, yüz yıkama
B) el, yüz yıkama - kahvaltı - diş fırçalamak
C) el, yüz yıkama - diş fırçalamak - kahvaltı

ALI ÇEVİK