



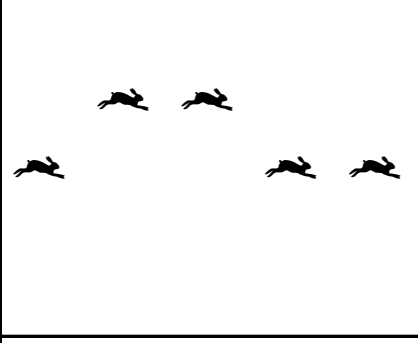
Modellere uygun çıkarma işlemlerini yan taraftaki boşluklara örnekteki gibi yazın.

$$7-4=3$$

Modellere uygun çıkarma işlemlerini yan taraftaki boşluklara örnekteki gibi yazın.

$$9-5=4$$

Kutulardaki hayvanların on tanesini yuvarlak içine alın. Kutulardaki hayvan sayılarının onluk, birliklerini ve sayılarını altlarındaki tablolarda gösterin.






Onluk	Birlik
.....
.....	

Onluk	Birlik
.....
.....	

Onluk	Birlik
.....
.....	

Kutulardaki hayvanların on tanesini yuvarlak içine alın. Kutulardaki hayvan sayılarının onluk, birliklerini ve sayılarını altlarındaki tablolarda gösterin.



Onluk	Birlik
.....
.....	

Onluk	Birlik
.....
.....	

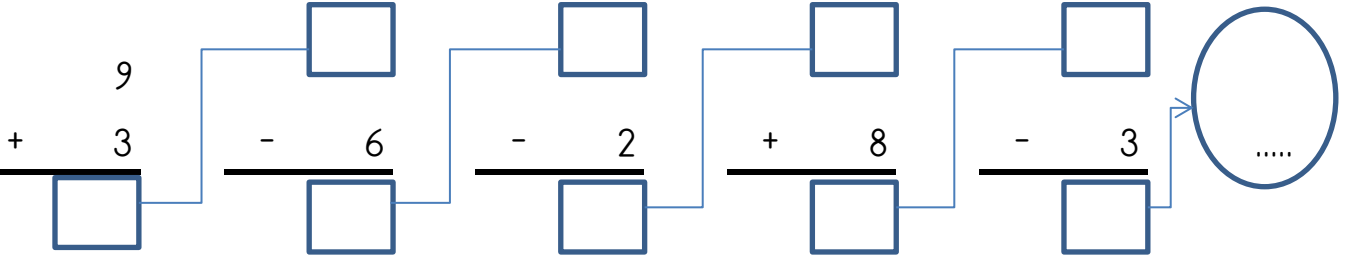
Onluk	Birlik
.....
.....	

MİNİ TEKRAR ÇALIŞMASI 1

$4 - 2 = \dots\dots$

$5 + 1 = \dots\dots$

$7 + \dots\dots = 11$



Kelimelerin zıt anlamlarını karşılarına yazın.

GEÇ	E.....
FAKİR	Z.....

ÇIKIŞ	G.....
SICAK	S.....

Aşağıdaki kelimeleri sözlük sırasına göre numaralandırın.

AL	
BAYKUŞ	
AĞUSTOS	

ELEKTRİK	
KELİME	
KİRLİ	

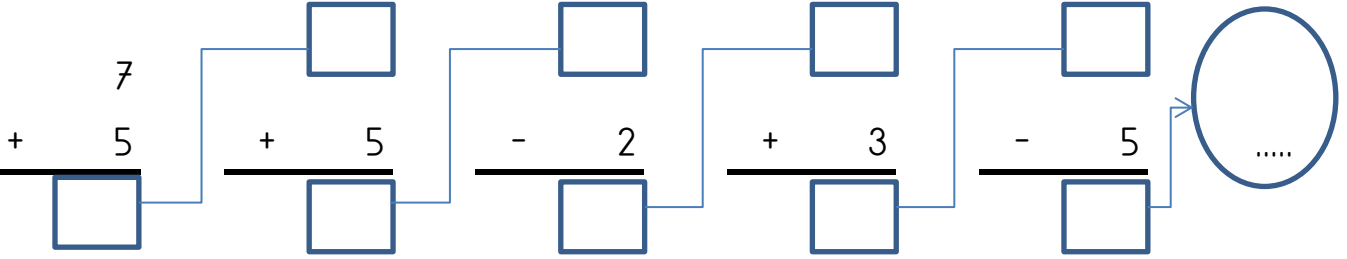
SAHTE	
GÖSTER	
KUTLAMA	

MİNİ TEKRAR ÇALIŞMASI 1

$\dots\dots + 5 = 6$

$10 + 9 = \dots\dots$

$12 - 1 = \dots\dots$



Kelimelerin zıt anlamlarını karşılarına yazın.

SOĞUK	S.....
ZENGİN	F.....

GÜZEL	Ç.....
KAYBETMEK	B.....

Aşağıdaki kelimeleri sözlük sırasına göre numaralandırın.

ÖZLEM	
KİMLİK	
TUZ	

AMCA	
TURŞU	
TATLI	

GİYSİ	
ÖĞREN	
UYUM	