

Aslan, Kurt ve Tilki



Günlerden bir gün, aslan, kurt ve tilki arkadaş olmuşlar, ortak akıl ile avlanmaya karar vermişler. Günün sonunda, bir öküz, bir keçi ve bir de tavşan avlayan kafadarlar avlarını bir mağaraya getirmişler. Aslan kurda dönerek "Hadi bakalım!"

demiş. "Şu hayvanları paylaşır da karnımızı doyuralım." Kurt ezile büzüle: "Ey büyük sultanım." Demiş. "Şu öküzü siz buyurun, keçi benim, tavşanda tilki kardeşin olsun."



Aslan birden kükremiş. Ve "Bre küstah!" demiş. "Sen kim oluyorsun? Bu nasıl adalet?" Sonra da bir pençe darbesiyle kurdu yere sermiş. Bu kez tilkiye dönüp "Öyle aval aval bakma da paylaşır şu avları bakalım."

Tilki "Pay etmek haddim değil ama madem emir buyurdunuz söyleyeyim. Tavşan sabah kahvaltınız, öküz öğle yemeğiniz olur. Keçiği de akşam yersiniz."



öğrendim."

Aslan bu paylaştırmadan çok hoşlanmış ve tilkiye, bu kadar adil bir paylaşımı nereden öğrendiğini sormuş. Tilki de: "Yüce efendim!" demiş. "Şu haddini bilmez kurdu halinden

Günlük Görevim -5

Aşağıdaki soruları şiire göre yanıtlayın.

1- Hangi hayvanlar arkadaş olmuşlar?

2- Hayvanlar ne yapmaya karar vermişler?

3- Hayvanlar günün sonunda neler avlamışlar?

4- Aslan kurda nasıl tepki göstermiş?

5- Aslan tilkinin paylaşımına nasıl tepki göstermiş?

Cümleler metne göre doğruysa "D", yanlışsa "Y" kutusunu boyayalım.

a. Aslan kurta kükremiş.

 D Y

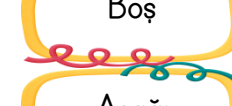
b. Hayvanlar koyun avlamışlar.

 D Y

c. Tilki kurnazlık yapmış.

 D Y

Aşağıdaki zıt anlamlı kelimeleri örnekteki gibi eşleştiriniz.



MATEMATİK

Aşağıdaki tablolardaki noktalı yerleri dolduralım.

SAYI	Birler Basamağı	Onlar Basamağı
.....	7	1

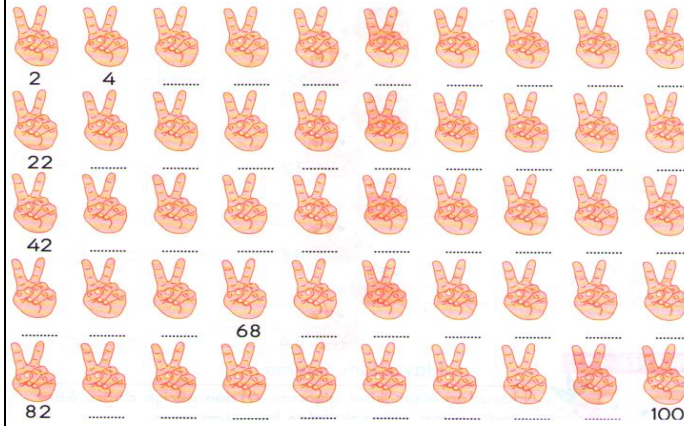
SAYI	Birler Basamağı	Onlar Basamağı
49

SAYI	Basamak Değeri	Basamak Değeri
.....	0	70

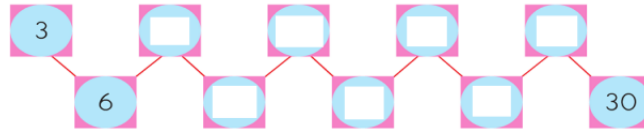
SAYI	Basamak Değeri	Basamak Değeri
55

SAYI	Basamak Değeri	Basamak Değeri
.....	9	90

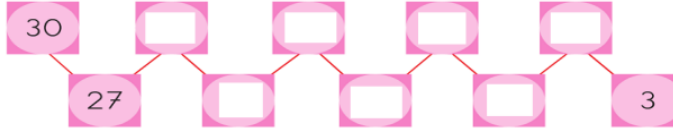
★ Aşağıdaki boşluklara 2'şer ritmik sayıp yazalım



★ Aşağıdaki boşluklara 3'er ritmik sayıp yazalım.



★ 30'dan başlayarak geriye 3'er ritmik sayıp yazalım.



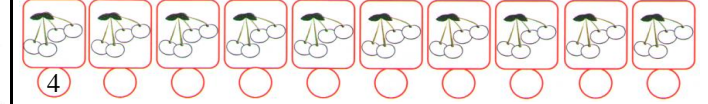
★ 12'den başlayarak ileri doğru 3'er ritmik sayıp elmaların içine yazalım.




★ 27'den başlayarak geri doğru 3'er ritmik sayıp armutların içine yazalım.



★ Aşağıdaki boşluklara 4'er ritmik sayıp yazalım.



★ 40'dan başlayarak geriye 4'er ritmik sayıp yazalım.



HAYAT BİLGİSİ

★ Aşağıdaki soruları cevaplayınız.

- Aylın zeki bir kızdır.
a) Fiziksel özellik b) Kişisel özellik
- Alı'nın kıvrık saçları var.
a) Fiziksel özellik b) Kişisel özellik
- Beren'in siyah gözleri var.
a) Fiziksel özellik b) Kişisel özellik
- Halil hafif kilolu bir çocuktur.
a) Fiziksel özellik b) Kişisel özellik
- Atatürk vatanını çok seven bir liderdir.
a) Fiziksel özellik b) Kişisel özellik
- Atatürk sarı saçlı, mavi gözlü bir liderdir.
a) Fiziksel özellik b) Kişisel özellik
- Alı'nın babası uzun boyludur.
a) Fiziksel özellik b) Kişisel özellik

BİLMECE ÇÖCELİM

Tarlada yeşil
Markette siyah
Evde kırmızı olan
Bitki hangisidir?



Kitap okumak istersen
Oraya koşarsın sen
Raflardan seçtiğini
Bir incele istersen.

