






## BASAMAK ADLARI

Onlar basamağında 6 olan sayıların yıldızlarını işaretleyelim.



Yüzler basamağında 3 olan sayıların yıldızlarını işaretleyelim.



Birler basamağında 8 olan sayıların yıldızlarını işaretleyelim.



Onlar basamağında 5 olan sayıların yıldızlarını işaretleyelim.

