


## VERİ TOPLAMA VE DEĞERLENDİRME

1. Etkinlik: Aşağıdaki şekil grafiğine bakarak soruları cevaplayalım.

Tablo: Okunan Kitap Sayısı

İsimler	Sayısı
Sinem	
Arda	
Kenan	
Aslı	

Grafikte her  6 kitabı göstermektedir.

1. En çok kitap okuyan kimdir? Kaç tane okumuştur ?

.....

2. En az kitap okuyan kimdir? Kaç tane okumuştur ?

.....

3. Arda ve Kenan toplam kaç kitap okumuştur ?

.....

4. Kenan kaç sayfa okursa Aslı kadar okumuş olur ?

.....

5. Sinem 18 sayfa daha okusaydı kaç sayfa okumuş olacaktı ?

.....

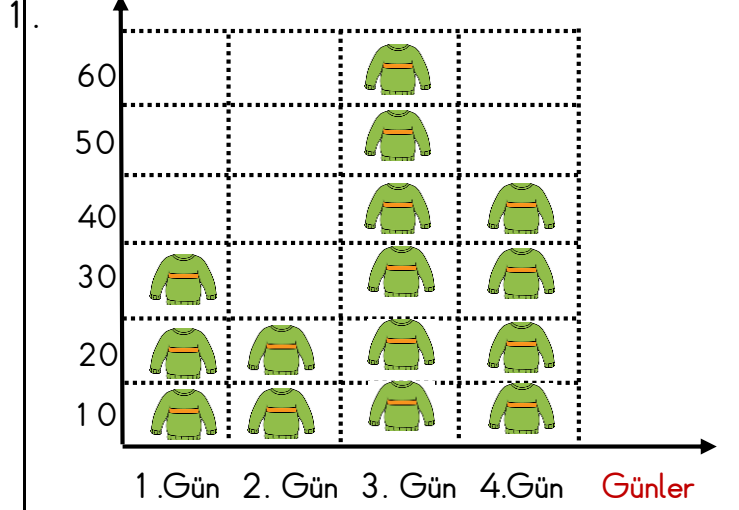
6. En fazla okuyan en az okuyandan kaç sayfa fazla okumuştur ?


.....

2. Aşağıdaki şekil grafiğine bakarak soruları cevaplayalım.

Grafik: Mağazada Satılan Kazak Sayısı

Kazak Sayısı



Grafikte her  10 kazağı göstermektedir.

1. En fazla hangi gün kazak satılmıştır ? Kaç tanedir?

.....

2. En az hangi gün kazak satılmıştır ? Kaç tanedir?

.....

3. 1. gün 25 tane daha kazak satılsaydı kaç kazak satılmış olurdu ?

.....

4. 3. gün satılan kazaklar , 2. gün satılan kazaklardan kaç tane fazladır ?

.....

5. 4. gün 16 kazak eksik satılsaydı kaç tane kazak satılmış olurdu ?

.....

6. 4 gün sonunda toplam kaç tane kazak satılmış ?

.....