


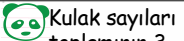




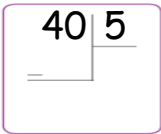


Adı Soyadı:.....

GÖREV 1	GÖREV 2	GÖREV 3	GÖREV 4
Topla $15 + 43 = \dots$	Çıkar $78 - 52 = \dots$	Çarp $9 \times 5 = \dots$	Böl $24 : 3 = \dots$
 Ayak sayıları toplamı kaç? .....	 Kanat sayıları toplamı kaç? .....	 Hortum ve kulak sayıları toplamı kaç? .....	 Kulak sayıları toplamının 3 katı kaç? .....
En yakın onluğunu yaz $55 \rightarrow$	Hangi onluklar arasında olduğunu yaz $\leftarrow 73 \rightarrow$	İki basamaklı en büyük sayıyı yaz .....	İki basamaklı en küçük sayıyı yaz .....
Bütün elma çiz	Yarım ekmek çiz	Çeyrek karpuz çiz	Yarım armut çiz
10 sayısının 5 katı kaçtır? .....	45 ineğin 17 eksiği kaçtır? .....	16 sayısının yarısı kaçtır? .....	33 elmanın 29 fazlası kaçtır? .....
 Ne kadarı boyalı ?	 Ne kadarı boyalı?	 Ne kadarı boyalı?	 Ne kadarı boyalı?
10 bütün kaç yarım eder?	12 çeyrek kaç yarım eder?	4 yarım kaç çeyrek eder?	16 çeyrek kaç bütün eder?
	$6 \times 5 =$ $8 \times 2 =$	7 bütün ile 4 çeyreğin toplamı kaç yarım eder? .....	Bölünen 21 bölün 3 ise bölüm ve kalanın toplamı kaçtır? .....