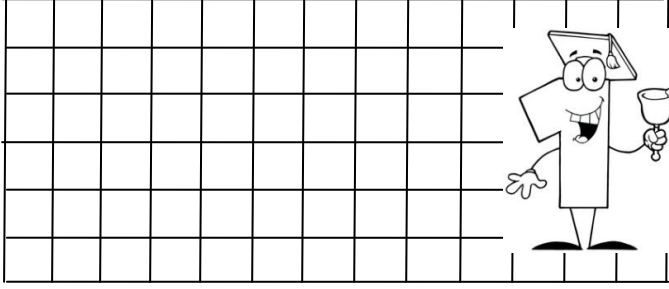



## TOPLAMA İŞLEMİ PROBLEMLER


1. Kutuda 9 tane boncuk vardı. Sinem 6 tane boncuk daha koydu. Kutuda kaç tane boncuk oldu?



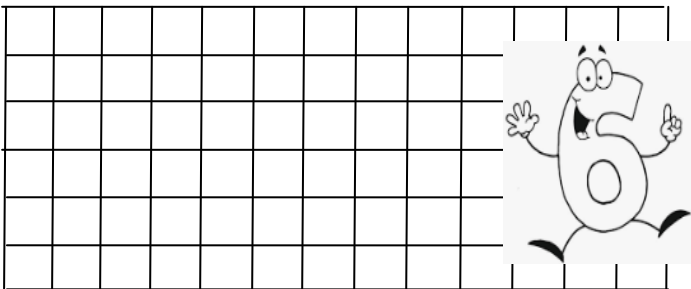
2. Sepette 7 tane sarı 7 tane kırmızı elma var. Sepette kaç tane elma vardır ?




3. Ablam her gün 6 saat ders çalışıyor. Ablam iki günde kaç saat ders çalışır ?



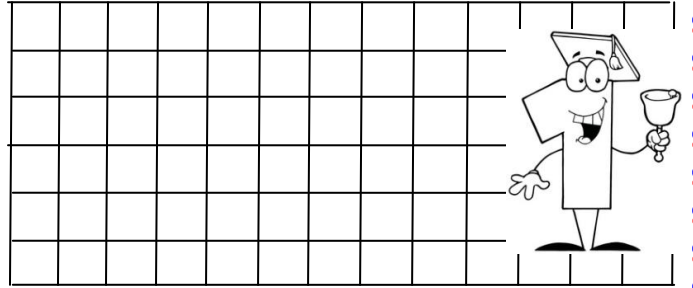
4. Ağaçtaki kuşlardan 9 tanesi uçunca. geriye 6 tane kuş kalmış. Kuşlar uçmadan önce ağaçta kaç tane kuş vardı ?




5. Sınıfta her gün 9 tane problem çözüyoruz. İki günde toplam kaç tane problem çözeriz ?



6. Fatma 12 , Pelin 8 yaşındadır. İkisinin yaşları toplamı kaçtır ?



7. Vedat'ın 10 tane bilyesi vardı. Arkadaşı Vedat'a 6 tane daha bilye verdi. Vedat'ın kaç tane bilyesi oldu ?



8. Gizem'in 7 lirası vardı. Babası Gizem'e 5 lira daha verdi. Gizem'in kaç lirası olmuştur ?

