



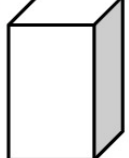


1. **23 NİSAN**
- | | |
|-----------------|-----------------|
| 23 Nisan | Bizi kurtaran |
| Yurdu koruyan | Öndere inan |
| Yarını kuran | Sözünü tutan |
| Sen ol çocuğum. | Sen ol çocuğum |
| Eskiği unut | Küçüksün bugün |
| Yeni yolu tut | Yarın büyüsün |
| Türklüğe umut | Her işte üstün |
| Sen ol çocuğum. | Sen ol çocuğum. |
- Hasan Ali YÜCEL*
- İlk dört soruyu yukarıdaki şiire göre cevaplayınız.**
1. Yarını koruyan kim olmalıdır?
A) Gençler B) Çocuklar C) Aileler
2. Eskinin unutulması neden isteniyor?
A) Yeni bir yol çizmek için
B) Üzülmemek için
C) Eskidiği için
3. Çocuk kime karşı sözünü tutmalıdır?
A) Arkadaşlarına
B) Yaşlılara
C) Büyük önder Atatürk'e
4. Son kıtayı en iyi açıklayan cümle hangisidir?
A) Bugünün küçüğü, yarının büyüğüdür.
B) Her işi başarmalısın.
C) Sen küçük bir çocuksun.
5. Aşağıdaki seçeneklerden hangisi sözlük sırasına göre sıralanmıştır?
A) gül – menekşe – çiğdem
B) kaplan – deve – maymun
C) cetvel – defter – fatura


6. "yüz" sözcüğü hangisinde farklı bir anlamda kullanılmıştır?
A) Gülünce yüzünde güller açıyordu.
B) Yüzmeyi çok seviyorum.
C) Yüzündeki sivilce güzelliğini bozuyordu.

7.  Elle tutulan, gözle görülen nesnelere somut varlık denir. Bu varlık isimlerine de somut isim denir.
- Aşağıdakilerden hangisi somut isimdir?
A) üzüntü B) mutluluk C) kitap

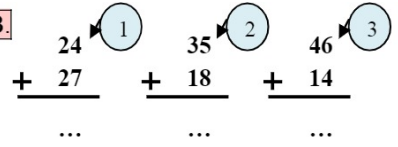
8. Hangi cümlede zıt (karşıt) anlamlı kelimeler bir arada kullanılmıştır?
A)  Zenginler, fakirlere yardım etsin.
B)  Temiz elbiseleri dolaba koydum.
C)  İyilik yapan iyilik bulur.

9.  Dikdörtgenler prizmasının;
I. 6 tane yüzü vardır.
II. 12 tane ayrıtı vardır.
III. 8 tane köşesi vardır.
- Yukarıda verilen bilgilerden hangisi ya da hangileri doğrudur?
A) III B) I, II, III C) II

10. **10.** Masanın boyu Ahmet'in karışıyla **6**, Gülcan'ın karışıyla **7** karış gelmektedir. Ahmet ve Gülcan masanın uzunluğunu hangi ölçme aracıyla ölçerlerse, ikisinin sonucu da aynı olur?
A) metre B) kulaç C) parmak


11. **11.**  Benim adım Şeyma. Kitaplığımda 41 tane hikâye kitabım var.
Şeyma, kitaplarından kaç tanesini sınıf kitaplığına hediye ederse, geride 3 düzine hikâyesi kalır?
A) 38 B) 36 C) 5

12. **12.** Bir sınıfta **17** kız öğrenci var. Erkek öğrenciler kızlardan **4** tane fazladır. Bu sınıfın mevcudu kaç öğrencidir?
A) 21 B) 25 C) 38


13. **13.**  Hangi işlemin sonucu en büyüktür?
A) 1 B) 2 C) 3

14. **14.**  Yukarıdaki koyunların ayak sayılarının toplamı aşağıdaki işlemlerden hangisiyle bulunabilir?
A) 4×5 B) 5×4 C) $5 + 4$

15. **15.** Bir sınıfta **28** öğrenci vardır. Öğrenciler **7** sosyal kulübe eşit olarak paylaşılacaktır. Bir kulübe kaç öğrenci gitmesi gerekir?
A) 4 B) 5 C) 21


16. **16.**  Benim 12 tane şekerim var. Şekerleri 3 arkadaşım ile eşit olarak paylaşırsam her birimize kaç şeker düşer?
A) 9 B) 4 C) 3

17. **17.** Bir bölme işleminde **bölen 3**, **bölüm 6** ise **bölünen** sayı kaçtır?
A) 18 B) 15 C) 9

18. **18.**  İnsanların geçmiş yaşantıları hakkındaki bilgilere öz geçmiş denir.

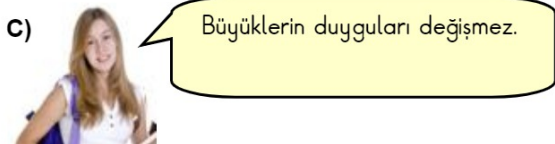
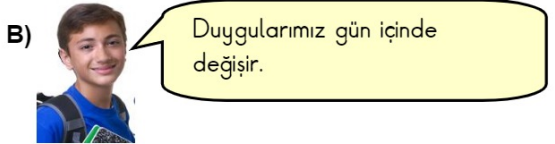
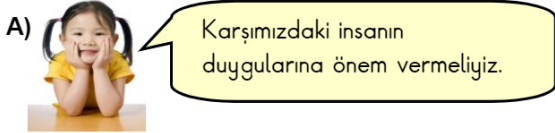
Yukarıdaki bilgiye göre aşağıdakilerden hangisi öz geçmişimizde yer **almaz**?

- A) doğum yeri ve tarihi
B) gideceğimiz lisenin adı
C) annemizin adı
19. **19.** Bebekliğimize ait aşağıdaki bilgilerden hangisi **yanlıştır**?
A) Önce emeklemeye, sonra da yürümeye başlarız.
B) Tüm ihtiyaçlarımızı ailemiz karşılar.
C) Beslenme ve giyinme ihtiyaçlarımızı kendimiz karşılarız.
20. **20.** Öğretmenimiz ülkelerde oynanan oyunları araştırmamızı istedi. Tüm arkadaşlarım araştırmalarını sundular. Ve çok farklı oyun isimleri duydum. **Buna göre aşağıdakilerden hangisi söylenebilir**?
A) Farklı ülkelerdeki çocukların oyunları farklıdır.
B) Farklı ülkelerdeki çocuklar aynı giysileri giyerler.
C) Farklı ülkelerdeki çocuklar aynı yemekleri severler.

21. **21.**  23 Nisanda niçin bayram yapıyoruz?

Öğrencilerimizin sorduğu sorunun cevabı hangisidir?

- A) Cumhuriyet kurulduğu için.
B) Türkiye Büyük Millet Meclisi açıldığı için.
C) Kurtuluş Savaşı kazanıldığı için.
22. **22.** “Atatürk, tüm mal varlığını Türk milletine bırakmıştır.” Bu davranışı, Atatürk’ün hangi özelliğini belirtmektedir?
A) İnsan sevgisini
B) Çocuk sevgisini
C) Vatan ve ulus sevgisini
23. **23.** Aşağıdakilerden hangisi günümüzde önemini yitirmiş mesleklerdendir?
A) Bilgisayar mühendisliği
B) Nalbantlık
C) Pilotluk
24. **24.** Aşağıdaki çocuklardan hangisinin söylediği yanlıştır?



25. **25.** Sağ kolumuzu güneşin battığı yöne doğru uzatırsak, sol kolumuz hangi yönü gösterir?
A) doğu B) batı C) güney