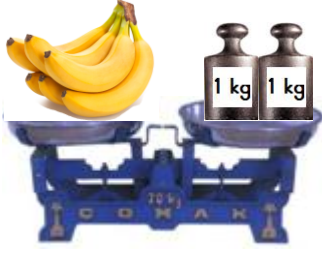


TARTMA

1. Etkinlik: Aşağıda verilen ağırlık (kütle) ölçüm sonuçlarını yazınız. Ölçüm sonucuna göre "ağırdır veya hafiftir" ifadelerinden uygun olanını boyayınız.




Muzun ağırlığı kg'dır.

Muz , elmadan

ağırdır

hafiftir



Elmanın ağırlığı kg'dır.




Unun ağırlığı kg'dır.


Karpuz , undan

ağırdır

hafiftir



Karpuzun ağırlığı kg'dır.




Patatesin ağırlığı kg'dır.

Patates , soğandan

ağırdır

hafiftir



Soğanın ağırlığı kg'dır.



Tuzun ağırlığı kg'dır.

Tuz , pirinçten

ağırdır

hafiftir



Pirinçin ağırlığı kg'dır.