


TRAFİK GÜVENLİĞİ 4




1. DÖNEM 2. YAZILI (TEST)

Adı - Soyadı:

4. Sınıf **TRAFİK GÜVENLİĞİ**
1. DÖNEM 2. YAZILI TEST

1 • Yaya geçidinin bulunduğu yeri gösterir.
• Bulunduğu yerde yol, beyaz çizgilerle işaretlenir.
• Yaya geçitlerinde ilk geçiş hakkı yayalardır.
• Yayalar, bu işaret levhasının bulunduğu yerden karşıya geçerler.





Yukarıdaki ifadede anlatılan işaret levhası hangisidir?


A)  B)  C)  D) 

 ÇALIŞKAN OKUL

4. Sınıf **TRAFİK GÜVENLİĞİ**
1. DÖNEM 2. YAZILI TEST

2 Aşağıdakilerden hangisi toplu taşıma aracı değildir?

A)  B)  C)  D) 

 ÇALIŞKAN OKUL

4. Sınıf **TRAFİK GÜVENLİĞİ**
1. DÖNEM 2. YAZILI TEST

3 Taşıtlarda, sürücü dışında bulunan kişilere denir. Trafikte yürüyerek hareket edenleredenir. Yukarıdaki ifadelerde boşluğa hangi kavramlar gelmelidir?

A) Sürücü - Yaya
B) Yolcu - Yaya
C) Yaya - Yolcu
D) Yolcu - Sürücü




 ÇALIŞKAN OKUL


4. Sınıf **TRAFİK GÜVENLİĞİ**
1. DÖNEM 2. YAZILI TEST

4 Karayolları Genel Müdürlüğü, yapım ve bakımından sorumlu olduğu kara yollarında trafik güvenliği için gerekli düzenleme ve işaretlemeleri yapmak ve yaptırmakla sorumludur. Bunun için kara yollarında işaretleme ölçütlerini belirleyip yayınlar ve denetler. Trafik işaretleri ve trafik işaret levhaları kara yollarını kullananlara bilgilendirme, uyarı ve yasaklama mesajları verir. Bu mesajlar trafik güvenliğinin sağlanmasına katkı sağlar.

Buna göre görseldeki işaret hangi mesajı verir?

A) Bilgilendirme
B) Uyarı
C) Yasaklama
D) Yavaşla




 ÇALIŞKAN OKUL

4. Sınıf **TRAFİK GÜVENLİĞİ**
1. DÖNEM 2. YAZILI TEST

5 Yararlandığımız toplu taşıma araçlarına zarar vermemeli, zarar verenleri de uyarmalıyız. Hiç kimse kirletilmiş, yıpratılmış ve hor kullanılmış bir taşıtta yolculuk yapmak istemez. Buna göre aşağıdakilerden hangisi yanlıştır?

A) Yolculukta diğer yolcular ve taşıt sürücüsü rahatsız edilmemelidir.
B) Engellilere, hastalara, yaşlılara, hamilelere ve yanında küçük çocuk olanlara yer verilmelidir.
C) Toplu taşıma araçları toplumun ortak malıdır.
D) Taşıtların temiz kullanılması ve yıpratılmaması kullanım ömrünü azaltır.

 ÇALIŞKAN OKUL

4. Sınıf **TRAFİK GÜVENLİĞİ**
1. DÖNEM 2. YAZILI TEST

6 Toplu taşıma araçları çeşitlenerek gelişmiş, daha güvenli ve konforlu hâle gelmiştir. Buna göre aşağıdakilerden hangisi toplu taşıma araçlarını tercih etme nedenlerimizden değildir?

A) Ekonomik olması
B) Güvenilir olması
C) Konforlu olması
D) Ayakta yolculuk imkânı olması

 ÇALIŞKAN OKUL

4. Sınıf **TRAFİK GÜVENLİĞİ**
1. DÖNEM 2. YAZILI TEST

7 Kara yollarında meydana gelen trafik kazaları ile ilgili ilk yardım hizmetlerini planlar ve uygular. Kara yolları üzerinde ilk yardım istasyonları kurar. Bu istasyonlara gerekli personeli, araç ve gereci sağlar. Karayolları Trafik Kanunu ve Yönetmeliği'nde trafik ile ilgili kurumlar ve görevleri tanımlanmıştır. Yukarıda, bu kurumların hangisinden bahsedilmektedir?

A) Karayolları Genel Müdürlüğü C) Sağlık Bakanlığı
B) Emniyet Genel Müdürlüğü D) Ulaştırma Bakanlığı





 ÇALIŞKAN OKUL

4. Sınıf **TRAFİK GÜVENLİĞİ**
1. DÖNEM 2. YAZILI TEST

8 Genellikle yerleşim birimleri içinde yolcu taşımacılığında kullanılan, raylar üzerinde hareket eden tramvayı süren kişi. Yukarıdaki bilgide trafik ile ilgili hangi meslekten bahsedilmektedir?

A) Kaptan B) Pilot C) Makinist D) Vatman




 ÇALIŞKAN OKUL

4. Sınıf **TRAFİK GÜVENLİĞİ**
1. DÖNEM 2. YAZILI TEST

9 Ambulans ve itfaiye gibi özel görevli araçların sürücülerinin hız ve yön değiştirme kurallarına uymama hakkına ne denir?

A) Geçiş üstünlüğü
B) Geçiş hakkı
C) Geçiş sırası
D) Geçiş özelliği






 ÇALIŞKAN OKUL

4. Sınıf **TRAFİK GÜVENLİĞİ**
1. DÖNEM 2. YAZILI TEST

10 Aşağıdaki cümlelerden hangisi yanlıştır?

A) Tehlike uyarı işaretleri genel olarak üçgen şeklindedir.
B) Trafik kurallarına taşıt sürücüsü ve yayalar uymak zorundadır.
C) Toplu taşıma araçlarına binmeden önce kask, dizlik ve dirseklik takılmalıdır.
D) Ulaşım araçlarının tercihinde ulaşım süresi etkilidir.

 ÇALIŞKAN OKUL



Testin çözümlerini YOUTUBE / ÇALIŞKAN OKUL kanalından izleyebilirsiniz.